

RETOS MATEMÁTICOS

Para o alumnado de 5º e 6º de EP.

Continuamos cuns retos matemáticos que vos axudarán a razoar e activar a vosa mente!

Tratade de atopar o valor de cada debuxo e de resolver todas as incógnitas.

Espero que disfrutedes cos desafíos!










Un saúdo e moito ánimo!


$$\text{🍏} + \text{🍏} + \text{🍏} = 30$$

$$\text{🍏} + \text{🍌} + \text{🍌} = 18$$

$$\text{🍌} - \text{🥥} = 2$$

$$\text{🥥} + \text{🍏} + \text{🍌} = ?$$

			17
			11
			9
11	9	17	

 matemáticas a un clic

$$\text{○} + \text{○} = 10$$

$$\text{○} \times \text{□} + \text{□} = 12$$

$$\text{○} \times \text{□} - \text{△} \times \text{○} = \text{○}$$

$$\text{△} = ?$$