

Nombre:

Curso:

1. ¿Cuánto cuestan?

- 6 latas:
- 8 garrafas:
- 7 pilas:
- 8 bolígrafos:




2. Maria dice que puede comprar 9 latas con un billete de 20 euros. Contesta:

¿Tiene razón?: ¿Por qué?:

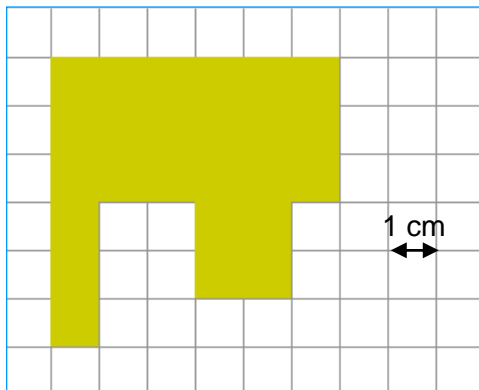
.....

3. ¿Cuánto hay que pagar por 4 pilas y 6 bolígrafos?

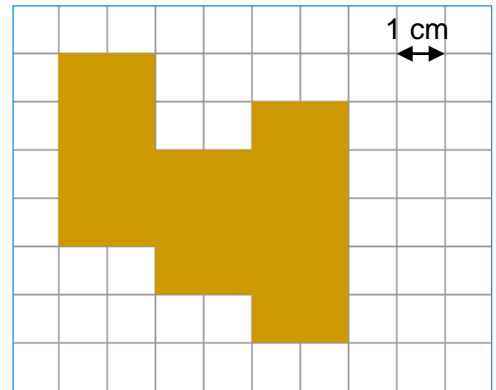
Hay que pagar euros.



4. Escribe el perímetro de cada figura:



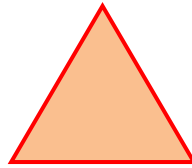




..... centímetros



..... cm

5. Relaciona con flechas.



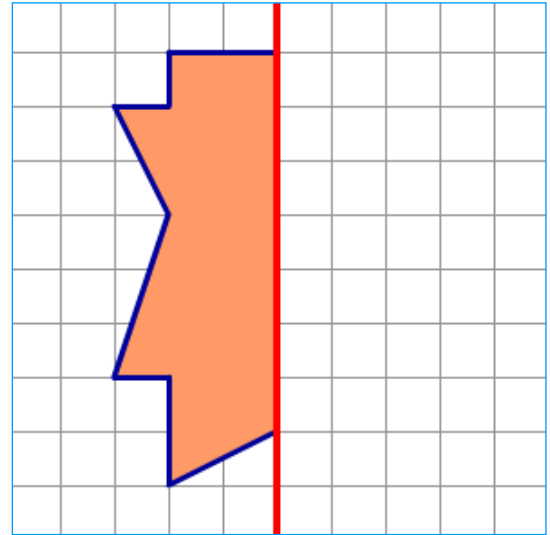
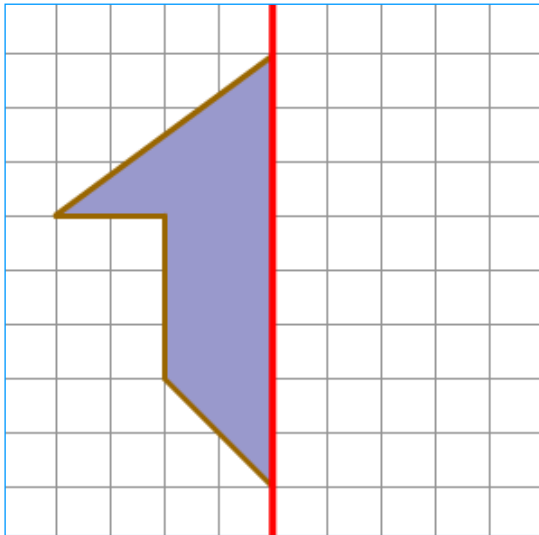
rombo

rectángulo
triángulo

círculo

cuadrado

6. Completa las figuras simétricas.



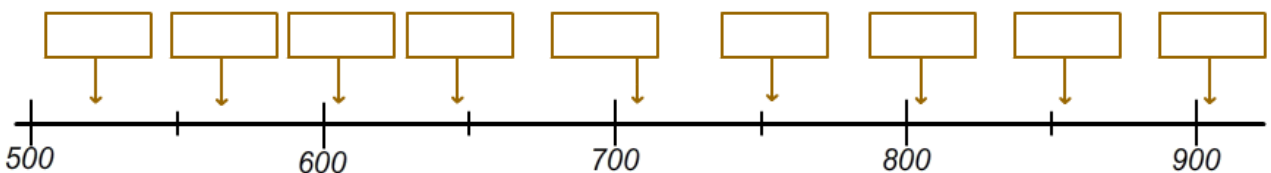
7. Escribe cada número en su sitio.

855

709

646

564



Aproxima a las centenas:

855 →

709 →

646 →

564 →