


4º ED. PRIMARIA

REFORZO – SEMANA 8/12

MATEMÁTICAS:

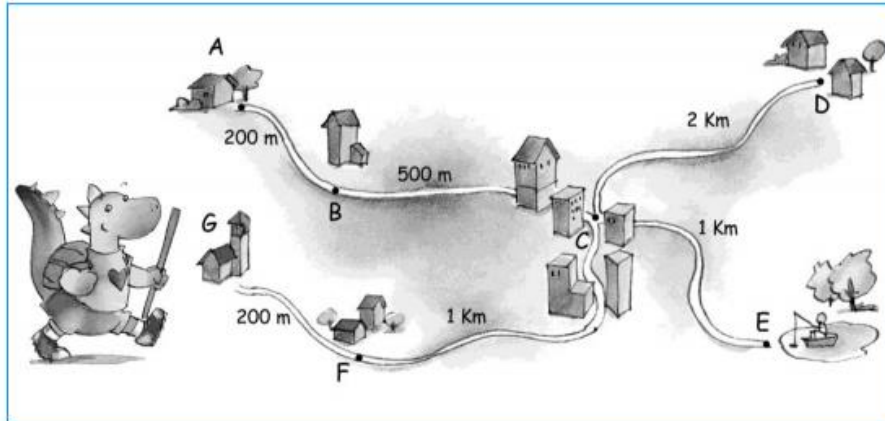
1.

Expresa las alturas de los alumnos con números decimales:



2.

El dragón ha ido de G hasta A y después desde A hasta E.
¿Cuántos kilómetros ha recorrido?




Respuesta:

.....


3.

Cada cuadro de la cuadrícula mide 1 cm de lado. ¿Cuál es el área de cada figura?

Área:



Área:



4.

Completa las equivalencias:

3 m y 50 cm = cm 80 m y 2 cm = cm 900 m y 12 cm = cm

50 cm = mm 3 cm = mm 850 cm = mm

25 m = dm 4 m = dm 350 m = dm

LINGUA:

1) Escribe un FINAL distinto para este conto:

<https://www.youtube.com/watch?v=kOWj3CjmC3s>

LENGUA:

I. Análisis morfológico de las palabras de las siguientes oraciones:

Él.....

Gato.....

Comió.....

Un.....

Pescado.....

II.

Nosotros.....

Compramos.....

Pizza.....

Para.....

Cenar.....

III.

Escribe al menos dos palabras que contengan los siguientes prefijos y sufijos. Puedes usar el libro y el diccionario:

in-

des-

-ita / -ito

-ista / -isto

IV.

Cambia el género y el número de los siguientes nombres:

el gallo → el zoólogo →

la actriz → las condesas →

el duque → las alcaldesas →