


# 4º ED. PRIMARIA

## REFORZO – SEMANA 8/12

### MATEMÁTICAS:

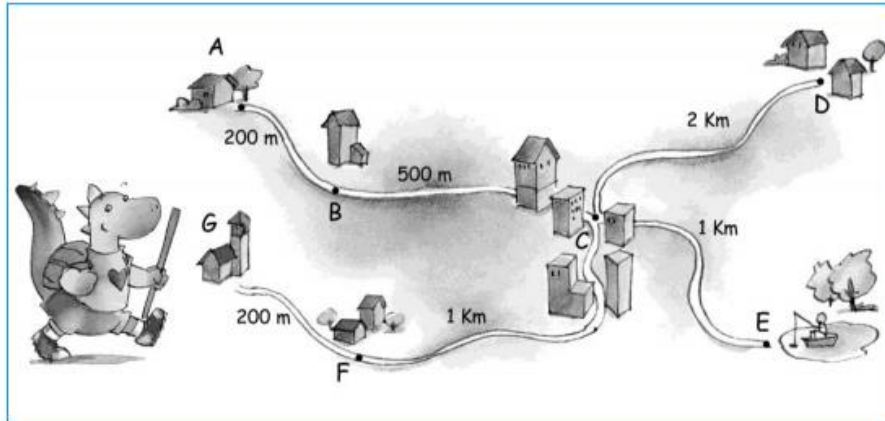
1.

Expresa las alturas de los alumnos con números decimales:



2.

El dragón ha ido de G hasta A y después desde A hasta E.  
¿Cuántos kilómetros ha recorrido?




Respuesta: .....

.....


3.

Cada cuadro de la cuadrícula mide 1 cm de lado. ¿Cuál es el área de cada figura?

Área: .....



Área: .....



4.

Completa las equivalencias:

3 m y 50 cm = ..... cm    80 m y 2 cm = ..... cm    900 m y 12 cm = ..... cm

50 cm = ..... mm    3 cm = ..... mm    850 cm = ..... mm

25 m = ..... dm    4 m = ..... dm    350 m = ..... dm

## LINGUA:

1) Escribe un FINAL distinto para este conto:

<https://www.youtube.com/watch?v=kOWj3CjmC3s>

## LENGUA:

I. Análisis morfológico de las palabras de las siguientes oraciones:

Él.....

Gato.....

Comió.....

Un.....

Pescado.....

II.

Nosotros.....

Compramos.....

Pizza.....

Para.....

Cenar.....

III.

Escribe al menos dos palabras que contengan los siguientes prefijos y sufijos. Puedes usar el libro y el diccionario:

in- .....

des- .....

-ita / -ito .....

-ista / -isto .....

**IV.**

Cambia el género y el número de los siguientes nombres:

el gallo → ..... el zoólogo → .....

la actriz → ..... las condesas → .....

el duque → ..... las alcaldesas → .....