

4º DE PRIMARIA

REFORZO – SEMANA DO 1/5

MATEMÁTICAS:

- **FRACCIONES EQUIVALENTES:**

¿Qué fracción es equivalente a $\frac{1}{3}$?







$\frac{2}{4}$	$\frac{2}{6}$	$\frac{2}{2}$	$\frac{15}{13}$	$\frac{4}{6}$
---------------	---------------	---------------	-----------------	---------------

¿Qué fracción es equivalente a $\frac{9}{6}$?

$\frac{3}{1}$	$\frac{2}{3}$	$\frac{3}{2}$	$\frac{9}{4}$	$\frac{18}{10}$
---------------	---------------	---------------	---------------	-----------------

- **La Capacidad:**

Estima la capacidad de cada uno de los siguientes objetos:

Líquido corrector	Cartón de leche	Cubo de fregar
 <input type="checkbox"/> 3 l <input type="checkbox"/> 3 kl <input type="checkbox"/> 3 cl	 <input type="checkbox"/> 1 dl <input type="checkbox"/> 1 l <input type="checkbox"/> 1 dal	 <input type="checkbox"/> 2 l <input type="checkbox"/> 2 dal <input type="checkbox"/> 2 ml
Piscina hinchable	Camión cisterna	Un vaso
 <input type="checkbox"/> 3 hl <input type="checkbox"/> 3 l <input type="checkbox"/> 3 ml	 <input type="checkbox"/> 5.000 l <input type="checkbox"/> 5.000 hl <input type="checkbox"/> 5.000 ml	 <input type="checkbox"/> 25 cl <input type="checkbox"/> 25 l <input type="checkbox"/> 25 kl

Un tonel se llena con 150 litros. ¿Cuántos hectolitros necesitamos para llenar 6 toneles?

LINGUA:

- Realiza o seguinte ditado, elixe 6 verbos dos textos e analízaos (tempo e conxugación a que pertencen).

PEGA

É un paxaro moi abundante nos campos galegos, sobre todo por onde hai terras de labor e árbores. É moi fácil de recoñecer polo seu rabo longo e as plumas brancas e negras con irisacións azuis e verdes. Aliméntase de insectos, vermes, miñocas, grans, pebidas, cobras pequenas, ovos de outros animais, etc. Ten un berrar moi típico e cando se xunta unha bandada producen un forte balbordo. Fai o niño de garabullos nas árbores.



ANDORIÑA

Chega a Galicia en grandes bandadas todas as primaveras procedente de África, a onde volta no outono fuxindo do frío. É fácil de identificar polas súas cores: azul escura a parte superior do corpo, a inferior branca e a testa e a gorxa vermellas. Tamén é característico o seu longo rabo rematado en dúas afiadas puntas. É difícil vela pousada na terra, normalmente voa a rentes do chan a grande velocidade para pillar insectos. Fai o niño na parte superior das paredes, xunto ás madeiras do teito, con pallas e herbas mesturadas con lama deixando un oco pola parte superior.

LENGUA:

- 1 Rodea las formas verbales del texto.

El artista pinta sus cuadros con colores muy tristes. Mezcla gris con azul, negro con verde y blanco con marrón. Este artista siempre utiliza pinceles muy pequeños y los limpia con un líquido amarillento.



- 2 Busca en la sopa de letras verbos en infinitivo y clasificalos.

Terminados en -ar	Terminados en -er	Terminados en -ir

C	B	R	E	I	R	N	M
O	A	R	T	Y	P	U	M
C	T	A	R	D	A	R	O
E	I	J	C	O	S	E	R
R	R	V	E	R	A	X	I
D	S	O	Ñ	A	R	V	R

- 3 Elige en cada caso la palabra que es una forma verbal.

llorón llorábamos llorica lloros

vivencia vida vivimos vital

bebida beberán bebible bebedor

- Analiza las siguientes oraciones y di de que tipo son:

- El avión aterrizó en la pista principal. → _____
- ¿Han llegado ya tus primos? → _____
- ¡Los animales están inquietos! → _____
- No ha marcado tu jugador favorito. → _____