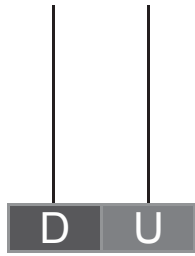
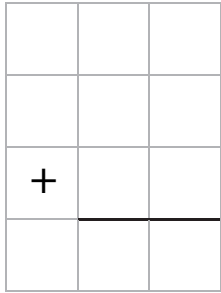


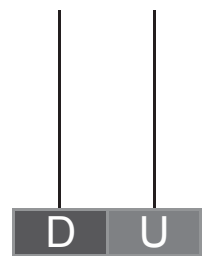
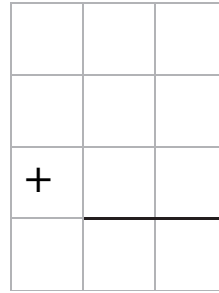
Nombre: Fecha: Curso:

1. Coloca, calcula y dibuja el resultado en el ábaco. (vale 2 puntos)

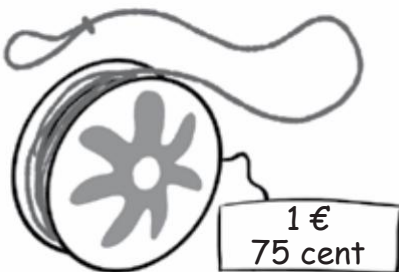
$6 + 59 + 33$




$42 + 27 + 17$



2. ¿Qué monedas necesitas para comprar el yoyó? Rodea. (vale 1 punto)



3. ¿Cuántos huevos hay? Calcula de dos formas diferentes. (vale 1 punto)



.....	+	+	=
.....	X	=		

4. Une cada figura con su nombre. (vale 1'5 puntos)

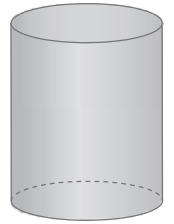
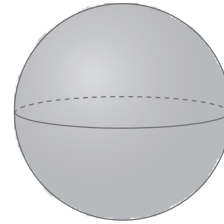
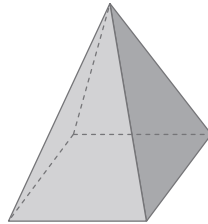

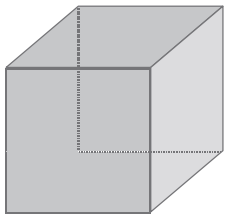
cilindro

cubo

cono

esfera

pirámide



5. Completa. (vale 2 puntos)


$$9 \times 2 = \dots + \dots + \dots + \dots + \dots + \dots + \dots + \dots + \dots = \dots$$

$$4 \times 3 = \dots + \dots + \dots + \dots = \dots$$

$$2 \times 6 = \dots + \dots = \dots$$

$$3 \times 5 = \dots + \dots + \dots = \dots$$

6. Dibuja el dinero que necesitas para comprar una mochila de 26 € y 25 céntimos. (vale 2 puntos)



7. Dibuja y reparte a partes iguales.
(vale 0'5 puntos)

