

Una excursión a la granja

Antes de que acabe el curso, la clase de segundo va a ir de excursión a una granja escuela. La profesora ha colgado esta información en el aula y les ha pedido que preparen una nota informativa para sus familias, con los datos más importantes.

**GRANJA ESCUELA
TÍA MILA**

Ctra. del Merendero
Teléfono: 333 78 49 30

Horario:
De lunes a miércoles,
de 10 a 5.


Precios:
Adultos: 15 €
Niñas y niños: 8 €

Autobuses Sobrerruedas
El precio del billete de ida y vuelta
de Pueblo Gris a la granja escuela
Tía Mila es 12 euros.

**1 ¿Cuántos kilómetros hay del pueblo a la granja escuela?
Busca los datos en el mapa y calcula.**


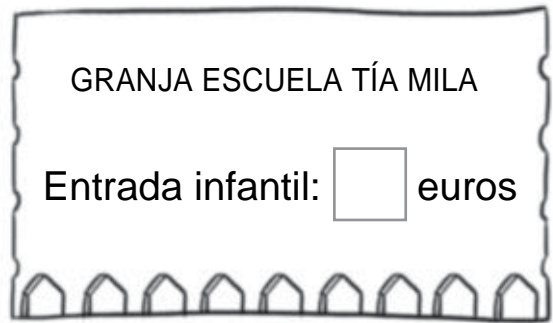
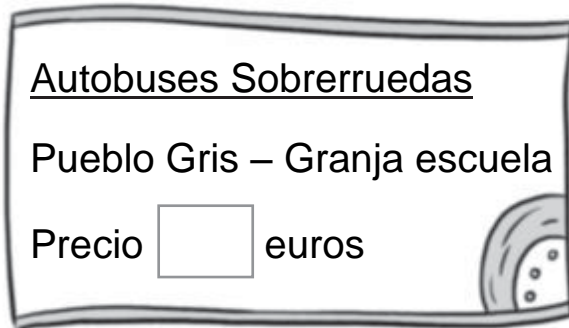
Kilómetros desde el pueblo
hasta el puente ►

Kilómetros desde el puente
hasta la granja ►



Hay kilómetros
en total.

2 ¿Cuánto cuesta la excursión? Escribe los precios y calcula.



La excursión cuesta

3 Rodea los días en los que está abierta la granja. Después, lee lo que dice el profesor, colorea de amarillo el día de la excursión y completa.

MAYO

L	M	M	J	V	S	D
	1	2	3	4	5	6
7	8	9	10	11	12	13
14	15	16	17	18	19	20
21	22	23	24	25	26	27
28	29	30	31			

El día de la excursión tiene 2 decenas y 3 unidades.



La excursión será el día

4 Resuelve.


- El autobús tarda 30 minutos en llegar desde la granja al merendero y 14 minutos desde el merendero hasta Pueblo Gris. ¿Cuánto tiempo tarda el autobús en llegar desde la granja hasta el pueblo?

Operación ►

Solución ► El autobús tarda minutos.

- Si por el camino hacemos una parada de 15 minutos para merendar, ¿cuánto tiempo tardaremos en llegar?

Operación ►



Solución ►

5 ¿Qué actividades se pueden realizar en una granja escuela? Escribe algunos ejemplos.

6 Rodea las cosas que te llevarías a la excursión.



7 Copia en orden alfabético esta lista de animales que hay en la granja escuela.

conejos
vacas
gallinas
patos



8 Separa las palabras de la oración y escríbela en el cartel. Utiliza mayúsculas cuando corresponda. Después decora el cartel con dibujos de animales de la granja.

pasaundíadiferenteenlagranjaescuelatíamila

A receita da avoa

César vai axudar a súa avoa a preparar a comida. Ten que fixarse na receita para preparala ben.

GARAVANZOS GUISADOS

Ingredientes:

Garavanzos, allo, cebola, chourizo, cenoria, xamón, pemento, touciño, tomate, aceite.

Preparación:

1. Cocer os garavanzos con auga, aceite e sal durante 30 minutos.
2. Fritir a cenoria, a cebola, o pemento, o tomate e o allo nunha tixola durante 8 minutos.
3. Mesturar as verduras cos garavanzos na pota.
4. Engadir o chourizo, o touciño e o xamón e cocer durante 25 minutos.



1 Arrodea na mesa os alimentos necesarios para a receita.

2 Que alimentos faltan na mesa para preparar a receita?

3 A avoa de César ás veces non fai caso da receita. Le e completa.

	O que di a receita	O que fai a avoa	É máis ou menos tempo?
Cocer os garavanzos		22 minutos	
Fritir as verduras		12 minutos	
Cocer o guisado		31 minutos	

4. Escribe os alimentos da receita onde corresponda.

Graxas	<input type="text"/>
Verduras	<input type="text"/>
Legumes	<input type="text"/>
Carne	<input type="text"/>

5. Que tipo de alimentos son a cebola, a cenoria, o pemento, o tomate e o allo? Marca a resposta. Despois, escribe.

ALIMENTOS ELABORADOS OU NATURALS

REPASO CIENCIAS NATURAIS - UNIDADE 3

1. Marca con unha X a opción correcta:

A pera é un alimento de orixe ...

Animal

Vexetal

Mineral



A sardiña é alimento de orixe ...

Animal

Vexetal

Mineral



A auga é unha bebida de orixe ...

Animal

Vexetal

Mineral



Os ovos son un alimento de orixe ...

Animal

Vexetal

Mineral



A leitunga é un alimento de orixe ...

Animal

Vexetal

Mineral



2. Debes marcar con un V(verdadeiro) os enunciados correctos, e con un F (falso) os enunciados falsos.

Non se debe comer máis de dúas veces ó día

O ideal é comer cinco veces ó día

Deberíamos comer só tres veces ó día

Non é necesario lavar as mans antes de comer

Hai que ter en conta a data de caducidade dos alimentos

Debemos almorzar moi pouco

Os hidratos de carbono proporcionánnos enerxía

Comer froita fai que non esteamos sans

O leite é malo para fortalecer os ósos

3. Rodea de vermello os alimentos elaborados e de verde os alimentos naturais:



4. Lee os seguintes enunciados.

- Está chea de alimentos
- As froitas e as verduras encóntranse na parte de abaixo
- Ten forma de triángulo
- Podemos guiarnos por ela para ter unha alimentación sa
- Na parte superior están os alimentos que debemos comer con pouca frecuencia

De que estamos a falar?.....

Debúxaaa:

A large, empty rectangular box with a black border, intended for drawing or writing.

REPASO CIENCIAS SOCIAIS - UNIDADE 3

1. Debes marcar con un V(verdadeiro) os enunciados correctos, e con un F (falso) os enunciados que non son correctos.

Cando mercamos un produto podemos pagalo con moedas, billetes ou tarxeta de crédito.

Nunca debemos mirar a etiqueta dun produto para mercalo.

Nunca se deben reutilizar as cousas, aínda que se poida.

Deberíamos mercar só o que precisemos.

É necesario ter en conta canto diñeiro temos, para poder mercar algo.

2. Lembra os tipos de medios de comunicación que hai? De masas e interpersais? Rodea de vermello os medios de comunicación de masas e rodea de verde os medios de comunicación interpersais.

Teléfono

Radio

Correo electrónico

Cartel

Televisión

Xornal

Internet

Carta

3. Escribe o medio de comunicación que empregarías para avisar ós teus amigos de que vas a celebrar o teu aniversario e dicirlles que os invitas.

Medio de comunicación:

Información que lles queres transmitir:

.....
.....
.....

4. A continuación pódese ver unha imaxe sacada dun anuncio que sae na televisión. Trátase dun anuncio dun xoguete.



Cabeza mojada juguete👤 juguetes👤 anuncios de juguetes👤 Bomball | KidsTimeTV

Contesta ás seguintes preguntas marcando con unha X a opción correcta:

Para que serve ese anuncio dese xoguete?

Para animar ás persas a mercalo

Para que as persas non queiran mercalo

Por que crees que anuncian ese xoguete?

Para que non o vexa ningún

Para que o coñeza máis xente

Que tipo de medio de comunicación empregan para enuncialo?

Medio de comunicación interpersonal

Medio de comunicación de masas