

## REPASO TEMA 6: LENGUA

### 1 Ordena estas palabras y escribe oraciones.

hamburguesa

Quiero

una

con

tomate.

---

guisantes

gustan

jamón.

Me

los

con

---

cigüeña

campanario.

una

el

Hay

en

---

### 2 Observa y escribe las oraciones en orden.



Luego, se extiende la mermelada encima.

Después, se unta bien la mantequilla.

Primero, se tuesta el pan en la tostadora.

---

---

---

**3 Escribe cuatro palabras de cada tipo.**

Palabras con *ga*

Palabras con *go*

Palabras con *gu*


**4 Completa con *gue, gui, ge* y *gi*.**

man  ra

a  jón

rasol

ranio

rrero

á  la

gante

mio

tarra

**5 Ordena las letras. Después, escribe una oración con cada una de ellas.**

güedesa

güeciña

nopingüi







de <input type="text"/>	<input type="text"/>	<input type="text"/>
<input type="text"/>		
<input type="text"/>		
<input type="text"/>		

# MATEMÁTICAS

## 1 Completa las series.

595	600								
850	860								





## 2 Coloca y multiplica.

$42 \times 2 =$	$120 \times 4 =$	$31 \times 6 =$	$101 \times 5 =$
			

## 3 Ordena de mayor a menor.


638	718	900	657	785	828	999						
	>		>		>		>		>		>	

## 4 Coloca y calcula.

$789 + 356$	$465 + 98$	$479 - 385$	$764 - 598$
			

## 5 Lee y resuelve.

María recogió ayer 150 kg de fresas en su finca. Hoy ha recogido 183 kg. Mañana venderá 285 kg para hacer mermelada.  
¿Cuántos kilogramos de fresa le quedarán?




Solución




## 6 Primero, lee el problema. Luego, dibuja. Por último, contesta.

Han traído balones de fútbol y pelotas de tenis nuevos al polideportivo. Una caja contiene 9 bolsas con 2 balones cada una. Otra caja contiene 9 botes con 3 pelotas cada uno.



¿Cuántos balones de fútbol hay?  ○  =

¿Cuántas pelotas de tenis hay?  ○  =

¿Cuántas pelotas de tenis hay más que balones de fútbol?  ○  =

# LINGUA GALEGA

## 1 Relaciona cada artigo cun substantivo e escríbeos.

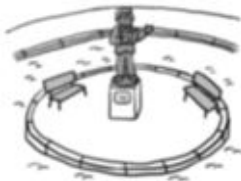
o	estrelas	▶	<input type="text"/>
a	planetas	▶	<input type="text"/>
as	foguete	▶	<input type="text"/>
os	viaxe	▶	<input type="text"/>

## 2 Escribe diante de cada substantivo o determinante que acaia.

esta	estas
------	-------

sete	oito
------	------

a súa	os seus
-------	---------



praza     candeas     mochila

## 3 A onde vai este foguete? Imaxina e escribe.

Este



#### 4 Escolle a oración correcta e copia.

A cea está en a mesa.

A cea está na mesa.

Carme marchou á praia cedo.

Carme marchou a a praia cedo.

#### 5 Alonga esta oración engadindo estes grupos de palabras.



María escribe

no ordenador  
un traballo  
a miña irmá  
moi interesante

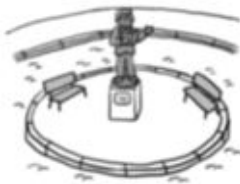
#### 6 Completa co determinante que acaia.

eses

dúas

a súa

esa



► Puxeron  bancos na praza.

Xián leva  mochila. ◀



► Vexo  bolboretas.

Está aberta  farmacia? ◀



## CIENCIAS DA NATUREZA

### 1 Completa.

Os mamíferos son animais .

Tamén son , que quere dicir que nacen do ventre de súa nai. As crías

o leite de súa nai. Case todos os mamíferos teñen o corpo cuberto de  e catro .

As aves son animais .

Tamén son , que quere dicir que nacen de ovos que poñen as .

Todas as aves teñen o corpo cuberto de ,

teñen , dúas  e dúas

.

### 2. Arrodea cada animal segundo a clave.




De verde: réptil



De vermello: anfibio



De azul: peixe



### 3. Escribe o nome do grupo de animais que corresponda.

Teñen escamas e reptan. ▶

Son invertebrados e teñen dúas antenas.▶

Nacen de ovos e teñen aletas. ▶

Teñen pelo e patas. ▶

Teñen plumas e dúas patas. ▶

### 4. Debuxa un réptil. Despois, explica as súas características.

### 5. Marca verdadeiro (V) ou falso (F).

- Non existen animais en perigo de extinción.
- Os incendios forestais poñen en perigo a vida dos animais.
- Os animais non poden vivir en lugares contaminados.
- Coidar e respectar a natureza protexe os animais.



1 Colorea segundo a clave e completa a oración.



De azul: auga



De castaño: terra firme



De verde: atmosfera

A Terra está arrodeada pola   
e cuberta na súa maior parte por .

2 Ordena as letras para formar os nomes dos planetas do noso sistema solar.

CIMREURO

EUVNS

AERTR

TEMRA

ÚPXERIT

ATSURNO

ARNUO

PUNONTE

3 Escribe *brisa* ou *furacán* onde corresponda.



#### 4. Que son os océanos? E os continentes? Explica.

Océanos ►

Continentes ►

#### 5. Le e une.

Saturno ①

Marte ②

Venus ③

Xúpiter ④

Mercurio ⑤

Neptuno ⑥

Urano ⑦

Terra ⑧

Ⓐ É o planeta máis pequeno do sistema solar.

Ⓑ Ten ao seu arredor varios aneis formados por po e xeo.

Ⓒ É o planeta máis próximo á Terra.

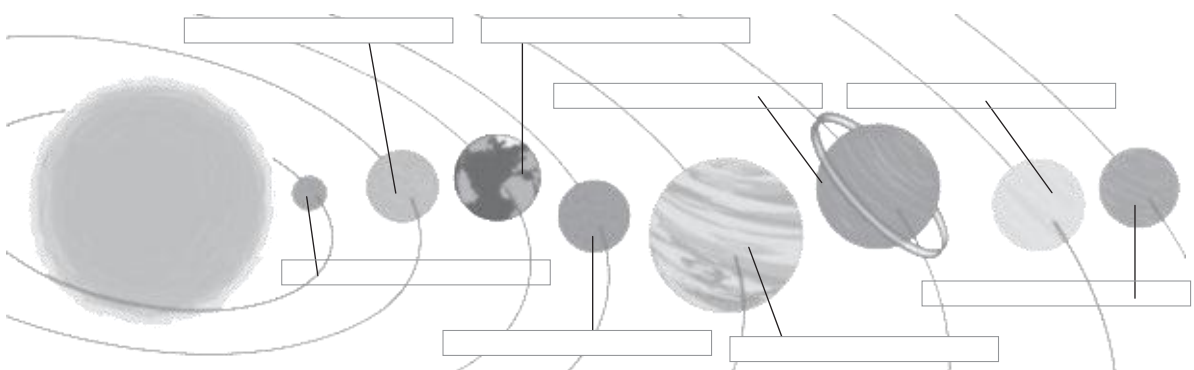
Ⓓ É o planeta de maior tamaño do sistema solar.

Ⓔ É o planeta máis afastado do Sol.

Ⓕ É o único planeta en que hai seres vivos.

Ⓖ Ten aneis arredor del, pero case non se ven.

Ⓗ É o cuarto planeta, contando a partir do Sol.



Observa e escribe o nome dos planetas do sistema solar.