

4


Nome e apelidos:

Data:


Ciencias Sociais 1.º

AV

1 Colorea a paisaxe de costa.



2 Observa a ilustración e realiza as actividades.



- Rodea de vermello os elementos humanos da paisaxe.
- Escribe se é unha paisaxe de montaña ou de costa.

4 Nome e apelidos:

Ciencias Sociais 1

AV

- 3 Escribe dúas accións que poidan servir para coidar as paisaxes.

- 4 Escribe verdadeiro (V) ou falso (F).

A auga ten olor, sabor e cor.

Algúns seres vivos utilizamos a auga para desprazarnos.

Coa auga podemos asearnos, regar, cocinar...

A auga pode ser doce ou salgada.

Cando a auga non se pode beber, dicimos que é potable.

- 5 Colorea de azul como podemos aforrar auga.

Cerrar a billa mentres cepillamos os dentes

Deixar a billa aberta mentres cepillamos os dentes

Ducharse

Bañarse

Tirar papeis ao inodoro

4


Nome e apelidos:

Data:

Ciencias Sociais 1.º

Ficha

2



1 Observa o debuxo, le e numera como corresponda.

1. A Gabriel encántalle pasear pola beira do mar, xogar na praia e ver os acantilados.
2. Xiana goza xogando á pilla e paseando por terreos chairros.
3. A María gústalle subir á montaña aínda que vai un pouco frío. Gústalle ver a aldea desde o cumo.


2 Coa axuda do debuxo numera: paisaxe de costa , paisaxe de chairra e paisaxe de montaña .

3 Colorea os elementos naturais das paisaxes.

4 Nome e apelidos:

Ciencias Sociais I

4 Colorea a imaxe, despois le e completa con sólido e líquido.



- O mar, a mangueira, a fonte, o río e a ducha teñen auga en estado


- No cume das montañas hai auga en estado

5 Encontra seis lugares onde hai auga.

M	E	N	U	B	E	P	T	E	R	R
A	S	I	O	C	É	A	N	O	T	Í
R	A	R	N	P	L	A	G	O	N	O
B	R	N	E	V	E	N	O	A	T	D


4 Nome e apelidos: _____
 Data: _____
 Ciências Sociais 1.ª _____
Ficha 1

1 Le, une e completa con chaira, montaña ou costa.




Hai praias e acantilados.

○ Paisaxe de _____



Son terreos planos.

○ Paisaxe de _____




Son moi altas
e no cume vai frío

○ Paisaxe de _____

2 Colorea segundo o código:

verde → paisaxe natural → amarelo → paisaxe humana



- 3 Observa e rodea as persoas que coidan a paisaxe e risca as que a danan.



- 4 Le e subliña as frases verdadeiras sobre a auga.

1. É un líquido que non ten olor, cor nin sabor.
2. Debemos aforrar auga para que non se esgote.
3. Toda a auga que hai na natureza é potable.

- 5 Colorea así: auga doce → azul e auga salgada → verde.

rio

mar

océano



neve

- 6 Le e une.

Líquida

Sólida

Gasosa



4

Nome e apelidos:

Data:

Ciências da Natureza 1

Ficha 2


1 Completa o texto para descrever este medio.

Non

vai muito

de dia e frio durante a

Hai moi pouca



Aquí só medran plantas resistentes e con espiñas, como os

a seca e a calor, como

2 Escribe exemplos de alimentos ou materiais obtidos de...

As galiñas:

As ovellas:

As abellas:

As oliveiras:

4 Nome e apelidos:

6 Relaciona.

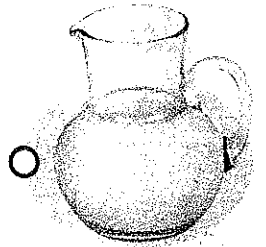


Silvestre

Doméstico

Salvaxe




Cultivada



7 Relaciona danos e solucións.

Danos

Solucións



3


Nome e apelidos:

Data:

Ciencias da Natureza 1

AV

- 1 Sinala de vermello os animais, de verde as plantas e de amarelo os seres inertes.






- 2 Debuxa estes animais e escribe os seus nomes:

un vertebrado
carnívoro

un vertebrado
ovíparo

un invertebrado
maríño




3

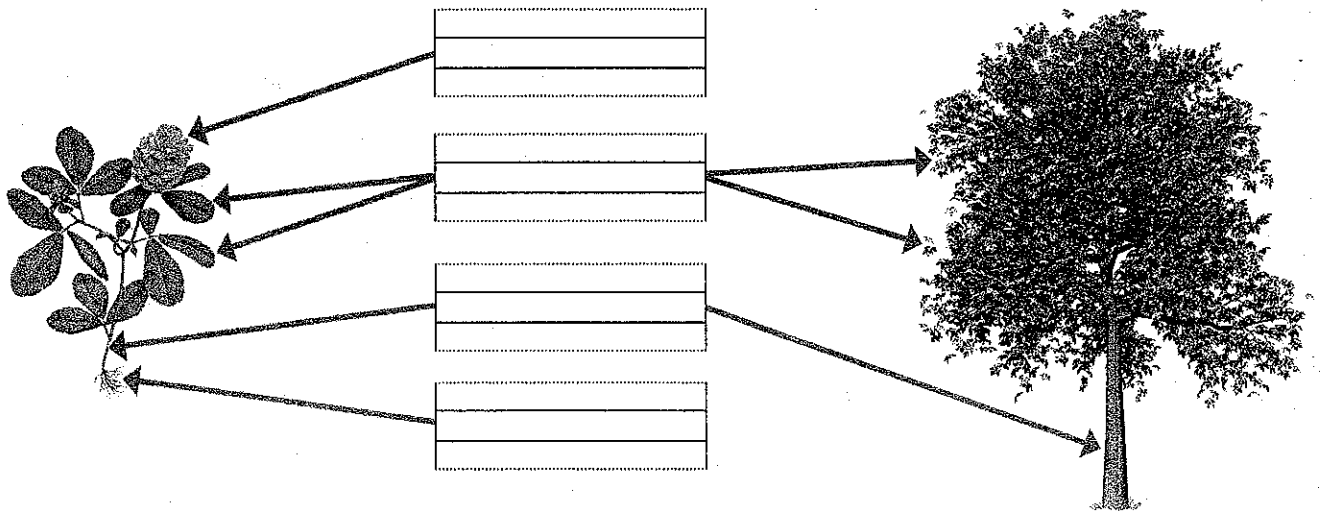
Nome e apelidos:

AV

3 Rodea os animais ovíparos.



4 Escribe raíz, talo, follas e flor no seu lugar.



5 Completa a frase.

As plantas necesitan, , ,

e para vivir.

Ainda que non teñen nin

, reaccionan ao que acontece.

As plantas nacen de .