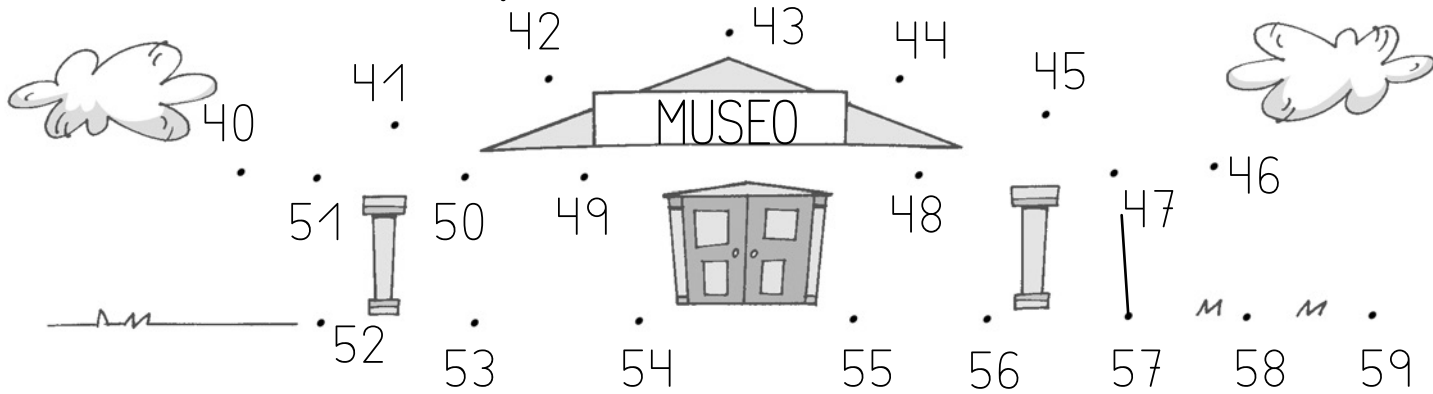


1 Une los números siguiendo la serie del 40 al 59.






2 Resta y une cada resultado con su motorista.

$$\begin{array}{r} 46 \\ - 32 \\ \hline \square \end{array}$$

$$\begin{array}{r} 53 \\ - 30 \\ \hline \square \end{array}$$

$$\begin{array}{r} 49 \\ - 28 \\ \hline \square \end{array}$$

$$\begin{array}{r} 57 \\ - 11 \\ \hline \square \end{array}$$



3 Observa y colorea los relojes que marcan la hora correcta.



Son las 7
en punto.



Son las 4
y media.

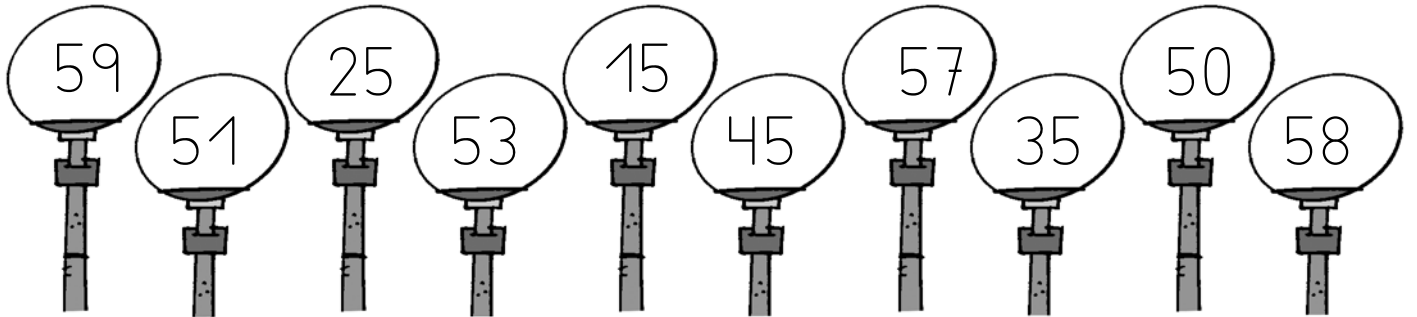


Es la 1
en punto.



Son las 2
y media.

- 4** Colorea de amarillo las farolas que tienen un 5 en la cifra de las decenas y de azul las que tienen un 5 en la cifra de las unidades.



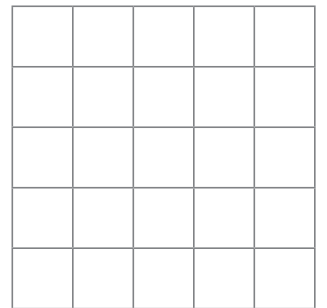
- 5** Lee y resuelve.

Mi prima ha traído 28 rosquillas de la panadería de su pueblo. Comimos 12 para merendar. ¿Cuántas rosquillas nos quedan?

Ha traído .

Comimos .

Nos quedan rosquillas.



- 6** Une cada hora con su reloj.



Son las 8
en punto.



Son las 3
y media.



Son las 11
en punto.

