

# La hora

Nombre y apellidos: .....

Fecha: ..... Curso: .....

1 ¿Qué hora marca cada reloj?

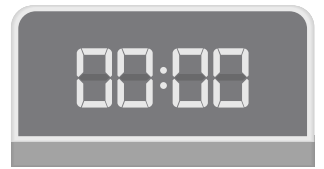
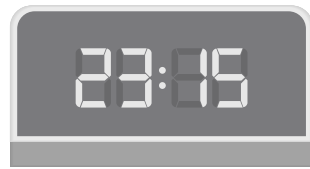



\_\_\_\_\_

\_\_\_\_\_

\_\_\_\_\_

\_\_\_\_\_



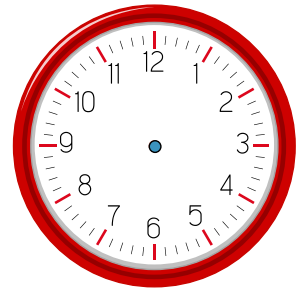
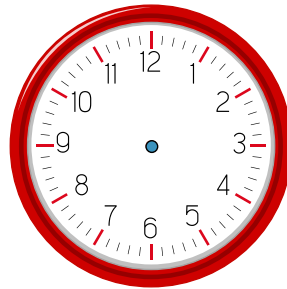
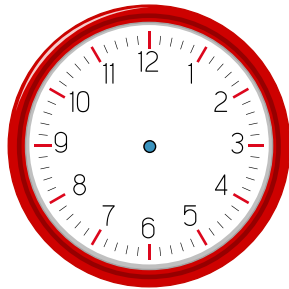
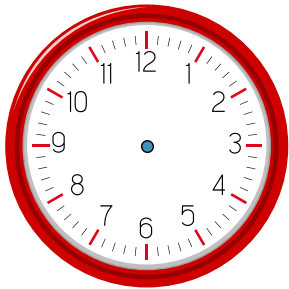
\_\_\_\_\_

\_\_\_\_\_

\_\_\_\_\_

\_\_\_\_\_

2 Dibuja las agujas para que estos relojes marquen las horas indicadas.



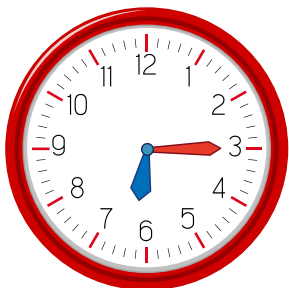
*Las cinco y media*

*Las tres menos cuarto*

*Las ocho menos veinte*

*La una y veinticinco*

3 ¿Cuántos minutos faltan para que sean las siete menos cuarto en cada caso?



\_\_\_\_\_

\_\_\_\_\_

\_\_\_\_\_

\_\_\_\_\_