

Nombre: \_\_\_\_\_ Fecha: \_\_\_\_\_

1- Une con flechas

3 lados •



• pentágono

5 lados •



• cuadrilátero

4 lados •




• hexágono

6 lados •




• triángulo

2.- Fíjate bien y escribe las operaciones que faltan



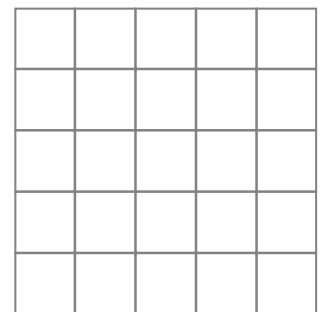
3.- Federico tiene 146 sellos en su álbum. Si su madre le regala 74 más, ¿cuántos sellos tiene ahora?



146

Tiene ..... sellos.

Le regalan ..... sellos.



► Ahora tiene ..... sellos.