


Nombre: _____ Fecha: _____

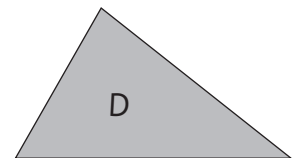
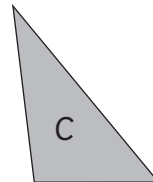
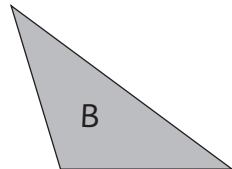
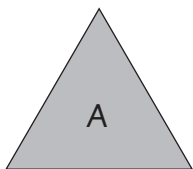
1. Dibuja una línea recta que una el vértice A con el vértice D y otra que una los vértices B y C. ¿Cuántos polígonos se han formado? ¿Cómo se llaman estos polígonos? Coloréalos cada uno de un color.



2. Completa esta tabla.

	Lados	Ángulos	Vértices
Cuadrado			
Triángulo			
Hexágono			
Pentágono			

3. Clasifica cada uno de los siguientes triángulos según sus ángulos y según sus lados.



A: _____

C: _____

B: _____

D: _____

4. En el estanque de un parque han puesto una valla para evitar que los niños pequeños se caigan al agua. El estanque tiene forma pentagonal y cada lado del pentágono mide 9 m. ¿Cuánto mide la valla?

5. Esperanza ha recortado 6 polígonos entre triángulos y cuadrados para dibujar señales de tráfico. Si entre todos tienen 21 lados, ¿cuántos cuadrados y cuántos triángulos ha recortado Esperanza?