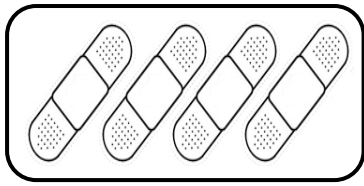


Unidad 2. Pon tus cinco sentidos

Nombre: _____ Curso: _____ Fecha: _____

Números del 6 al 9

1. *Dibuja y completa estas sumas.*




+



=



+



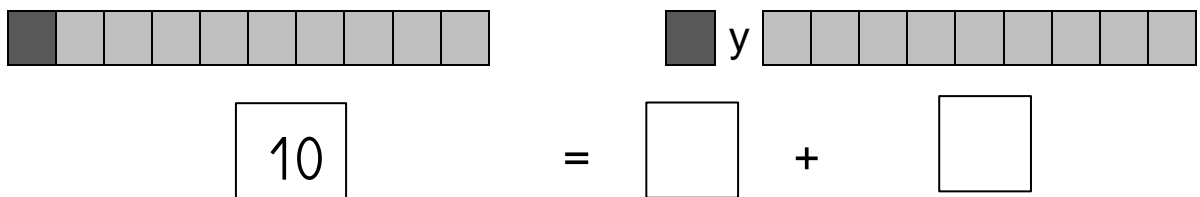
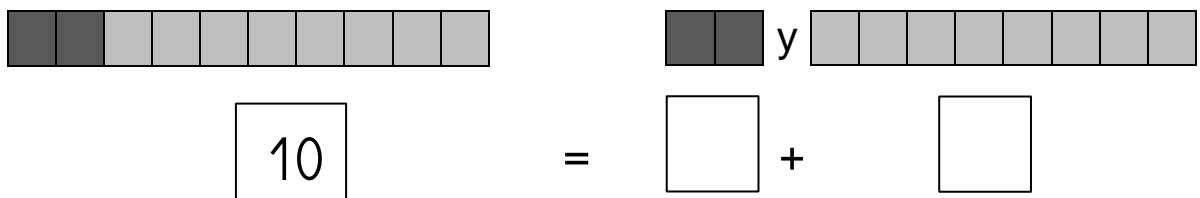
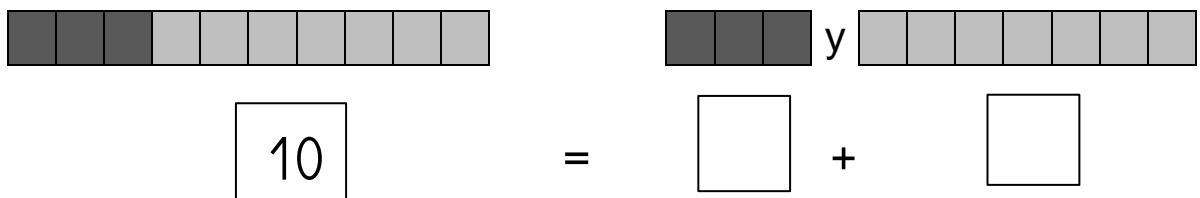
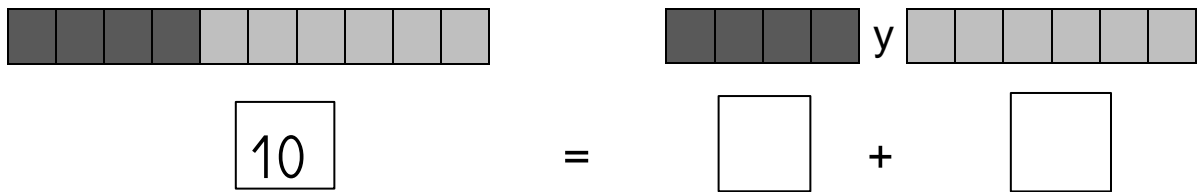
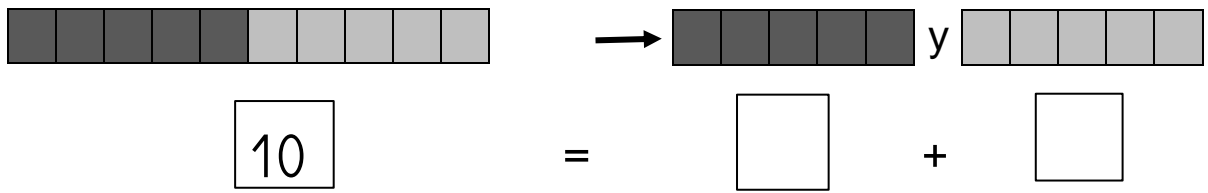
=

Unidad 2. Pon tus cinco sentidos

Nombre: _____ Curso: _____ Fecha: _____

El 10

2. Cuenta y completa.



Unidad 2. Pon tus cinco sentidos

Nombre: _____ Curso: _____ Fecha: _____

La decena

3. *Completa estas sumas.*

$$\bullet 4 + \square = 10$$

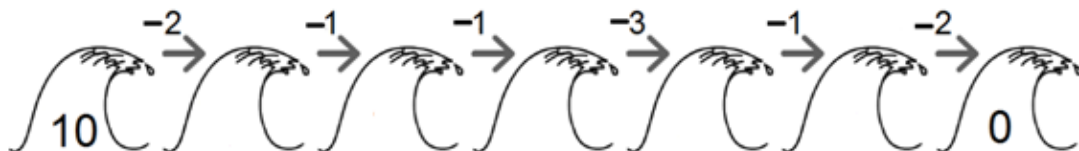
$$\bullet 5 + \square = 10$$

$$\bullet 7 + \square = 10$$

$$\bullet 2 + \square = 10$$

Resta en horizontal y en vertical

4. *Completa esta serie.*


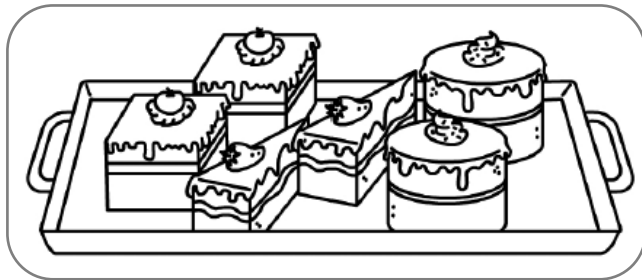


Unidad 2. Pon tus cinco sentidos

Nombre: _____ Curso: _____ Fecha: _____

Ancho y estrecho



5. Completa con *ancha* o *estrecha*.




La bandeja  tiene más  que la .

Cerca y lejos

6. Colorea según el código.

- De rojo el ○ que esté más cerca de la .
- De azul el □ que esté más lejos de la .



Unidad 2. Pon tus cinco sentidos

Nombre: _____ Curso: _____ Fecha: _____

¿Te acuerdas?

7. Une los puntos del 1 al 10 y descubrirás la imagen.

