

Unidad 9. Tiempo y dinero

Nombre: _____ Curso: _____ Fecha: _____

El calendario

1. Antonio y sus padres quieren ir a Londres este verano. En la agencia de viajes les han dicho que el avión sale los martes y jueves de cada semana y vuelve los miércoles y viernes. Si sus padres tienen las vacaciones la segunda quincena de julio y quieren estar allí el mayor número de días posibles, ¿qué fechas deberían escoger?

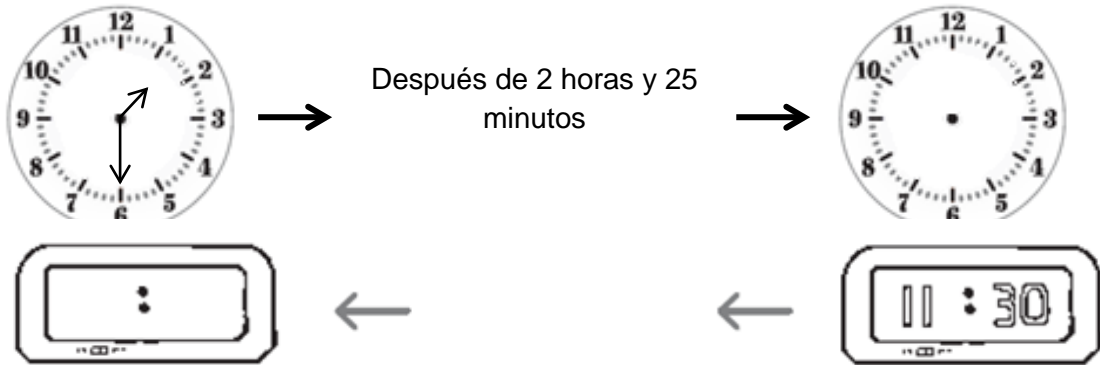
JULIO			1	2	3	4
5	6	7	8	9	10	11
12	13	14	15	16	17	18
19	20	21	22	23	24	25
26	27	28	29	30	31	

Avión de ida: _____

Avión de vuelta: _____

Horas, minutos y segundos

2. ¿Qué hora será?

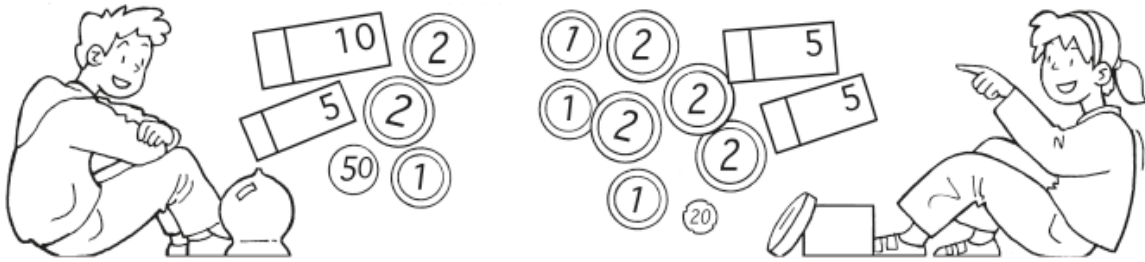


Unidad 9. Tiempo y dinero

Nombre: _____ Curso: _____ Fecha: _____

Monedas y billetes

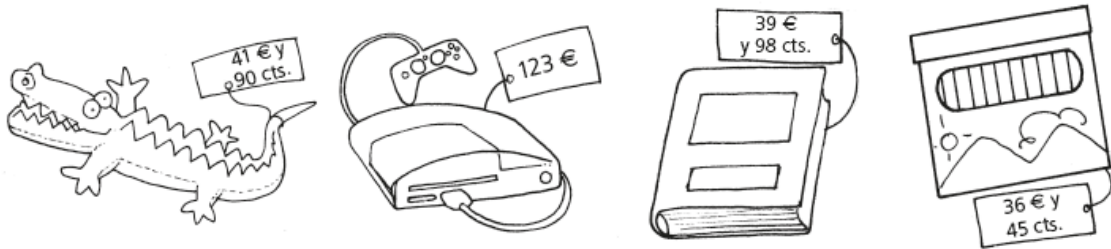
3. Pedro y Sandra han reunido sus ahorros para comprarle un regalo a su mejor amiga. Completa la tabla con el dinero que han juntado.



	Pedro	Sandra
Euros		
Céntimos		
Total		

Solución: _____

- Observa y rodea las cosas que podrían comprar con el dinero que tienen.



¿Te acuerdas?

4. Observa los dibujos y contesta.



- ¿Qué cuadrado pesa más? _____
- ¿Qué cuadrado pesa menos? _____