



PROBLEMAS



SORTUZZ



1

Si hay 4 canastas y en cada canasta hay 6 manzanas, ¿cuántas manzanas hay en total?

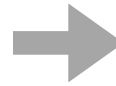
QUE ME PREGUNTA?



DATOS:

REPRESENTACIÓN

OPERACIONES



RESULTADO

2

Si hay 5 perros y cada uno tiene 3 juguetes, ¿cuántos juguetes hay en total?


QUE ME PREGUNTA?



DATOS:

REPRESENTACIÓN

OPERACIONES



RESULTADO

3

Si hay 8 frascos de galletas y en cada frasco hay 7 galletas, ¿cuántas galletas hay en total?


QUE ME PREGUNTA?



DATOS:

REPRESENTACIÓN

OPERACIONES



RESULTADO

4

Si en un equipo hay 9 jugadores y cada jugador tiene 4 balones, ¿cuántos balones hay en total?

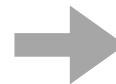
QUE ME PREGUNTA?



DATOS:

REPRESENTACIÓN

OPERACIONES



RESULTADO

5

Si en cada fila hay 7 estrellas y hay 8 filas en el cielo, ¿cuántas estrellas hay en total?


QUE ME PREGUNTA?



DATOS:

REPRESENTACIÓN

OPERACIONES



RESULTADO

6

Si en cada caja hay 10 huevos y hay 6 cajas, ¿cuántos huevos hay en total?


QUE ME PREGUNTA?



DATOS:

REPRESENTACIÓN

OPERACIONES



RESULTADO

7

Si hay 12 filas de flores y en cada fila hay 5 flores, ¿cuántas flores hay en total?


QUE ME PREGUNTA?



DATOS:

REPRESENTACIÓN

OPERACIONES



RESULTADO

8

Si hay 3 trenes y en cada tren hay 9 vagones, ¿cuántos vagones hay en total?


QUE ME PREGUNTA?



DATOS:

REPRESENTACIÓN

OPERACIONES



RESULTADO

9

Si tienes 6 bolsillos y en cada bolsillo hay 4 monedas, ¿cuántas monedas tienes en total?

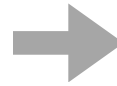
QUE ME PREGUNTA?



DATOS:

REPRESENTACIÓN

OPERACIONES



RESULTADO

10

Si hay 5 estantes de libros y en cada estante hay 8 libros, ¿cuántos libros hay en total en la biblioteca?


QUE ME PREGUNTA?



DATOS:

REPRESENTACIÓN

OPERACIONES



RESULTADO

11

Si hay 7 túneles en un hormiguero y en cada túnel hay 6 hormigas, ¿cuántas hormigas hay en total?

QUE ME PREGUNTA?



DATOS:

REPRESENTACIÓN 

OPERACIONES

RESULTADO

12

Si en cada recinto hay 9 jirafas y hay 4 recintos, ¿cuántas jirafas hay en total?

QUE ME PREGUNTA?



DATOS:

REPRESENTACIÓN 

OPERACIONES

RESULTADO

13

Si en cada bolsa hay 5 dulces y tienes 10 bolsas, ¿cuántos dulces tienes en total?


QUE ME PREGUNTA?



DATOS:

REPRESENTACIÓN

OPERACIONES



RESULTADO

14

Si en cada fila del cine hay 8 personas y hay 6 filas, ¿cuántas personas hay en el cine?


QUE ME PREGUNTA?



DATOS:

REPRESENTACIÓN

OPERACIONES



RESULTADO

15

Si hay 2 canchas y en cada cancha hay 10 pelotas, ¿cuántas pelotas hay en total?

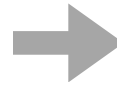
QUE ME PREGUNTA?



DATOS:

REPRESENTACIÓN

OPERACIONES



RESULTADO

16

Si en cada caja hay 3 juguetes y tienes 9 cajas, ¿cuántos juguetes tienes en total?

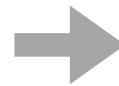
QUE ME PREGUNTA?



DATOS:

REPRESENTACIÓN

OPERACIONES



RESULTADO

17

Si tienes 7 días en una semana y cada día haces 5 tareas, ¿cuántas tareas haces en total?


QUE ME PREGUNTA?



DATOS:

REPRESENTACIÓN

OPERACIONES



RESULTADO

18

Si hay 6 globos en cada paquete y tienes 4 paquetes, ¿cuántos globos tienes para la fiesta?

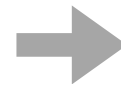
QUE ME PREGUNTA?



DATOS:

REPRESENTACIÓN

OPERACIONES



RESULTADO

19

Si en cada charco hay 5 patos y hay 3 charcos, ¿cuántos patos hay en total?


QUE ME PREGUNTA?



DATOS:

REPRESENTACIÓN

OPERACIONES



RESULTADO

20

Si en cada bolsa hay 4 caramelos y tienes 12 bolsas, ¿cuántos caramelos tienes en total?


QUE ME PREGUNTA?



DATOS:

REPRESENTACIÓN

OPERACIONES



RESULTADO

21

Si en cada caja hay 6 docenas de huevos y tienes 5 cajas, ¿cuántos huevos tienes en total?
(Recuerda que una docena es igual a 12).

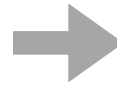
QUE ME PREGUNTA?



DATOS:

REPRESENTACIÓN

OPERACIONES



RESULTADO

22

Si en cada coche caben 5 personas y 4 maletas y nos vamos de viaje 6 coches completos, ¿cuántas personas vamos? ¿Y cuántas maletas entran?


QUE ME PREGUNTA?



DATOS:

REPRESENTACIÓN

OPERACIONES



RESULTADO

23

Si hay 10 paquetes de galletas y en cada paquete hay 9 galletas, y decides comprar 3 paquetes, ¿cuántas galletas compras en total?


QUE ME PREGUNTA?



DATOS:

REPRESENTACIÓN

OPERACIONES



RESULTADO

24

En mi terraza hay 7 macetas. Cada maceta tiene 3 rosas rojas y 5 tulipanes. ¿cuántas rosas hay en total ? ¿Y cuántos tulipanes?


QUE ME PREGUNTA?



DATOS:

REPRESENTACIÓN

OPERACIONES



RESULTADO

25

Si tienes 4 bolsas y en cada bolsa hay 3 monedas de oro y dos piruetas, ¿cuántas monedas de oro tienes en total? ¿Y cuántas piruetas?


QUE ME PREGUNTA?



DATOS:

REPRESENTACIÓN

OPERACIONES



RESULTADO

26

Si en cada estante hay 10 libros y hay 8 estantes en la biblioteca, ¿cuántos libros hay en total?


QUE ME PREGUNTA?



DATOS:

REPRESENTACIÓN

OPERACIONES



RESULTADO

27

Si en cada estante hay 6 cajas de juguetes y en cada caja hay 4 juguetes, ¿cuántos juguetes tienes en total en 3 estantes?


QUE ME PREGUNTA?



DATOS:

REPRESENTACIÓN

OPERACIONES



RESULTADO

28

Si en cada estante hay 7 paquetes de dulces y en cada paquete hay 8 dulces, ¿cuántos dulces hay en total en 5 estantes?


QUE ME PREGUNTA?



DATOS:

REPRESENTACIÓN

OPERACIONES



RESULTADO

29

Un árbol tiene 3 ramas y en cada una hay 5 nidos. Si en cada nido hay 2 pájaros, ¿cuántos pájaros hay en total?


QUE ME PREGUNTA?



DATOS:

REPRESENTACIÓN

OPERACIONES



RESULTADO

30

Si cada día ahorro 2€, ¿cuánto habré ahorrado las primeras 4 semanas? ¿Y en un año?


QUE ME PREGUNTA?



DATOS:

REPRESENTACIÓN

OPERACIONES



RESULTADO