

Nome:....., Data:....., Curso:.....

**1 Completa e relaciona cada texto coa súa ilustración.**

Nas ..... reúnense os .....  
e ..... dos partidos políticos,  
elixidos polos cidadáns para propor  
e aprobar as .....



Os ..... e outras persoas expertas  
traballan nos ..... de xustiza.  
Eles vixían e fan que se cumpran e  
respecten as .....



As Cortes elixen un ..... ,  
que está formado polo presidente e  
os ..... para que fagan  
funcionar as .....



**2 Define os seguintes termos.**

MUNICIPIO

.....  
.....

PROVINCIA


.....  
.....

COMUNIDADE AUTÓNOMA

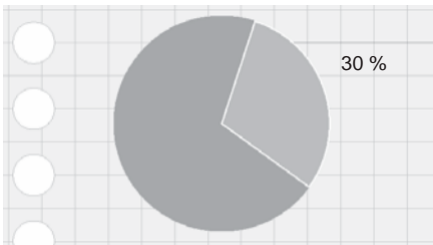
.....  
.....

Nome: ..... Data: ..... Curso: .....

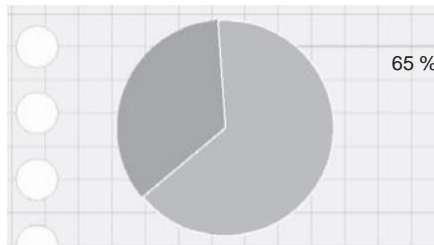
**3** Escribe o texto que corresponde a cada vía ou medio de transporte.



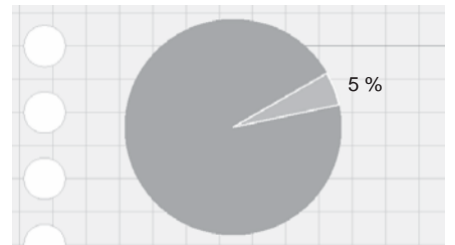
**4** Cada gráfica indica que porcentaxe da poboación traballa en cada sector económico. Sinala a que sector corresponde cada unha.



.....



.....



.....

**5** Indica se as seguintes oracións son verdadeiras (V) ou falsas (F).

A. As empresas usan a publicidade para mostrarnos os seus produtos.

B. Para aforrar enerxía, podemos ir ao colexio en coche.

C. Un consumo excesivo permite aumentar os recursos do planeta.

D. A comida, o calzado e a roupa son produtos de primeira necesidade.