

Nome: ..... Data: ..... Curso: .....

## 1. Completa os nomes dos elementos da paisaxe.


- Depois, risca os que non podes ver nunha paisaxe de interior.




i \_\_\_\_\_



m \_\_\_\_\_



v \_\_\_\_\_



cha \_\_\_\_\_



n \_\_\_\_\_




fer \_\_\_\_\_

Nome: ..... Data: ..... Curso: .....

## 2. Colorea esta paisaxe de interior seguindo o código.

- Verde relevo  
Azul zonas de auga  
Marrón seres vivos



## 3. Risca o intruso.

- Relevo de interior

outeiro val illa meseta depresión cordilleira

- Zonas de auga de interior

manancial río ferverza lago mar