

# Comprueba lo que has aprendido

## Test


¿Puedes recordar todo lo que has aprendido durante este trimestre? ¡Compruébalo!

1. ¿Qué es un paisaje?


- a) Los elementos artificiales que hay en un determinado lugar.
- b) Los elementos naturales que aparecen en las fotografías.
- c) Los elementos naturales y artificiales del terreno que nos rodea.

2. ¿Qué tipo de paisaje aparece en esta imagen?

- a) Humanizado de costa.
- b) Humanizado y rural.
- c) Paisaje natural.



3. ¿Cuál de estas imágenes se corresponde con un paisaje de costa?



4. ¿Dónde se encuentra la mayor parte del territorio que forma España?


- a) En las islas Canarias y Baleares, y en las ciudades de Ceuta y Melilla.
- b) En la península Ibérica.
- c) En Portugal.

5. ¿Qué cosas pueden provocar cambios en los paisajes?

- a) Las fotografías que sacamos.
- b) El cuidado del aire, el agua y el suelo.
- c) El paso del tiempo, la acción de la naturaleza y las personas.

6. ¿Dónde aprendemos las primeras normas de convivencia?

- a) En casa, en el colegio y en la calle.
- b) En nuestras clases de Inglés.
- c) En el lugar de trabajo de los familiares.



7. ¿Cómo pueden ser las localidades?


- a) Barrios o ayuntamientos.
- b) Pueblos o ciudades.
- c) Altas o bajas.

8. ¿De qué se encargan los ayuntamientos de los municipios?

- a) Gobiernan y organizan los servicios públicos para los vecinos del municipio.
- b) Organizan y dividen la localidad en las zonas del centro y de las afueras.
- c) Organizan los barrios residenciales y las zonas industriales.

9. ¿A qué sector pertenece la ganadería?

- a) Al sector primario.
- b) Al sector secundario.
- c) Al sector servicios.



10. ¿Quiénes de estos trabajadores son del sector servicios?

- a) Pescadores y agricultores.
- b) Enfermeros, vendedores y maestros.
- c) Ninguno de los anteriores.