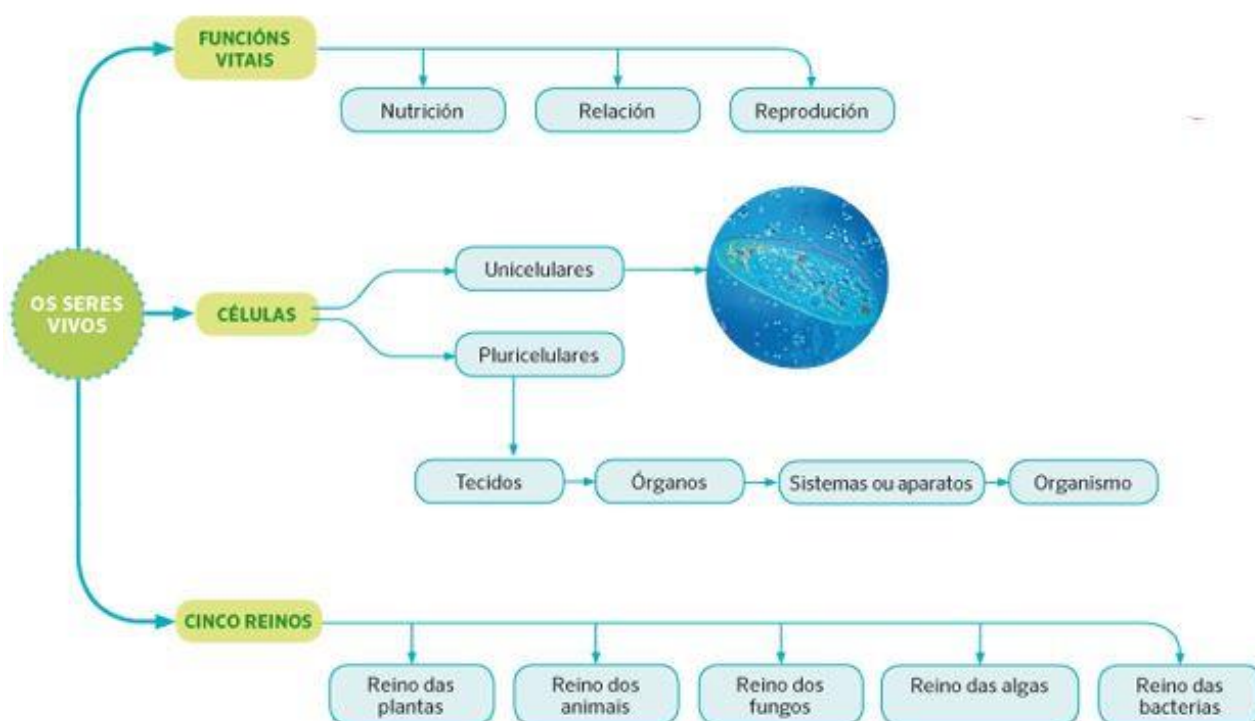


# REPASANDO CIENCIAS DA NATUREZA

Durante esta semana reparemos diferentes temas de Natu. Recordade que tedes o libro dixital para consultar e repasar.

## T. 1: Os seres vivos



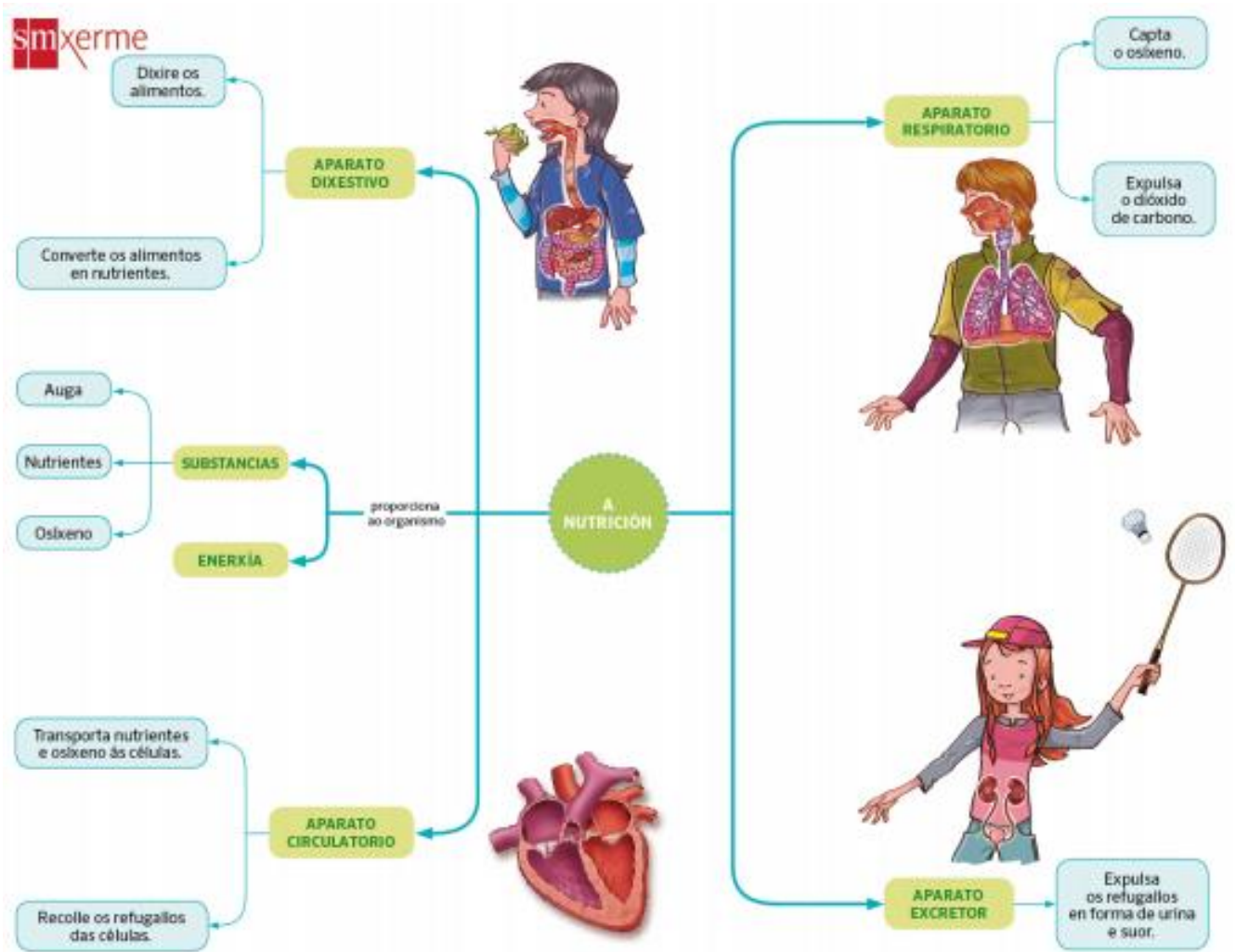
1. a) Relaciona as seguintes columnas sobre as **función vitais**:

Orixinar outras células idénticas	•	•	Función de relación
Relacionarse co medio	•	•	Función de nutrición
Tomar substancias do medio	•	•	Función de reprodución

1. b) **Explora**:

- 1- Abre ben os ollos cando baixes á rúa pasear ou mesmo na túa casa para coñecer os seres vivos que viven ao teu arredor.
- 2- Anota o nome de todos os seres vivos que encontres e fai unha lista.
- 3- A que reino corresponden?

## T.2 A nutrición



2. a) Que sistemas e aparatos interveñen na función de nutrición?

2. b) Canto aire cabe nos teus pulmóns?

1-Mira o seguinte vídeo:

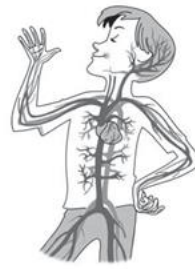
<https://www.youtube.com/watch?v=8aYwTslpBLY&feature=youtu.be>

2-Se tes os ingredientes, experimental!

3-Cóntame como foi.

2. c) Escribe estas palabras onde corresponda:

- |           |         |           |           |
|-----------|---------|-----------|-----------|
| Diafragma | Fígado  | Traquea   | Vexiga    |
| Farinx    | Veas    | Intestino | Uretra    |
| Arterias  | Corazón | Riles     | Bronquios |



.....  
 .....  
 .....

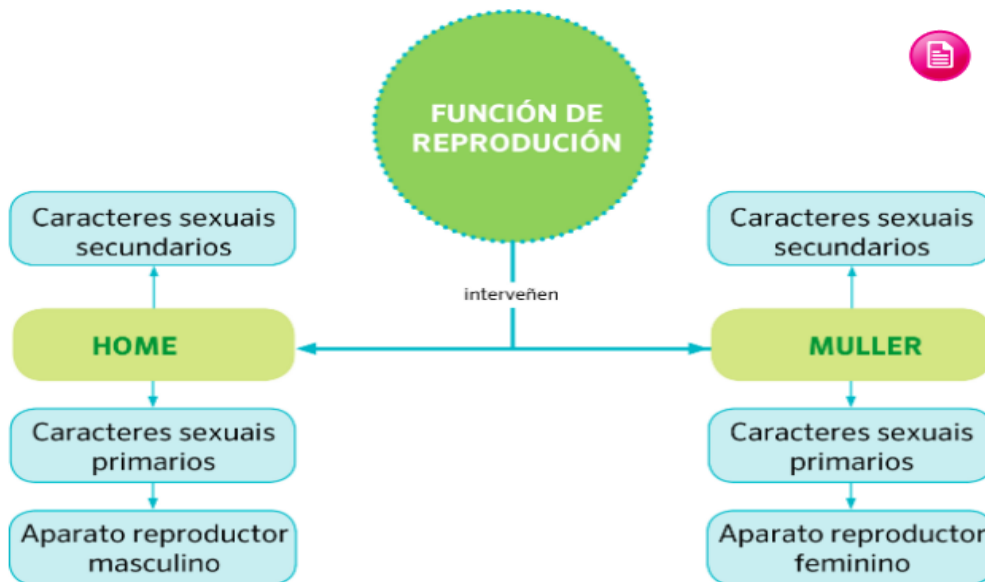
.....  
 .....  
 .....

.....  
 .....  
 .....

.....  
 .....  
 .....

### T. 3: A reprodución

-



3.a) Xoga e localiza as partes do aparato reproductor feminino e do aparato reproductor masculino:

<https://cienciasnaturales.didactalia.net/recurso/aparato-reproductor-femenino-vista-anterior/fbf33568-f05a-417a-85ac-71594f0f3428>

<https://cienciasnaturales.didactalia.net/recurso/aparato-reproductor-masculino-vista-anterior/70cf87d8-a448-4dfb-b884-ddc20d07bfab>

3.b) Completa o texto cos cadros morados:

espermatozoides

puberdade

alongada

óvulos

arredondada

inmaturas

fecundación

testículos

As células reprodutoras masculinas chámanse ..... e as células reprodutoras femininas son os .....

Os espermatozoides teñen forma ..... e os óvulos, .....

Os espermatozoides empezan a formarse nos ..... durante a

Cando unha nena nace ten, no seu aparato reprodutor, gran número de óvulos

Estes óvulos maduran na puberdade.

A unión dun espermatozoide e un óvulo chámase .....