

1 Escribe los resultados.

$3 \times 3 = \square$

$6 \times 2 = \square$

$9 \times 4 = \square$

$3 \times 8 = \square$

$6 \times 5 = \square$

$9 \times 7 = \square$

$3 \times 6 = \square$

$6 \times 9 = \square$

$9 \times 1 = \square$

$3 \times 5 = \square$

$6 \times 7 = \square$

$9 \times 3 = \square$

2 Escribe los números que faltan.

$6 \times \square = 12$

$2 \times \square = 18$

$9 \times \square = 54$

$5 \times \square = 10$

$3 \times \square = 21$

$4 \times \square = 32$

$4 \times \square = 16$

$6 \times \square = 30$

$5 \times \square = 35$

$9 \times \square = 36$

$10 \times \square = 40$

$2 \times \square = 10$

3 Une según corresponda.

3×8

12

3×4

6×2

27

3×3

9×1

24

6×4

3×9

9

9×3

4 Escribe multiplicaciones para estos resultados.

$$36 \begin{cases} \square \times \square \\ \square \times \square \end{cases}$$

$$16 \begin{cases} \square \times \square \\ \square \times \square \end{cases}$$

$$18 \begin{cases} \square \times \square \\ \square \times \square \end{cases}$$

$$40 \begin{cases} \square \times \square \\ \square \times \square \end{cases}$$

5 Colorea de rojo, en cada caso, el resultado de las multiplicaciones.

$$3 \times 5$$

$$6 \times 7$$

$$5 \times 6$$

$$12 \quad 15$$

$$42 \quad 36$$

$$35 \quad 30$$

$$9 \times 9$$

$$4 \times 9$$

$$2 \times 8$$

$$81 \quad 72$$

$$36 \quad 32$$

$$18 \quad 16$$

6 Escribe los resultados.


×	2	3	4	5	6	7	8	9	10
3									
4									
6									
8									
9									

1 Escribe V si es verdadero y F si es falso.


Si tengo 2 medios kilos, tengo 4 cuartos de kilo.

Tres kilos es igual a 8 medios kilos.

2 ¿Cuánto pesan los objetos de cada balanza?



Pesa




Pesa

3 En la gráfica se representan los libros de cada clase que hay en la biblioteca del colegio.



Cuentos



Diccionarios



Novelas



Atlas



¿Cuántos cuentos hay en la biblioteca? × =