

Bos días, no seguinte enlace tedes a proposta de actividade voluntaria desta semana. Seguimos con ritmo! Neste caso, imos repasar os conceptos de PULSO e COMPÁS.

<https://musicasofan0.wixsite.com/compases>












Recórdovos que non tedes que facer de forma obligatoria todas as actividades (non vos quero agobiar, sei que son moitas cousas as que levamos acumuladas, e só temos unha hora semanal). Propoño tarefas variadas para que cada un se organice como mellor poida dependendo do tempo e medios dos que dispoña. Espero darvos instrucións máis claras sobre o que vou avaliar de forma concreta para a semana que ven (e moitas cousas das que me mandastes xa van servir).

Para que vexades se o tedes “todo controlado” déixovos unha ficha cada semana. Ó final do documento tedes o solucionario da ficha da semana anterior, por se queredes ver como vos saiu.

Saúdos!!!

OS COMPASES

Conta o número de pulsos de cada recadro e clasifícaos no quadro de abaixo no compás correspondente:

$\frac{2}{4}$	$\frac{3}{4}$	$\frac{4}{4}$

SOLUCIONARIO SEMANA ANTERIOR
AS FIGURAS MUSICAIS

Como se chaman as seguintes figuras?

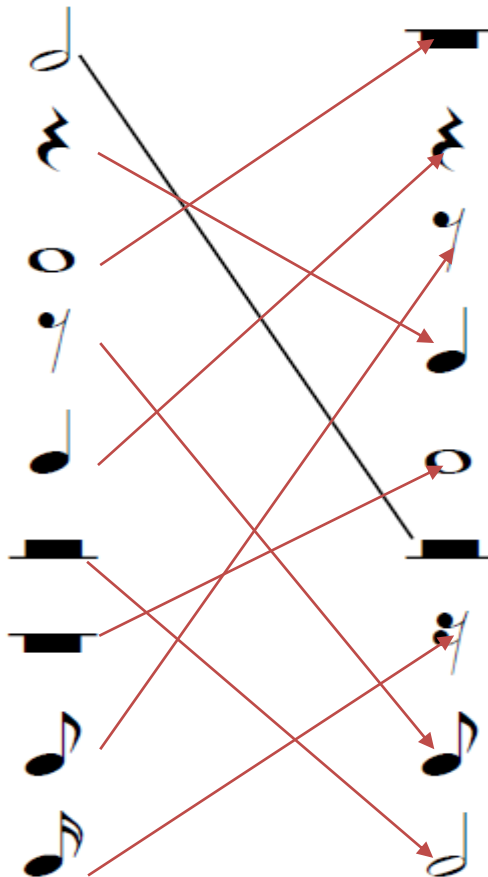
 <div style="border: 1px solid black; padding: 2px; display: inline-block;">NEGRA</div>	 <div style="border: 1px solid black; padding: 2px; display: inline-block;">SEMICORCHEA</div>	 <div style="border: 1px solid black; padding: 2px; display: inline-block;">REDONDA</div>
 <div style="border: 1px solid black; padding: 2px; display: inline-block;">SILENCIO DE REDONDA</div>	 <div style="border: 1px solid black; padding: 2px; display: inline-block;">SILENCIO DE CORCHEA</div>	 <div style="border: 1px solid black; padding: 2px; display: inline-block;">SILENCIO DE BLANCA</div>
 <div style="border: 1px solid black; padding: 2px; display: inline-block;">CORCHEA</div>	 <div style="border: 1px solid black; padding: 2px; display: inline-block;">BRANCA</div>	 <div style="border: 1px solid black; padding: 2px; display: inline-block;">SILENCIO DE NEGRA</div>

Debuxa correctamente as figuras e silencios que se indican



























Dobre corchea Silencio de negra Branca Silencio de branca Redonda

Une cada figura co seu silencio










































O PULSO E AS FIGURAS MUSICAIS

Cantos pulsos vale cada figura?

Conta o número de pulsos que ten cada figura e fai as sumas:

 +  	 +  	 +  +  
 +  	 +  	 +  
 +  	 +  	 +  
 +  +  	 +  	 +  +  

ACLARACIÓN:

TEDE COIDADADO! ACORDADEVOS DA PIZZA!!!

UNHA CORCHEA SOLTA VALE MEDIO PULSO!! O QUE PASA QUE MOITAS VECES DICIMOS QUE VALE 1 PORQUE A COÑECEMOS ASÍ AGRUPADA COMO UNHA PARELLA. PERO SE VAI SOLTA VALE MEDIO!!!

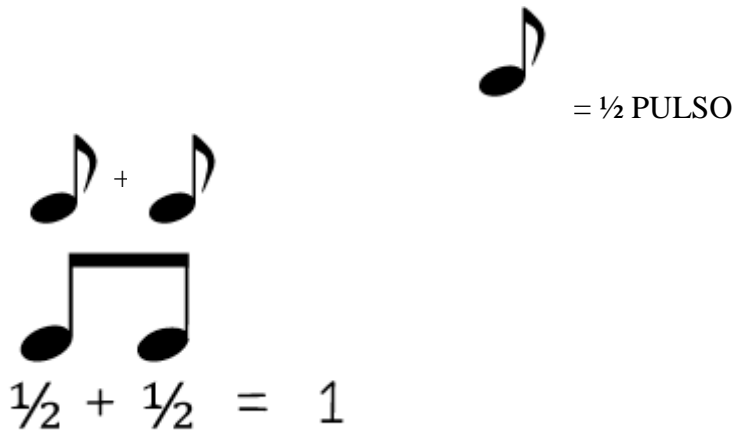


Diagram illustrating the value of a single eighth note (corchea solta). It shows two eighth notes grouped together with a brace, representing a pair (parella), and a single eighth note. The text below the notation states: $\frac{1}{2} + \frac{1}{2} = 1$. To the right, a single eighth note is shown with the text: = ½ PULSO.

PASA O MESMO COA SEMICORCHEA. SE VAI NUN GRUPO DE 4, VALE 1 PULSO, PORQUE ESTÁN AGRUPADAS. PERO SE VAN SOLTAS, CADA UNHA VALE ¼ DE PULSO!

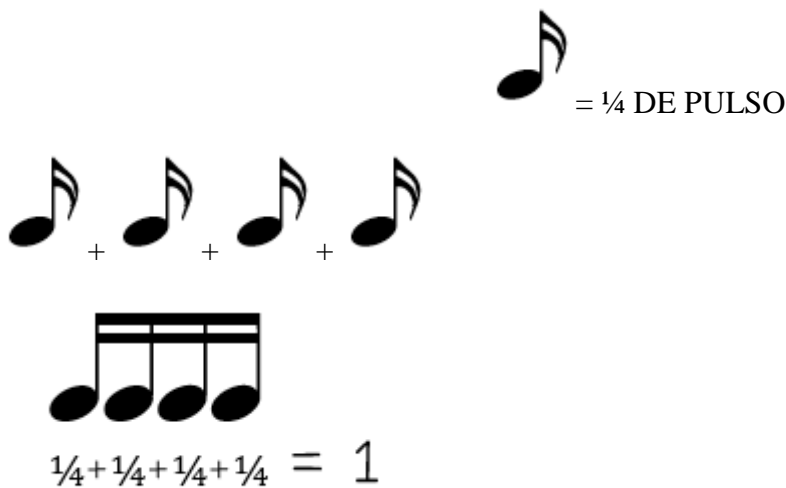


Diagram illustrating the value of a single sixteenth note (semicorchea). It shows four sixteenth notes grouped together with a brace, representing a group of 4, and a single sixteenth note. The text below the notation states: $\frac{1}{4} + \frac{1}{4} + \frac{1}{4} + \frac{1}{4} = 1$. To the right, a single sixteenth note is shown with the text: = ¼ DE PULSO.