



- 1 Marca en cada recta numérica dónde están los números que se indican.


695




408



571



357



- 2 Colorea en cada caso la centena más próxima.

140 → 370 → 430 → 280 →

- 3 Escribe la centena más próxima en cada caso.

- 4 Aproxima los sumandos a la centena y resuelve.

$$387 + 231 = \boxed{} + \boxed{} = \boxed{}$$

$$521 + 187 = \boxed{} + \boxed{} = \boxed{}$$

1 Coloca y resuelve.

$550 - 179$

$621 - 384$

$262 + 159$

$669 - 221$

$809 - 322$

$481 + 223$

$536 + 195$

$862 - 379$

$730 - 149$

2 Calcula el número que falta en cada caso.

$34 + 45 = \square$

$\square + 39 = 90$

$60 + \square = 70$

$65 - 30 = \square$

$78 - \square = 59$

$\square - 48 = 48$

9 Nombre y apellidos:

3 Escribe el resultado.

$5 \times 2 = \square$

$5 \times 8 = \square$

$5 \times 6 = \square$

$10 \times 4 = \square$

$10 \times 7 = \square$

$10 \times 5 = \square$

4 Escribe los números que faltan.

$4 \times \square = 28$

$8 \times \square = 48$

$2 \times \square = 18$

$2 \times \square = 10$

$10 \times \square = 30$

$5 \times \square = 25$

$8 \times \square = 24$

$5 \times \square = 35$

$10 \times \square = 40$

$5 \times \square = 45$

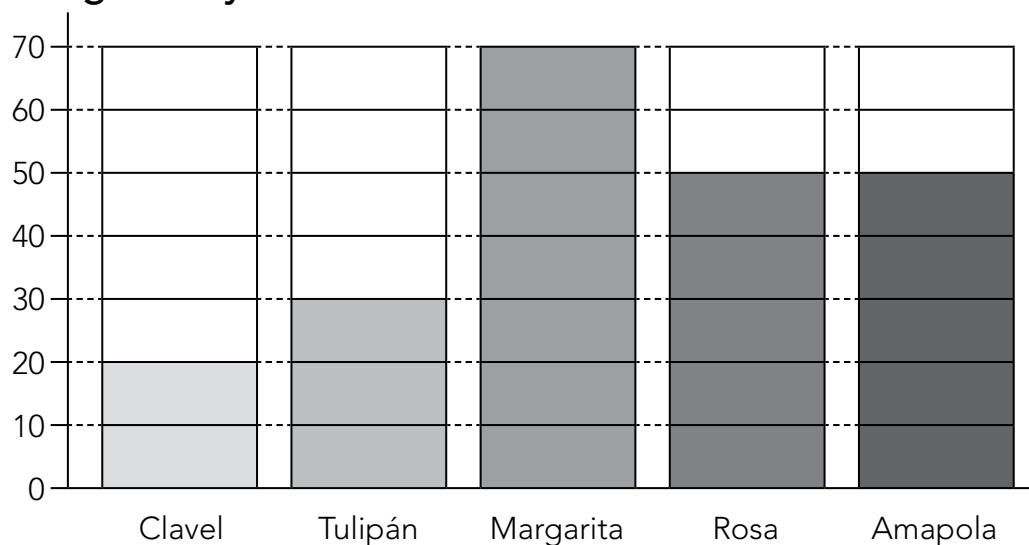
$4 \times \square = 16$

$8 \times \square = 64$

5 Marca la respuesta correcta.

Una lápiz mide: 13 km 13 m 13 cmUn edificio mide: 15 m 15 km 15 cm

6 Observa el gráfico y contesta.



¿Cuántas flores hay de cada clase?

Claveles: Margaritas: Rosas: