

1

Nome e apelidos:


Data:

Ciencias da Natureza 2.º

Ficha
1

1 Escrebe os números das partes da cara sinaladas.

- 1 Fronte
- 2 Olo
- 3 Barbela
- 4 Cella
- 5 Nariz
- 6 Boca
- 7 Labio
- 8 Meixela



2 Sinala na imaxe estas partes do corpo e escribe os seus nomes no lugar que corresponda.

Cabeza	
Tronco	
Extremidades	

- Barbela
- Braço
- Fronte
- Tórax
- Pé
- Abdome



3 Completa.

O cerebro está dentro da

1 Nome e apelidos: _____

4 Escribe os nomes destas partes do corpo no seu lugar.

Corazón

Pulmóns

Riles

Estómago

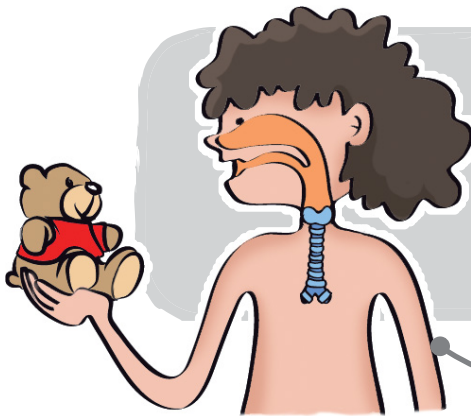
Aparato respiratorio

Aparato circulatorio

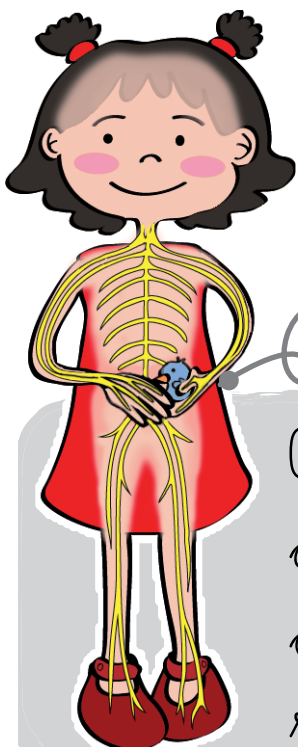
Aparato dixestivo

Aparato excretor

5 Debuxa as partes que faltan e completa cos seus nomes.

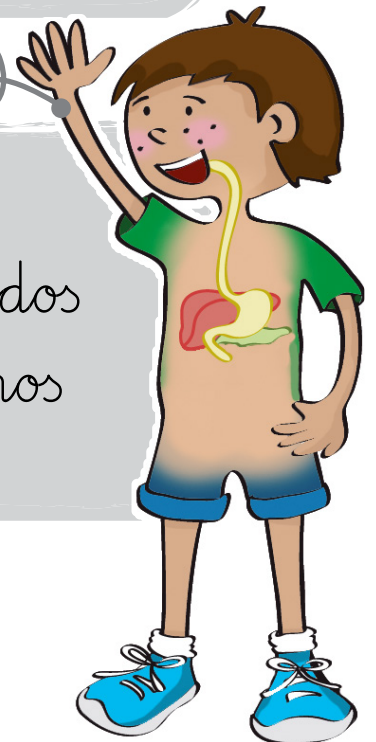


Nos _____ tómase
o osíxeno que necesitamos para
vivir.



Nos _____
obtemos as substancias dos
alimentos que necesitamos
para vivir.

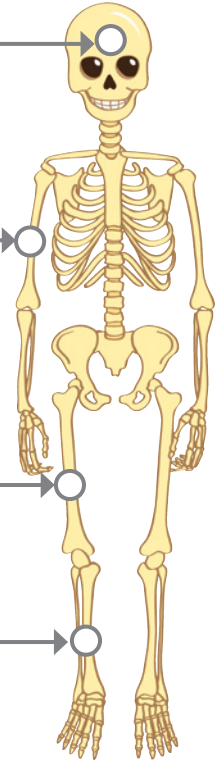
0 _____ recibe
a información que lle levan
os nervios e dá ordes para
reaccionar.



1 Nome e apelidos:

6 Escribe os nomes dos ósos que se sinalan.

Four sets of horizontal lines for writing, each connected by a line to a specific bone on the skeleton diagram.



7 Escribe os nomes das seguintes partes segundo sexan ósos, músculos ou articulacións.

- Peitoral
- Xemelgo
- Ombro
- Abdominal
- Fémur
- Tibia
- Úmero
- Nocello
- Cóbado

Ósos

Four sets of horizontal lines for writing.

Músculos

Four sets of horizontal lines for writing.

Articulacións

Four sets of horizontal lines for writing.

8 Escribe os nomes das etapas da vida.

