



Evaluación: _____ Grupo: _____

Nombre: _____ Fecha: _____

1)

Ordena estos números de menor a mayor y escribe sus nombres.

978 922 959 910

<input type="text"/>	<input type="text"/>
<input type="text"/>	<input type="text"/>
<input type="text"/>	<input type="text"/>
<input type="text"/>	<input type="text"/>

2)

Escribe en orden los números que hay entre el 896 y el 906. ¿Qué número es el que la suma de sus cifras es 11?

<input type="text"/>	<input type="text"/>	<input type="text"/>	<input type="text"/>	<input type="text"/>	<input type="text"/>	<input type="text"/>	<input type="text"/>	<input type="text"/>	<input type="text"/>	<input type="text"/>
----------------------	----------------------	----------------------	----------------------	----------------------	----------------------	----------------------	----------------------	----------------------	----------------------	----------------------

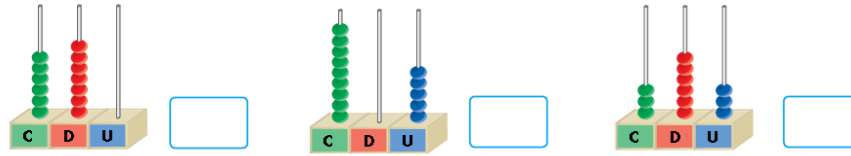
3)

Escribe el número y su descomposición.

novecientos diecisiete \rightarrow \rightarrow + + novecientos veinticuatro \rightarrow \rightarrow + + novecientos treinta y cinco \rightarrow \rightarrow + + novecientos ochenta \rightarrow \rightarrow + novecientos siete \rightarrow \rightarrow +

4)

Escribe los números que están representados en el ábaco.



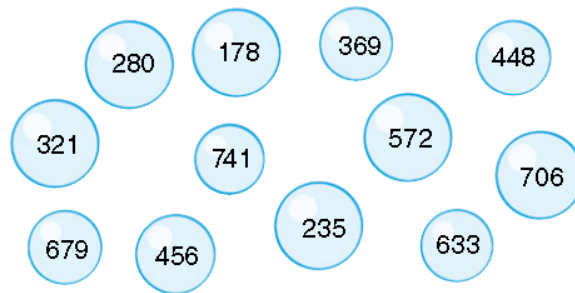
5)

Escribe seis números de tres cifras con la cifra 9 en las centenas y ordénalos de mayor a menor.

□ ○ □ ○ □ ○ □ ○ □ ○ □

6)

Clasifica estos números en pares e impares:



PARES

IMPARES

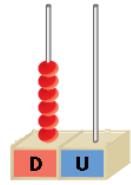
□ □ □

□ □ □

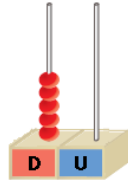
□ □ □

□ □ □

7)
Relaciona.

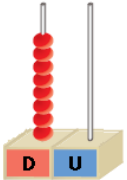


40

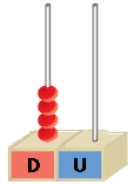


60

80




50



8)

Completa y escribe los siguientes números.



C, D y U

+ + =



C, D y U

+ + =

9)

Suma agrupando los números que suman 10.

$$7 + 8 + 3 = \square + \square = \square$$

$$9 + 8 + 2 = \square + \square = \square$$

$$49 + 4 + 6 = \square + \square = \square$$

10)

¿Cuántas frutas hay en total?

26



15



13