

1

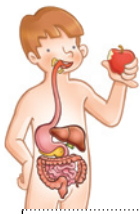
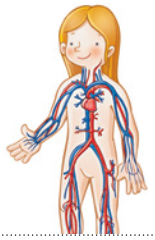
Nome e apelidos:

Data:

Ciencias da Natureza 2.º

Ficha  
2

1 Observa. Despois, rodea segundo se indica e escribe o nome de cada aparato.



corazón



riles



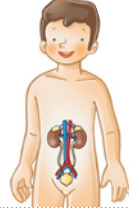
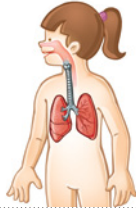
estómago



pulmóns

\_\_\_\_\_

\_\_\_\_\_



\_\_\_\_\_

\_\_\_\_\_

\_\_\_\_\_

\_\_\_\_\_

\_\_\_\_\_

\_\_\_\_\_

2 Completa con catro exemplos de partes do corpo.



\_\_\_\_\_ e \_\_\_\_\_

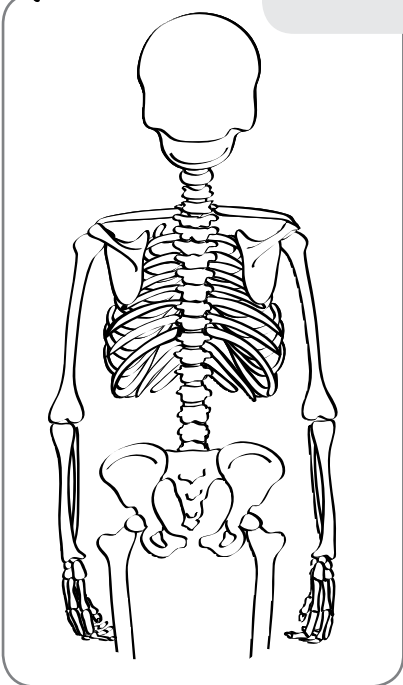
\_\_\_\_\_

\_\_\_\_\_ e \_\_\_\_\_

\_\_\_\_\_



A columna vertebral está nas costas; é como un tubo formado por ósos colocados uns sobre outros.



3 Colorea a columna vertebral e responde.

• Como se chama o óso co que se une a columna vertebral por arriba? Marca.

Cranio  Tibia  Cóbado

• A columna vertebral, permite que as costas se dobren?, por que? Marca.

- Non, porque está formada por un único óso ríxido.
- Si, porque está formada por varios ósos que se articulan entre si.