


MATEMÁTICAS 5ºA/B

Nombre:


Fecha: 18/05/2020

1. Resuelve estas operaciones combinadas:


$$55 - 4 \times 7$$




$$27 + 3 + 4$$




$$3 + 8 + 2$$




$$31 + 40 \times 2$$



$$13 \times 5 - 38$$




$$63 + 17 \times 5$$




2. Resuelve estas sumas.


$$41,2 + 0,25 + 8,73$$




$$26,5 + 17,8 + 45,05$$




$$54,9 + 63,42 + 11,64$$




$$73,36 + 40,9 + 25,27$$



$$81,75 + 26,38 + 15,41$$



$$45,876 + 34,6 + 72,09$$



3. Copia y completa con ceros las cifras decimales que faltan y luego calcula.

$$\begin{array}{r} 95,371 \\ - 24,98 \\ \hline \end{array}$$

$$\begin{array}{r} 291,4 \\ - 38,97 \\ \hline \end{array}$$

$$\begin{array}{r} 310,84 \\ - 286,053 \\ \hline \end{array}$$

$$\begin{array}{r} 137 \\ - 45,29 \\ \hline \end{array}$$

4. Coloca los números y calcula.

● $53,8 - 9,35$

● $213,34 - 45,129$

● $67,4 - 9,156$

● $26,3 - 8,469$

● $78,5 - 45,22$

* $246,28 - 24,67$

5. Calcula:

- $170 - (30 + 120) =$

- $(415 + 180) - 20 =$

- $540 + 125 - 160 =$

- $38 + 75 - 25 =$

- $8 - 3 \times 2 =$

6. Calcula.

- $5 \times 6 - 2 =$

- $(7 - 4) \times 5 =$

- $10 \times (19 - 4) =$

- $15 - 8 + 25 =$

- $7 + 3 \times (35 + 48) =$

7. Observa los resultados de estas operaciones y coloca los paréntesis donde corresponda.

• $3 + 4 \times 5 = 23$

• $2 \times 12 + 21 = 66$

• $3 \times 5 + 3 = 18$

• $5 \times 8 - 3 = 25$

• $18 - 5 \times 3 = 39$

• $10 + 2 \times 5 = 20$

• $12 \times 6 + 9 = 81$

• $3 \times 9 + 5 \times 3 = 42$

• $10 + 3 \times 9 = 117$

• $13 - 7 + 6 = 0$

• $5 - 3 + 6 = 8$

• $7 \times 4 - 2 = 14$

8. Completa.

a) $45 - 7 \times (13 - 8) = 45 - 7 \times \dots\dots\dots = 45 - \dots\dots\dots = \dots\dots\dots$

b) $6 \times (15 - 7) + 6 = 6 \times \dots\dots\dots + 6 = \dots\dots\dots + 6 = \dots\dots\dots$

9. Un camión transporta 325 cajas con 12 botellas de un litro de aceite cada una. El precio del litro de aceite es de 4 €. ¿Cuál es el *coste total de la carga* del camión?

10. Una tienda de confección adquiere, por 1 350 €, 18 cajas de 25 pañuelos cada una. ¿Qué ganancia espera obtener si pone a la venta los pañuelos a 5 € la unidad?