

Óscar juega con su abuelo al dominó y hace operaciones y juegos matemáticos.



1. Mira la mesa, ¿cuántos puntos tiene la ficha con menos puntos?

Tiene puntos.

2. Dibuja los puntos que faltan en las fichas para que las sumas sean correctas:



● ● ●	
● ● ● ●	
+	

7	5

+	

3	6

● ●	
● ● ● ● ● ●	
+	

6	8

3. Observa el ejemplo y completa:



25

2 decenas y 5 unidades.



.....


..... decenas y unidades.



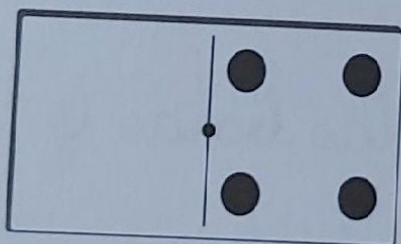
.....

..... decenas y unidades.

4. Dibuja los puntos que faltan para que las fichas sumen lo mismo y completa las operaciones:




=



$$2 + 5 = \dots + 4$$



=



$$5 + 3 = 6 + \dots$$



=



$$4 + \dots = 2 + 3$$



=



$$\dots + 5 = 6 + 4$$

