

Nombre _____ Fecha _____

Las plantas del jardín

En el jardín de casa vamos a cultivar plantas variadas. El jardinero nos ha dado estas instrucciones:

- En la zona de abajo a la izquierda plantaremos bellos rosales y romero aromático.
- En la zona de arriba a la izquierda plantaremos altos pinos.
- En la zona de abajo a la derecha plantaremos tréboles de tres hojas, césped y palmeras, que darán ricos dátiles.
- En la zona de arriba a la derecha plantaremos césped y preciosos lirios alargados.



1. Rodea en las instrucciones los nombres de las plantas.


2. Escribe cada letra en el lugar del plano que corresponda.

3. Rodea las plantas según se indica.

Árboles ► verde

Arbustos ► marrón

Hierbas ► rojo





4. Escribe dos nombres de plantas en cada caso.


Árboles	Arbustos	Hierbas
<input type="text" value="Pinos"/>	<input type="text"/>	<input type="text"/>
<input type="text"/>	<input type="text"/>	<input type="text"/>


5. Colorea solo las plantas que se van a plantar en el jardín.

6. Colorea en la lámina las distintas zonas del jardín según se indica.

Zona con árboles: verde 

Zona con arbustos: marrón 

Zona con hierbas: rojo 

Zona con distintas plantas: azul 

7. ¿De qué planta se trata? Lee y completa.

Es un arbusto aromático.

Su tronco es corto.

Tiene hojas pequeñas y abundantes y flores de color violeta.

Esta planta es el .

Es un árbol de gran altura.

Su tronco es largo.

Tiene hojas grandes y abundantes y su fruto es el dátil.

Esta planta es la .

Es una hierba pequeña.


Su tallo es tierno, de color verde y largo.

Tiene tres hojas.


Esta planta es el .



8. Dibuja las tres plantas anteriores.



9. Dibuja el plano de un jardín y la distribución de plantas que te gustaría tener.



10. Explica por qué has distribuido de esta forma las plantas en el jardín.

Four horizontal rectangular lines provided for writing the explanation.

En la bodega de mi tío hay 14 barriles de vino tinto, 15 de vino dulce y 17 de vino blanco. ¿Cuántos barriles tiene mi tío en la bodega?

Un camión puede cargar 89 cajas de melocotones y sólo lleva 45 ¿Cuántas cajas le faltan para completar la carga?

En un plato tenemos 27 peras y en otro 18 si nos comemos 25 peras, ¿cuántas peras quedan?

En una cesta hay 48 naranjas y en otra 10 ¿Cuántas naranjas hay en la primera cesta más que en la segunda?

Un queso vale 22 €, un paquete de galletas 2 € y una botella de leche 2 €. ¿Cuánto vale todo?

Tengo un estuche con 20 lápices y otro con 13, si regalo 17 a mi hermano, ¿cuántos lápices me quedan?

En un salón hay 13 mujeres, 26 hombres y 11 niños. ¿Cuántas personas hay en el salón?