

PRIMER TRIMESTRE
Unidad 1. Lengua

AR


Nombre y apellidos:

Curso: Fecha:


📶 Completa con las letras que faltan.



__ a __ á




__ i __ a



o __ o

📶 Lee y colorea.

El oso y el sol.



📶 Copia.

Luis lee y suma.

.....

PRIMER TRIMESTRE
Unidad 1. Matemáticas

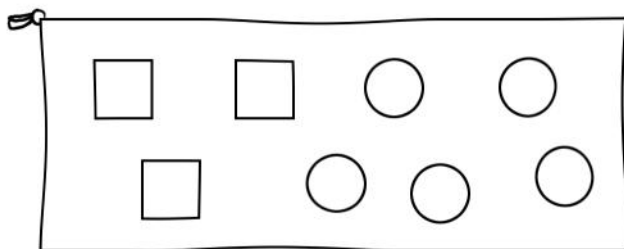
AR

Nombre y apellidos:

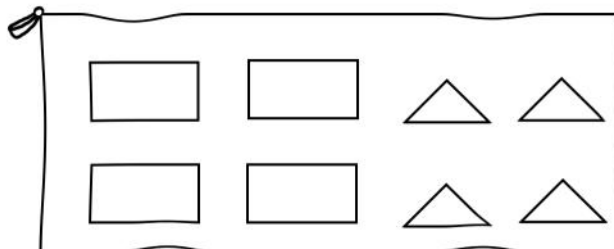
Curso: Fecha:

 Colorea.

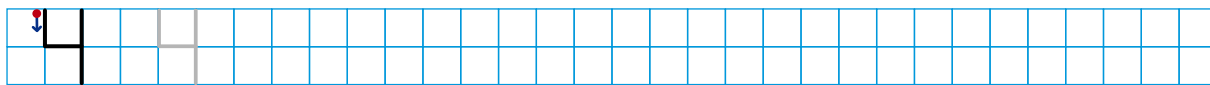
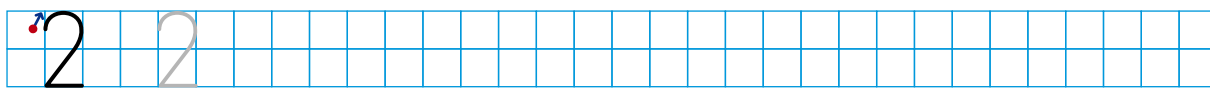
más  que 




menos  que 




 Escribe los números.




 Cuenta y rodea el número que corresponda.



1-2-3-4



1-2-3-4



1-2-3-4


PRIMER TRIMESTRE
Unidad 1. Conocimiento del Medio

AR

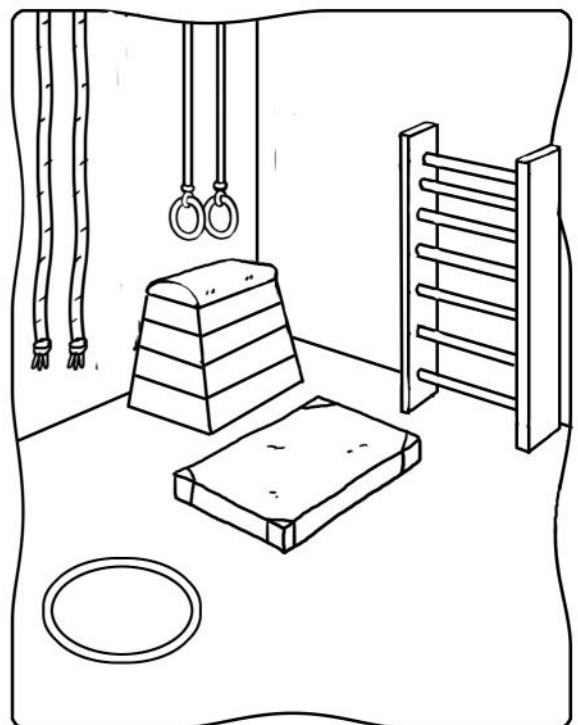
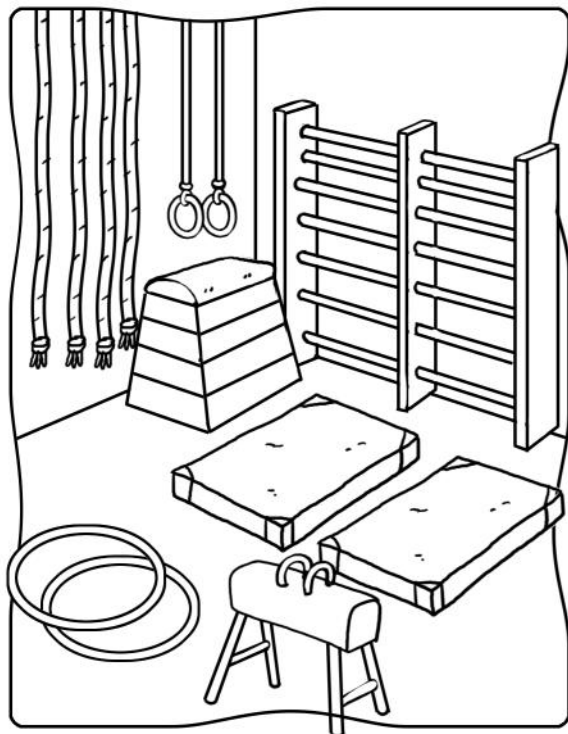
Nombre y apellidos:

Curso: Fecha:

Colorea de azul los objetos que hay en tu clase.




Rodea las 5 diferencias.




Nombre y apellidos:

Curso: Fecha:


 Escribe y colorea solo lo que se indica.

El limón



.....
.....
.....

La amapola



.....
.....
.....

 Escribe *el* o *la* y une las parejas.

.....
.....
.....

león

.....
.....
.....

pato

.....
.....
.....

pata

.....
.....
.....

leona

.....
.....
.....

mono

.....
.....
.....

oso

.....
.....
.....

osa

.....
.....
.....

mona

PRIMER TRIMESTRE

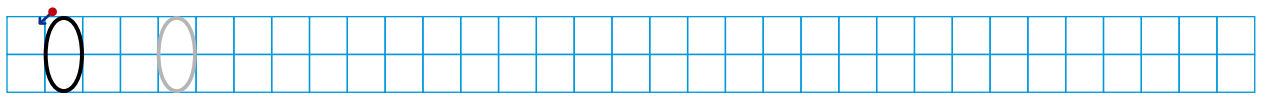
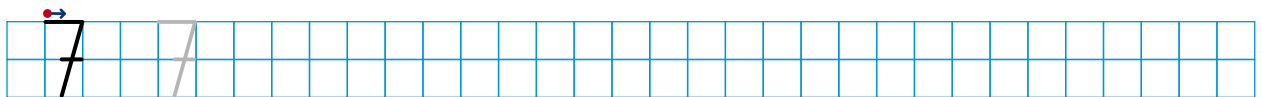
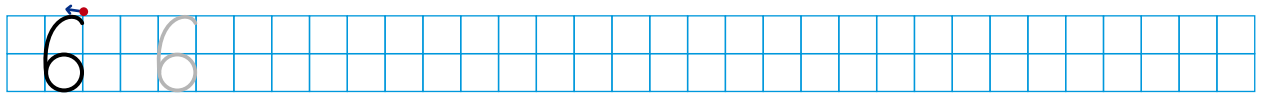
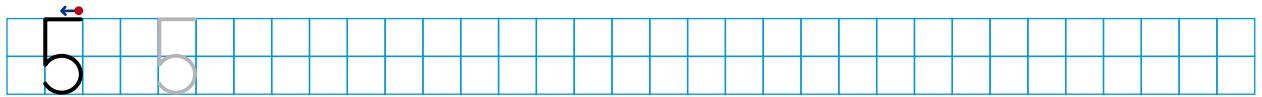
Unidad 2. Matemáticas


AR

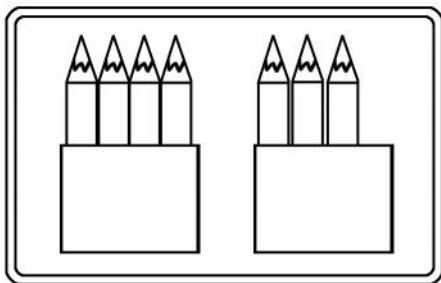
Nombre y apellidos:

Curso: Fecha:

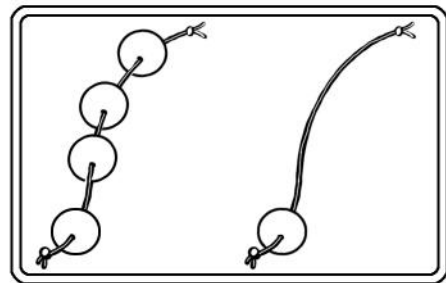
 Escribe los números.




 Cuenta y calcula.




$$\boxed{4} + \boxed{} = \boxed{}$$



$$\boxed{4} + \boxed{} = \boxed{}$$



$$\boxed{5} - \boxed{} = \boxed{}$$



$$\boxed{4} - \boxed{} = \boxed{}$$


PRIMER TRIMESTRE
Unidad 2. Conocimiento del Medio


AR

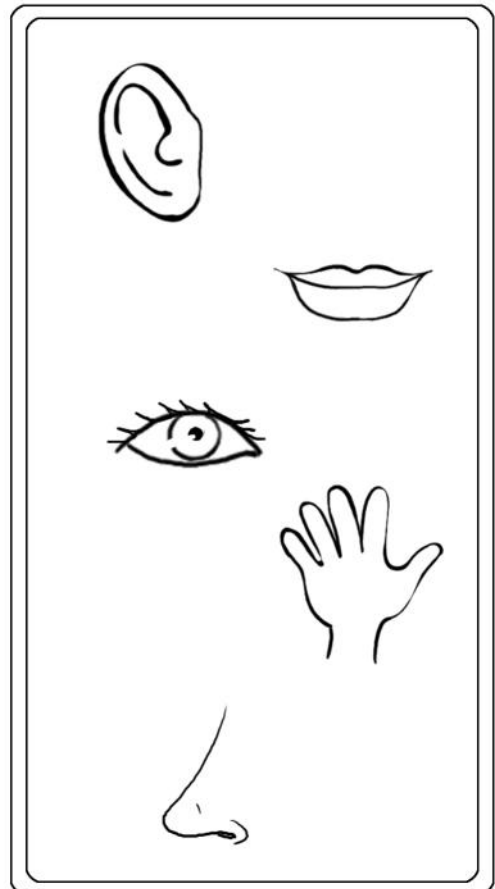
Nombre y apellidos:

Curso: Fecha:

 Rodea el personaje que más se parece a ti.



 Une según corresponda.



Nombre y apellidos:

Curso: Fecha:

 Escribe la letra mayúscula o la minúscula.

h - _

f - _

Ch - _

c - _


M - _

qu - _

 Escribe donde corresponda.



queso - cama - cuna - saquito
comida - paquete - cuento
peluquín - oca - cometa



ca

co

cu

Blank handwriting lines for the 'ca' column.

Blank handwriting lines for the 'co' column.

Blank handwriting lines for the 'cu' column.

Blank handwriting lines for the 'que' column.

Blank handwriting lines for the 'qui' column.

Blank handwriting lines for the 'qui' column.

que

qui

Blank handwriting lines for the 'que' column.



Blank handwriting lines for the 'qui' column.

Blank handwriting lines for the 'que' column.

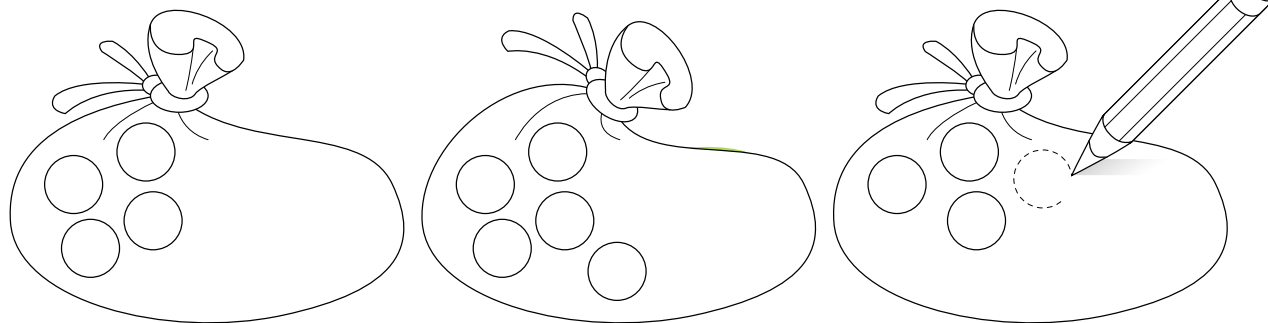


Blank handwriting lines for the 'qui' column.

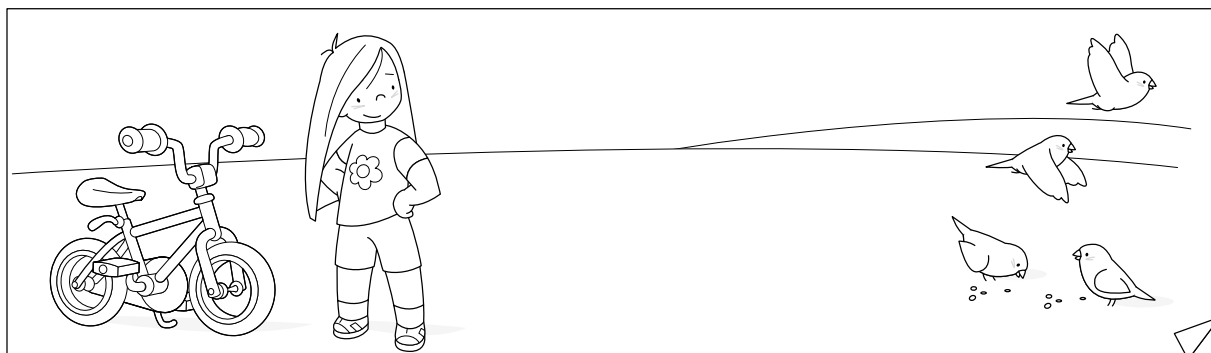
Nombre y apellidos:

Curso: Fecha:


📶 Completa hasta 10.



📶 Tacha lo que está cerca de la niña y rodea lo que está lejos de la niña.



📶 Colorea de rojo lo que está dentro del frutero y de amarillo lo que está fuera.




PRIMER TRIMESTRE
Unidad 3. Conocimiento del Medio


AR

Nombre y apellidos:

Curso: Fecha:

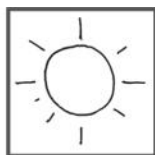
 Colorea lo que utilizas para comer o beber.



 Escribe tu menú.

melón - leche - filete - patatas - cacao

sandía - pescado - tostada - sopa



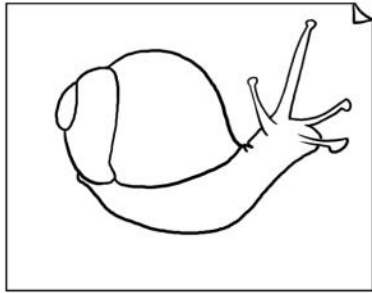
PRIMER TRIMESTRE
Unidad 4. Lengua

AR


Nombre y apellidos:

Curso: Fecha:


 Completa las palabras.



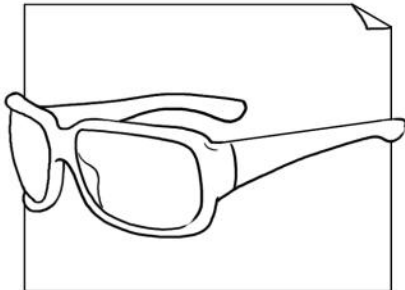
ca__col



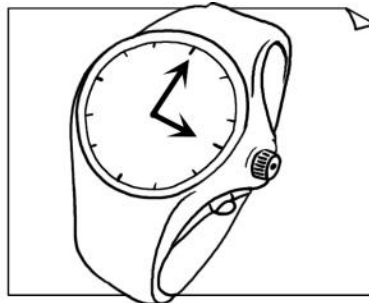
espe__




__rafa




__fas



__loj



a__la

 Une según corresponda.

un

una

amigo

gota

quisante

lechuga

gusano

PRIMER TRIMESTRE
Unidad 4. Matemáticas

AR

Nombre y apellidos:

Curso: Fecha:

 Rodea en cada caso así:

número mayor → rojo número menor → verde

3	7	5	1	10
---	---	---	---	----

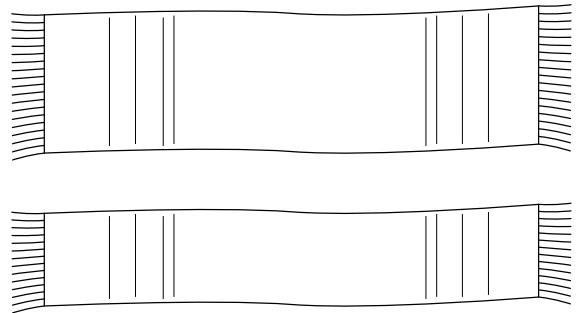

8	6	9	7	4
---	---	---	---	---

 Escribe el número anterior y el número posterior.

<input type="text"/>	←	7	→	<input type="text"/>
<input type="text"/>	←	1	→	<input type="text"/>
<input type="text"/>	←	5	→	<input type="text"/>


<input type="text"/>	←	3	→	<input type="text"/>
<input type="text"/>	←	8	→	<input type="text"/>
<input type="text"/>	←	6	→	<input type="text"/>

 Colorea la toalla más larga y la bufanda más estrecha.



 Completa.

1	+1	<input type="text"/>	+2	<input type="text"/>	+1	<input type="text"/>	+2	<input type="text"/>	+1	<input type="text"/>	+2	10
---	----	----------------------	----	----------------------	----	----------------------	----	----------------------	----	----------------------	----	----





PRIMER TRIMESTRE
Unidad 4. Conocimiento del Medio

AR

Nombre y apellidos:

Curso: Fecha:

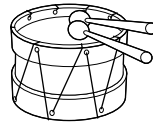
 Colorea las cosas de aseo y tacha las que no lo son.



Nombre y apellidos:

Curso: Fecha:

📶 Escribe las palabras que faltan.



El músico toca el




Los



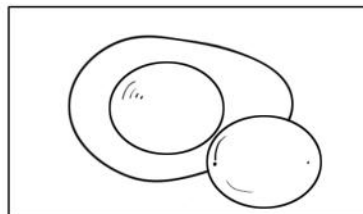
del

son enormes.


📶 Completa con ñ o y.



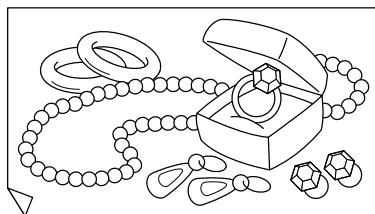
pi_a



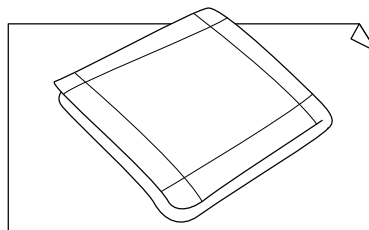
_ema



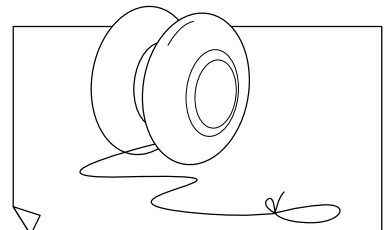
mu_eca



jo_as



pa_uelo



_o_ó

PRIMER TRIMESTRE
Unidad 5. Matemáticas

AR

Nombre y apellidos:

Curso: Fecha:

 Escribe cómo se leen estos números:


15 →

18 →

12 →

10 →

16 →

 Suma y resta.

$$\begin{array}{r} 5 \\ + 2 \\ \hline \square \end{array}$$

$$\begin{array}{r} 7 \\ + 1 \\ \hline \square \end{array}$$

$$\begin{array}{r} 9 \\ + 0 \\ \hline \square \end{array}$$

$$\begin{array}{r} 3 \\ + 3 \\ \hline \square \end{array}$$

$$\begin{array}{r} 8 \\ - 5 \\ \hline \square \end{array}$$

$$\begin{array}{r} 9 \\ - 3 \\ \hline \square \end{array}$$

$$\begin{array}{r} 6 \\ - 6 \\ \hline \square \end{array}$$

$$\begin{array}{r} 9 \\ - 8 \\ \hline \square \end{array}$$

PRIMER TRIMESTRE
Unidad 5. Conocimiento del Medio

AR

Nombre y apellidos:

Curso: Fecha:

📶 Escribe el nombre de cada profesión.



.....
.....
.....



.....
.....
.....

📶 Une para formar frases y escribe la última.

La peluquera

cuida el jardín.

El bombero

cura enfermos.

El médico

corta el pelo.

La jardinera

apaga fuegos.

.....
.....
.....

.....
.....
.....

SEGUNDO TRIMESTRE
Unidad 1. Lengua

AR

Nombre y apellidos:

Curso: Fecha:

 Copia y sustituye los dibujos por palabras.

El  anda despacio.


.....
.....
.....

La  salta la valla.

.....
.....
.....

El  come hojas.

.....
.....
.....

 Elige y completa.

ll - y

v - b

k - c

pa__aso

__elas

__oala

ardi__a

__urro

__amisa


SEGUNDO TRIMESTRE

Unidad 1. Matemáticas

AR

Nombre y apellidos:

Curso: Fecha:

 Une según corresponda.

$$20 + 9$$

$$24$$

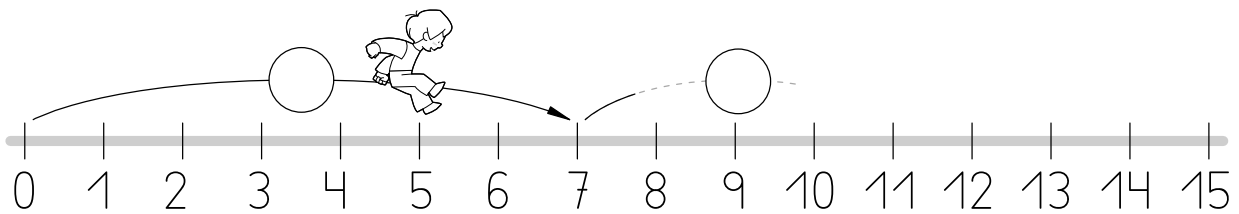
$$20 + 4$$

$$29$$

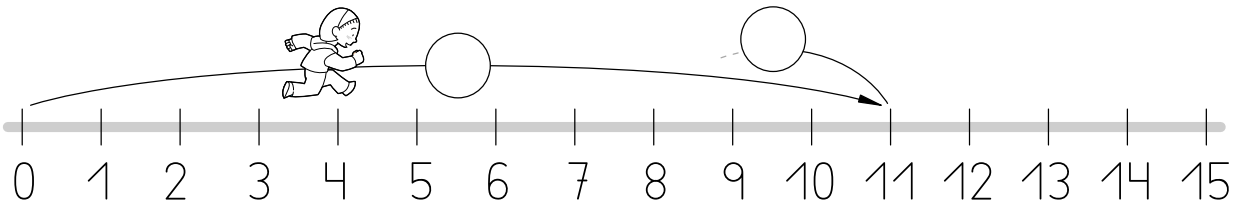
$$20 + 7$$

$$27$$


 Completa.



$$7 + 4 = \square$$



$$11 - 3 = \square$$

 Suma y resta.

$$\begin{array}{r} 7 \\ + 5 \\ \hline \square \end{array}$$

$$\begin{array}{r} 8 \\ - 2 \\ \hline \square \end{array}$$

$$\begin{array}{r} 9 \\ + 9 \\ \hline \square \end{array}$$

$$\begin{array}{r} 9 \\ - 6 \\ \hline \square \end{array}$$

$$\begin{array}{r} 3 \\ + 1 \\ \hline \square \end{array}$$


SEGUNDO TRIMESTRE

Unidad 1. Conocimiento del Medio

AR

Nombre y apellidos:

Curso: Fecha:

 Escribe si lo haces solo o acompañado.

Jugar al fútbol →

Salir de paseo →

Ir de excursión →

Leer cuentos →

Pintar →

Ir al cine →

 Une y escribe lo que haces tú solo.

Ordenar

la habitación.

Recoger

la ropa.

Tender

los juguetes.


SEGUNDO TRIMESTRE
Unidad 2. Lengua

AR

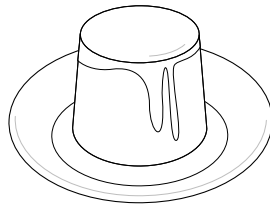
Nombre y apellidos:

Curso: Fecha:

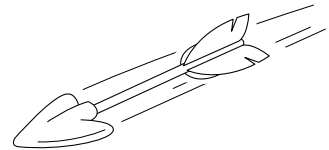
📶 Completa con *fr* o *fl*.




___esa




___an



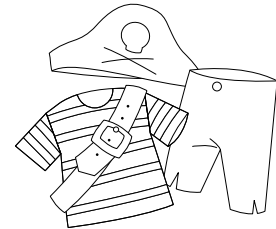
___echa



___asco



___or

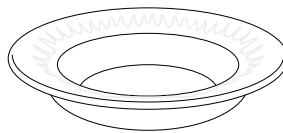


dis___az

📶 Completa con *pr* o *pl*.



___emio



___ato



___uma

📶 Une las palabras que signifiquen lo mismo.

bella

enfadada

feliz

hermosa

furiosa

contento

SEGUNDO TRIMESTRE

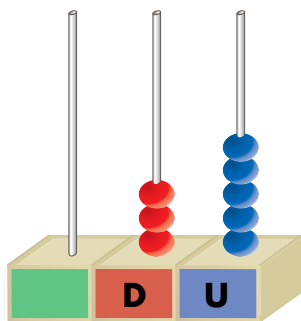
Unidad 2. Matemáticas

AR

Nombre y apellidos:

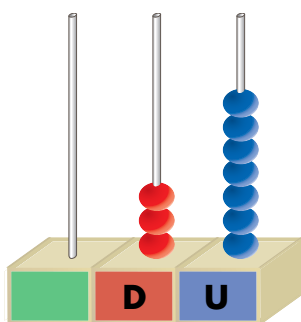
Curso: Fecha:

 Completa.




decenas y unidades

+ =



decenas y unidades

+ =

 Suma y resta.

$$\begin{array}{r} 24 \\ + 15 \\ \hline \square \end{array}$$

$$\begin{array}{r} 17 \\ + 10 \\ \hline \square \end{array}$$

$$\begin{array}{r} 34 \\ + 5 \\ \hline \square \end{array}$$

$$\begin{array}{r} 28 \\ + 11 \\ \hline \square \end{array}$$

$$\begin{array}{r} 9 \\ - 5 \\ \hline \square \end{array}$$

$$\begin{array}{r} 4 \\ - 4 \\ \hline \square \end{array}$$

$$\begin{array}{r} 6 \\ - 4 \\ \hline \square \end{array}$$

$$\begin{array}{r} 4 \\ - 0 \\ \hline \square \end{array}$$

SEGUNDO TRIMESTRE


Unidad 2. Conocimiento del Medio

AR

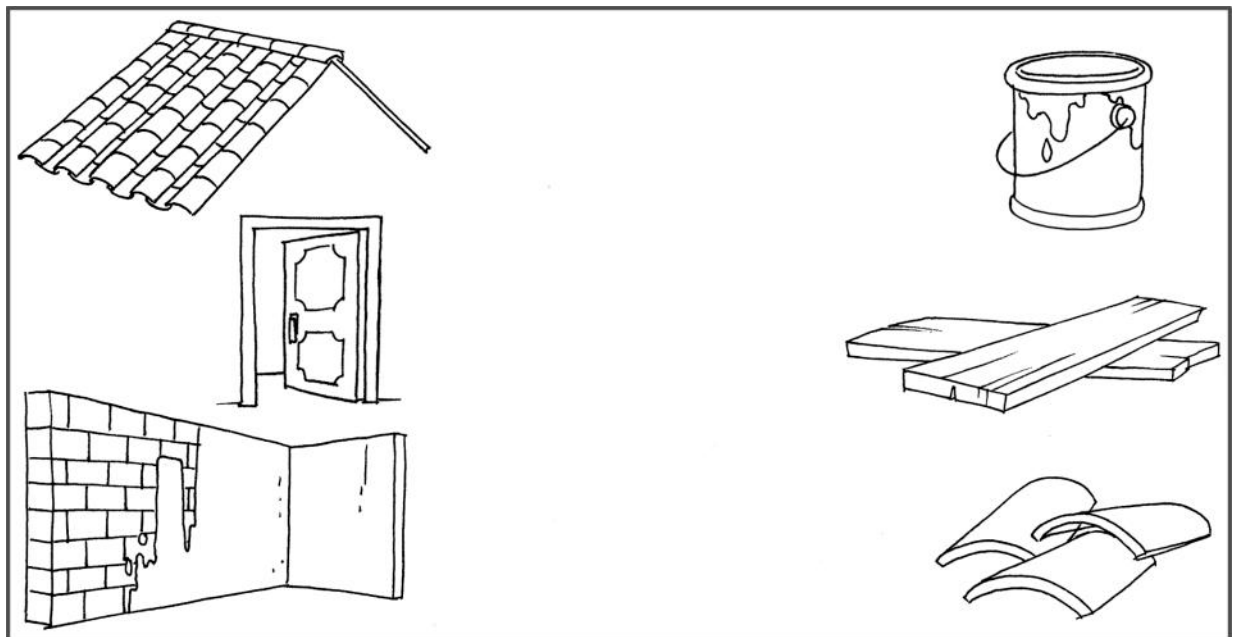
Nombre y apellidos:

Curso: Fecha:

📶 Escribe los nombres de las partes de esta casa:



📶 Une las partes de la casa con sus materiales.



SEGUNDO TRIMESTRE
Unidad 3. Lengua

AR

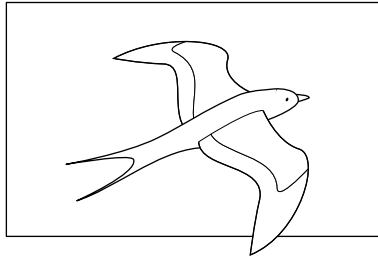
Nombre y apellidos:

Curso: Fecha:


📶 Completa con tr, dr, br, bl.




___usa




golon___ina




ce___a



ma___e



es___ella



almen___o

📶 Clasifica los nombres del ejercicio anterior.

Personas

.....
.....

Plantas

.....
.....

Animales

.....
.....

Cosas

.....
.....

.....
.....

.....
.....

SEGUNDO TRIMESTRE

Unidad 3. Matemáticas

AR

Nombre y apellidos:


Curso: Fecha:

 Escribe el nombre.

4D y 2U → →

4D y 8U → →

4D y 6U → →

 Coloca y calcula.

48 - 35

	D	U

22 + 17

	D	U

36 - 4

	D	U

 Completa.

$9 + \square = 18$

$11 + \square = 14$

$20 - 10 = \square$

$11 \bigcirc 11 = 22$

$10 \bigcirc 1 = 9$

$\square + 7 = 12$


SEGUNDO TRIMESTRE
Unidad 3. Conocimiento del Medio

AR


Nombre y apellidos:

Curso: Fecha:


📶 Escribe los nombres de estos mamíferos:




.....
.....



.....
.....



.....
.....



.....
.....

📶 Completa.

El hijo de la vaca es el

El hijo de la osa es el

El lobo es hijo de la

El hijo de la oveja es el

La yegua es la madre del

📶 Rodea los alimentos que obtenemos de la vaca.

huevos

miel

leche

lana

carne

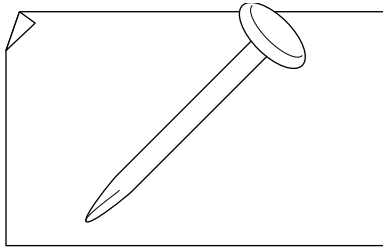
SEGUNDO TRIMESTRE
Unidad 4. Lengua

AR

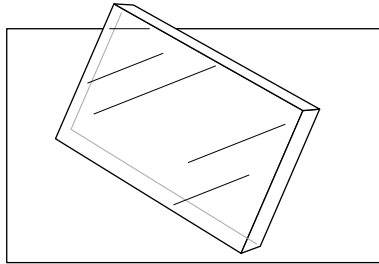
Nombre y apellidos:

Curso: Fecha:

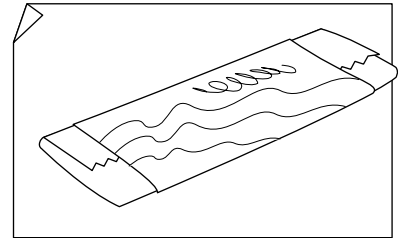
📶 Completa con sílabas con **cr** o **cl**.




___avo



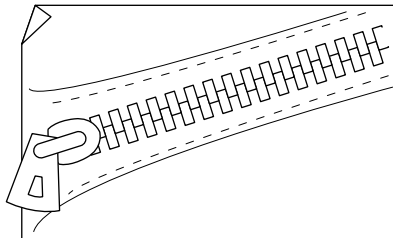
___istal



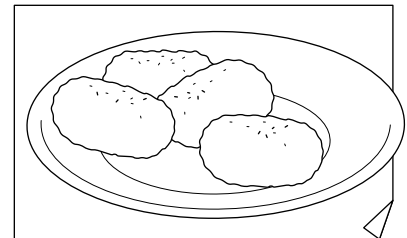
chi___e



bici___eta




___emallera



___oquetas

📶 Completa con **gr** o **gl**.



Mi amiga ___oria tiene
un libro de la jun___a.

Allí viven ti___es muy
peli___osos.

SEGUNDO TRIMESTRE
Unidad 4. Matemáticas

AR

Nombre y apellidos:

Curso: Fecha:

 Rodea las monedas que necesitas.



 Completa.

Resta a 29 su número anterior.

$$\begin{array}{r} 29 \\ \ominus \square \\ \hline \square \end{array}$$

Suma a 22 su número posterior.

$$\begin{array}{r} 22 \\ \ominus \square \\ \hline \square \end{array}$$

 Ordena de menor a mayor.

48 - 54 - 14 - 37 - 23 - 46 - 8

SEGUNDO TRIMESTRE


Unidad 4. Conocimiento del Medio

AR





Nombre y apellidos:

Curso: Fecha:

Colorea así: aves domésticas → azul
aves silvestres → verde



Ordena los dibujos.



SEGUNDO TRIMESTRE
Unidad 5. Lengua

AR

Nombre y apellidos:

Curso: Fecha:

📶 Completa con **q** o **qu**.

El ___ato mailla en el tejado.



El ___epardo es muy veloz.

___ustavo toca la ___itarra.

No me ___ustan las tartas con ___indas.

Á ___eda ___anó una ___ominola.

📶 Escribe cómo son.



.....
.....

.....
.....

.....
.....

📶 Escribe una frase sobre cada dibujo anterior.

.....
.....

.....
.....


.....
.....

SEGUNDO TRIMESTRE
Unidad 5. Matemáticas

AR

Nombre y apellidos:

Curso: Fecha:

 Completa y rodea así:

números pares → verde


números impares → rojo

15	16						
							30

 Cuenta los resultados de la encuesta sobre frutas y completa.



--	--	--	--	--	--	--	--	--	--	--	--	--	--	--	--	--	--



--	--	--	--	--	--	--	--	--	--	--	--	--	--	--	--	--	--



--	--	--	--	--	--	--	--	--	--	--	--	--	--	--	--	--	--

Prefieren las manzanas niños.

Prefieren las peras niños.

Prefieren el melón niños.



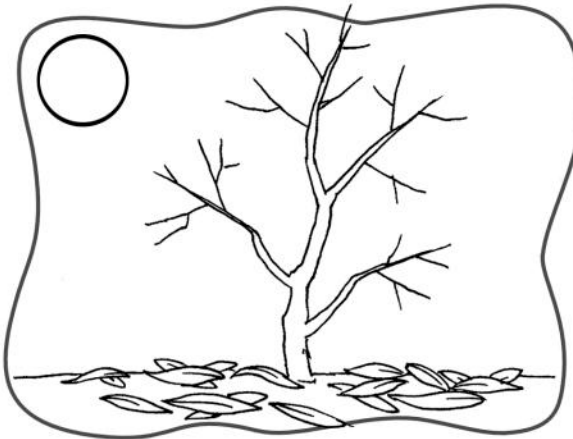

SEGUNDO TRIMESTRE
Unidad 5. Conocimiento del Medio

AR

Nombre y apellidos:

Curso: Fecha:

 Ordena estos dibujos y colorea:




TERCER TRIMESTRE

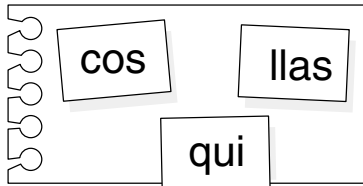
Unidad 1. Lengua

AR

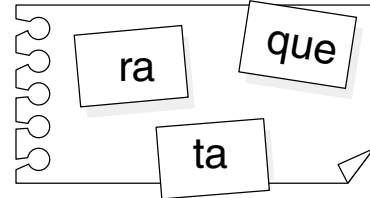
Nombre y apellidos:

Curso: Fecha:

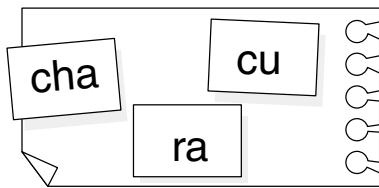
 Une las sílabas y escribe las palabras.



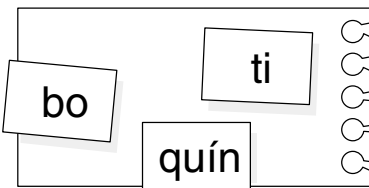
.....
.....



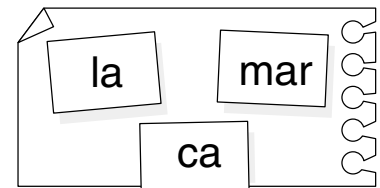
.....
.....



.....
.....

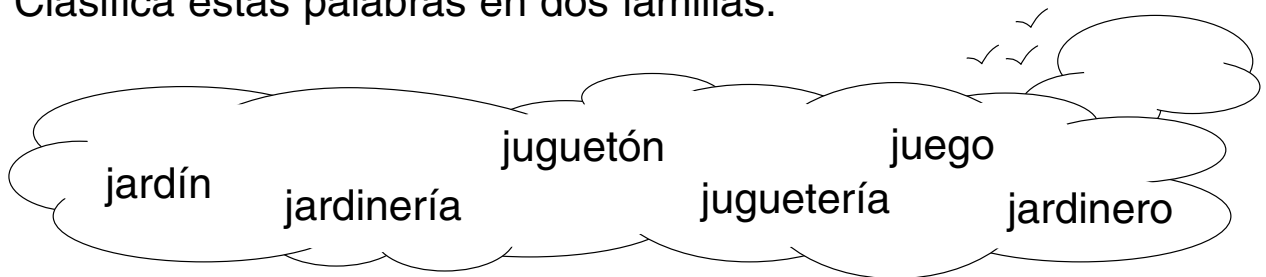


.....
.....



.....
.....

 Clasifica estas palabras en dos familias:



.....
.....

.....
.....

.....
.....

.....
.....

.....
.....

.....
.....

TERCER TRIMESTRE

Unidad 1. Matemáticas

AR

Nombre y apellidos:


Curso: Fecha:

 Completa.

→ 7 D y 2 U →

60 → D y U →

→ D y U → cincuenta y nueve

 Coloca y calcula.

	4	8	+	2	7			4	9	-	1	5			3	9	+	6	

 Problema.

Margarita ha cazado 15 ranas y las ha metido en un bote, pero al llegar a su casa solo encuentra en el interior del bote 4 ranas. ¿Cuántas se le han escapado?

Se le han escapado ranas.

TERCER TRIMESTRE
Unidad 1. Conocimiento del Medio

AR

Nombre y apellidos:

Curso: Fecha:

📶 Completa con estas palabras:

agua - Sol - viento


Cuando llueve, cae de las
nubes.

El es una estrella.

Cuando el aire se mueve, se llama

.

📶 Colorea lo que necesita agua y luz para vivir.




TERCER TRIMESTRE

Unidad 2. Lengua

AR

Nombre y apellidos:

Curso: Fecha:

 Une con una línea azul las palabras que significan lo mismo, y con una roja las que significan lo contrario.

subir

bonita

hermosa

bajar

corto

aburrirse

pena


largo




entender

tristeza

divertirse

comprender

 Relaciona cada frase y cada dibujo con un número, y escribe una frase más para el dibujo que falta.



¡Lo conseguí!

¿Cómo te encuentras?

¿Quieres más?

¡Qué frío!

¿Cuánto cuesta?

TERCER TRIMESTRE

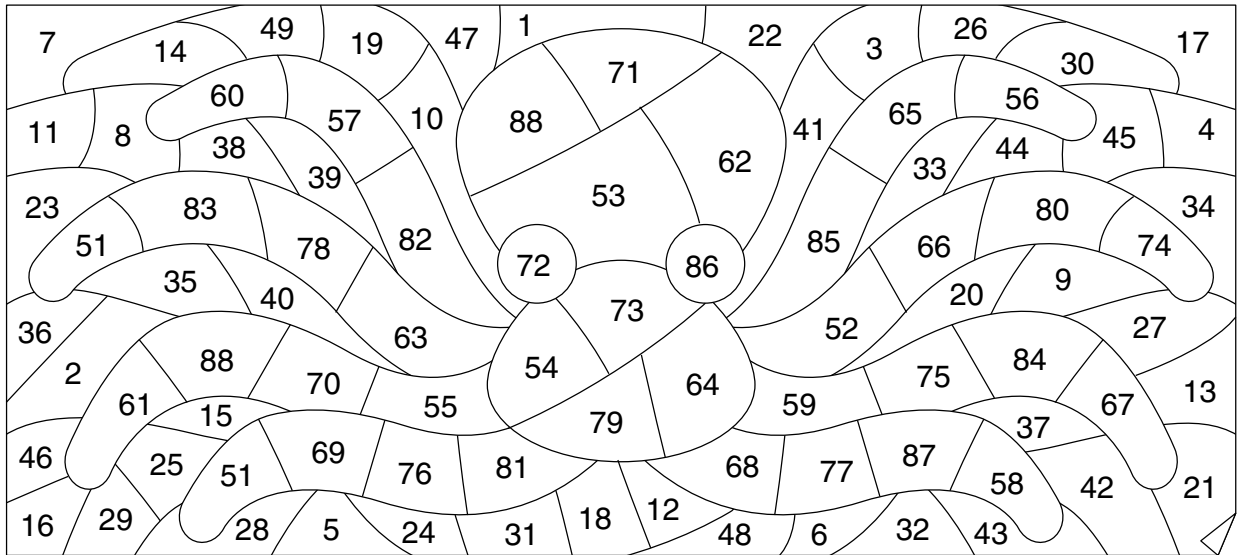
Unidad 2. Matemáticas


AR

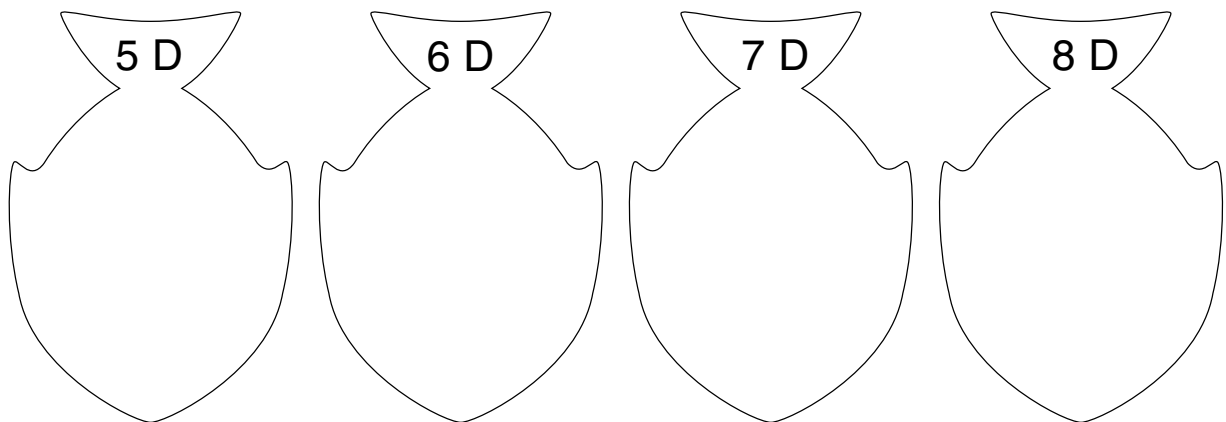
Nombre y apellidos:

Curso: Fecha:

 Colorea los números comprendidos entre el 50 y el 89.



 Clasifica los números que has coloreado.



 Suma y resta.

$$\begin{array}{r} 54 \\ + 9 \\ \hline \square \end{array}$$

$$\begin{array}{r} 37 \\ + 48 \\ \hline \square \end{array}$$

$$\begin{array}{r} 88 \\ - 57 \\ \hline \square \end{array}$$

$$\begin{array}{r} 36 \\ - 30 \\ \hline \square \end{array}$$

$$\begin{array}{r} 19 \\ - 9 \\ \hline \square \end{array}$$

TERCER TRIMESTRE

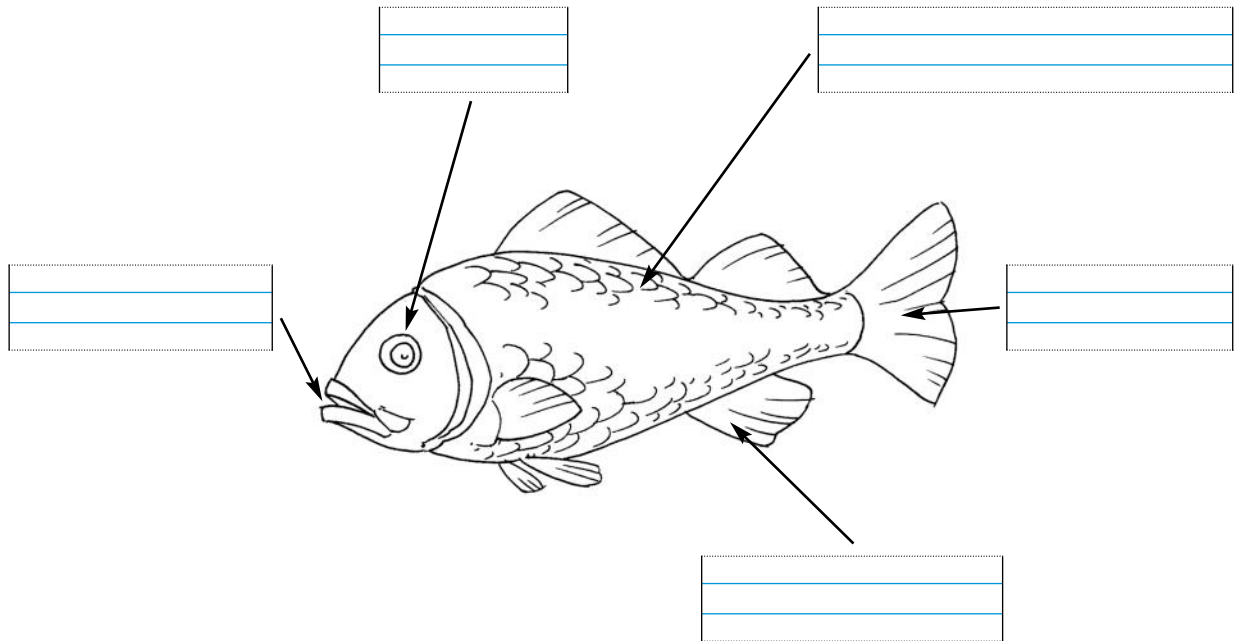
Unidad 2. Conocimiento del Medio

AR

Nombre y apellidos:

Curso: Fecha:

📶 Completa los nombres de las partes del pez y coloréalo.




📶 Subraya en verde los nombres de peces de río y en azul los de mar, y dibuja uno de cada.

barbo	lenguado	tiburón	sardina
	pez espada		trucha



pez de río



pez de mar

Nombre y apellidos:

Curso: Fecha:

 Rodea y clasifica las palabras que empiezan por mayúscula.


Mis tíos Miguel y Ana han visitado una ciudad muy bonita que se llama Toledo. Este verano irán de vacaciones a Ávila.

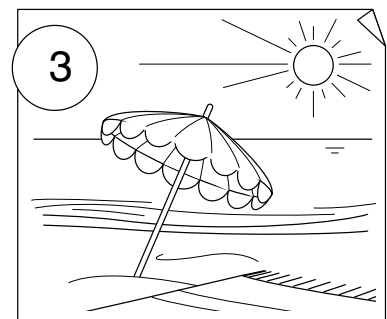


Nombres de persona →

Comienzo de escritura →

Después de punto →

Nombres de ciudades →

 Observa las ilustraciones y escribe la palabra que indica qué hacen en cada caso.



1. Juan bien al baloncesto.

2. Mi perro por el campo.

3. El Sol mucho en verano.

TERCER TRIMESTRE

Unidad 3. Matemáticas

AR

Nombre y apellidos:

Curso: Fecha:

 Lee y completa.

noventa y tres \rightarrow \rightarrow + \rightarrow D y U

setenta y nueve \rightarrow \rightarrow + \rightarrow D y U

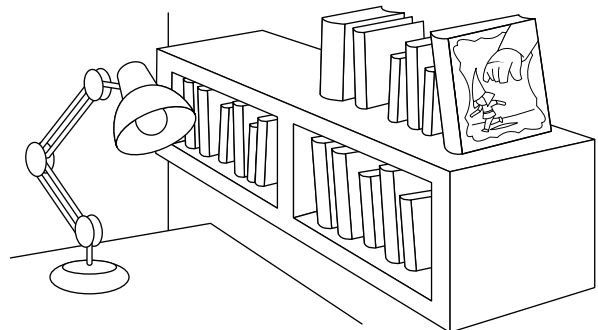

noventa y ocho \rightarrow \rightarrow + \rightarrow D y U

 Coloca y calcula.

	7	+	3	+	5		4	+	6	+	8		2	6	+	3	+	7	

 Problema.

Almudena tiene 15 libros de cuentos, 2 libros de terror y 5 de aventuras. ¿Cuántos libros tiene en total?



Almudena tiene libros en total.


TERCER TRIMESTRE
Unidad 3. Conocimiento del Medio

AR


Nombre y apellidos:

Curso: Fecha:

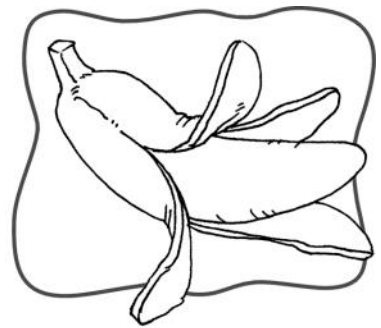
 Escribe los nombres de estas frutas y coloréalas:




.....
.....
.....



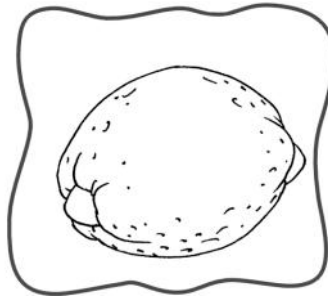
.....
.....
.....



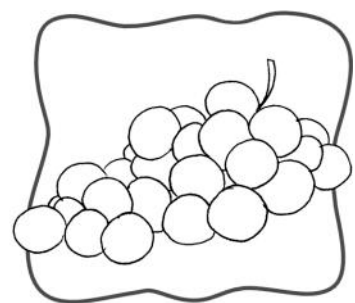
.....
.....
.....




.....
.....
.....



.....
.....
.....



.....
.....
.....

 Completa estas frases:

comer – semillas – frutos – flores

Los salen de las .

Dentro de los frutos están las .

Algunas semillas las podemos .

TERCER TRIMESTRE
Unidad 4. Lengua

AR


Nombre y apellidos:

Curso: Fecha:

☛ Une las palabras que pertenecen a la misma familia.

carta	caminante	fotografiar
pan	cartero	bailar
baile	fotógrafa	cartearse
fotografía	bailarina	reinar
reina	panadería	caminar
camino	reino	empanar

☛ Completa las frases con los nombres de los dibujos.



El tira del . La

se posa en la .

Tengo una de .


TERCER TRIMESTRE

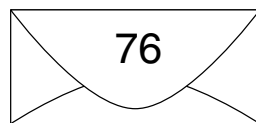

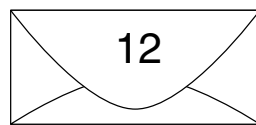



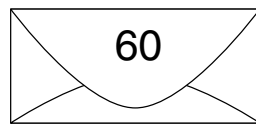
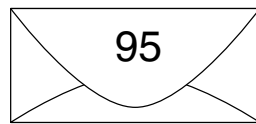
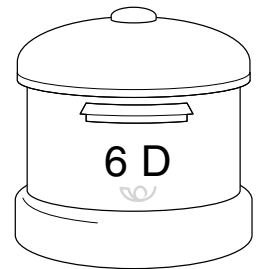
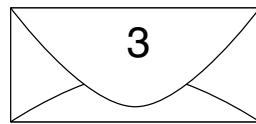
Unidad 4. Matemáticas


AR

Nombre y apellidos:

Curso: Fecha:

 Une según corresponda.



 Suma y resta.

$$\begin{array}{r} 57 \\ + 29 \\ \hline \square \end{array}$$

$$\begin{array}{r} 23 \\ + 11 \\ \hline \square \end{array}$$

$$\begin{array}{r} 35 \\ + 8 \\ \hline \square \end{array}$$

$$\begin{array}{r} 39 \\ + 46 \\ \hline \square \end{array}$$

$$\begin{array}{r} 69 \\ - 37 \\ \hline \square \end{array}$$

$$\begin{array}{r} 63 \\ - 21 \\ \hline \square \end{array}$$

$$\begin{array}{r} 45 \\ - 5 \\ \hline \square \end{array}$$

$$\begin{array}{r} 33 \\ - 11 \\ \hline \square \end{array}$$


TERCER TRIMESTRE

Unidad 4. Conocimiento del Medio


AR

Nombre y apellidos:

Curso: Fecha:

 Une según lo que necesites usar.


Para hablar con mis abuelos.



Para invitar a mis amigos a mi cumpleaños.



Para enviar una fotografía a mi amiga.



 Une según corresponda.

Los medios de comunicación

sonido.

La televisión tiene

nos informan y entretienen.

La radio solo tiene

imágenes y sonido.

Internet tiene

imágenes, sonido y texto.

TERCER TRIMESTRE

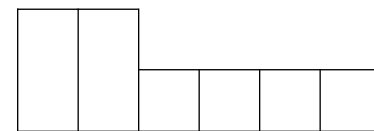
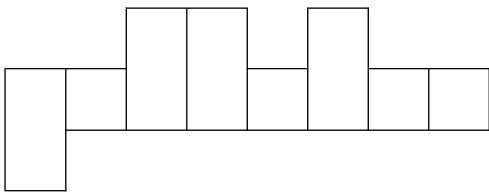

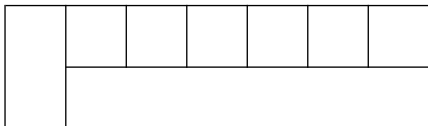
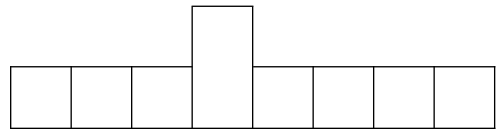
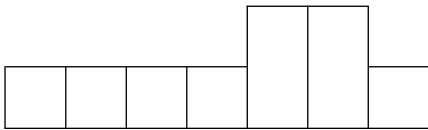

Unidad 5. Lengua

AR

Nombre y apellidos:

Curso: Fecha:

 Escribe los nombres donde corresponda.



 Escribe el abecedario.

A	B	C						


TERCER TRIMESTRE


Unidad 5. Matemáticas

AR

Nombre y apellidos:

Curso: Fecha:

 Une con una línea roja los números mayores que 58 y con una línea verde los números menores que 58.

 Coloca y calcula.

	2	8	+	1	7	+	5					3	7	+	9	+	2	8
	4	7	-	2	0			7	6	-	4	3			9	9	-	6

TERCER TRIMESTRE

Unidad 5. Conocimiento del Medio

AR

Nombre y apellidos:

Curso: Fecha:

Une según corresponda.

bicicleta

autobús

avión

individual

tren

moto

colectivo

coche

Colorea así:

terrestres → rojo

aéreos → amarillo

marítimos → verde

