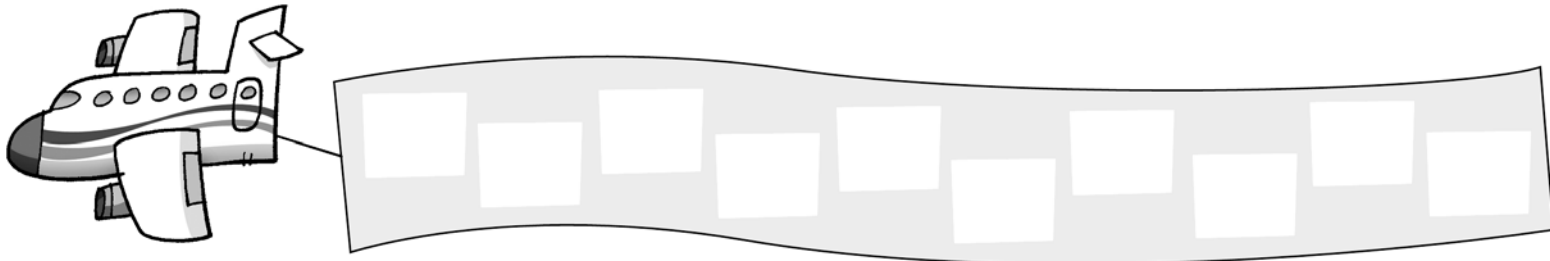


1 Escribe los números que tengan la cifra 7 en las decenas de mayor a menor.



2 Escribe el signo que corresponda: >, < o =.

45 ○ 27

17 ○ 71

64 ○ 64

34 ○ 43

60 ○ 50

76 ○ 72

3 Suma.

$$\begin{array}{r} 14 \\ 3 \\ + 22 \\ \hline \square \end{array}$$

$$\begin{array}{r} 33 \\ 10 \\ + 21 \\ \hline \square \end{array}$$

$$\begin{array}{r} 40 \\ 5 \\ + 13 \\ \hline \square \end{array}$$

$$\begin{array}{r} 27 \\ 20 \\ + 22 \\ \hline \square \end{array}$$

$$\begin{array}{r} 34 \\ 21 \\ + 12 \\ \hline \square \end{array}$$

4 Rodea las monedas que necesitas.



16 céntimos



53 céntimos




74 céntimos




5 Colorea los barcos según se indica.

Anterior a 60 → verde.




Posterior a 69 → rojo.



Tiene la cifra 6 en las unidades → amarillo.

7 D y 8 U → azul.



Tiene la cifra 6 en las decenas → naranja.

6 Calcula y ordena de mayor a menor los resultados.

$$\begin{array}{r} 76 \\ - 12 \\ \hline \square \end{array}$$

$$\begin{array}{r} 25 \\ + 43 \\ \hline \square \end{array}$$

$$\begin{array}{r} 67 \\ - 16 \\ \hline \square \end{array}$$

$$\begin{array}{r} 33 \\ + 41 \\ \hline \square \end{array}$$

$$\begin{array}{r} 79 \\ - 25 \\ \hline \square \end{array}$$

> ○ ○ ○

7 Calcula y colorea la hucha donde hay más dinero.



céntimos.



céntimos.



céntimos.