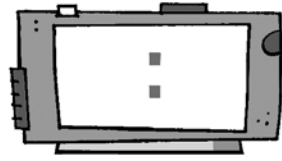
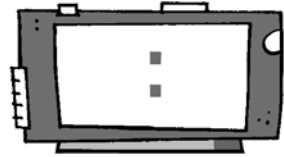


1 Lee y completa los relojes.

Marina se ha levantado a las 8 y media. →

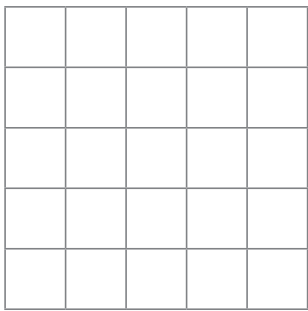


Ha salido con la bicicleta 2 horas después. →

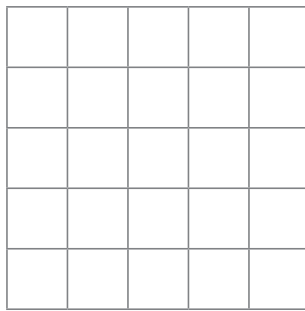


2 Coloca y calcula siguiendo las indicaciones: 56, 35, 31 y 67.

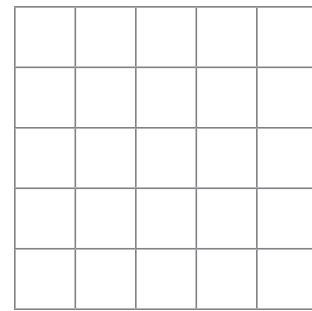
Resta al número mayor el número menor.



Suma los dos números menores.

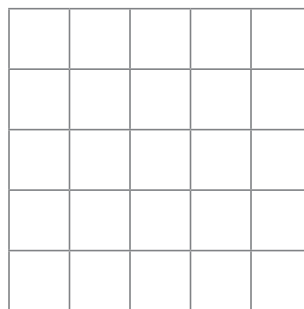


Resta al número mayor el número con 5D y 6U.




3 Lee, selecciona los datos y resuelve.


Hemos pescado 43 lenguados, 6 langostas y 25 merluzas. ¿Cuántos peces hemos pescado?



Hemos pescado _____

- 4** Escribe tres números que tengan la cifra 6 en las decenas para el tiburón y tres números que tengan la cifra 6 en las unidades para la sardina





- 5** Coloca y resuelve las siguientes operaciones.

3D y 2U
más
3D 6U

60 + 5
menos
30 + 1

5D y 9U
menos
2D 2U

20 + 4
más
30 + 5

D	U
○	

D	U
○	

D	U
○	

D	U
○	

- 6** Completa los relojes siguiendo la serie.

