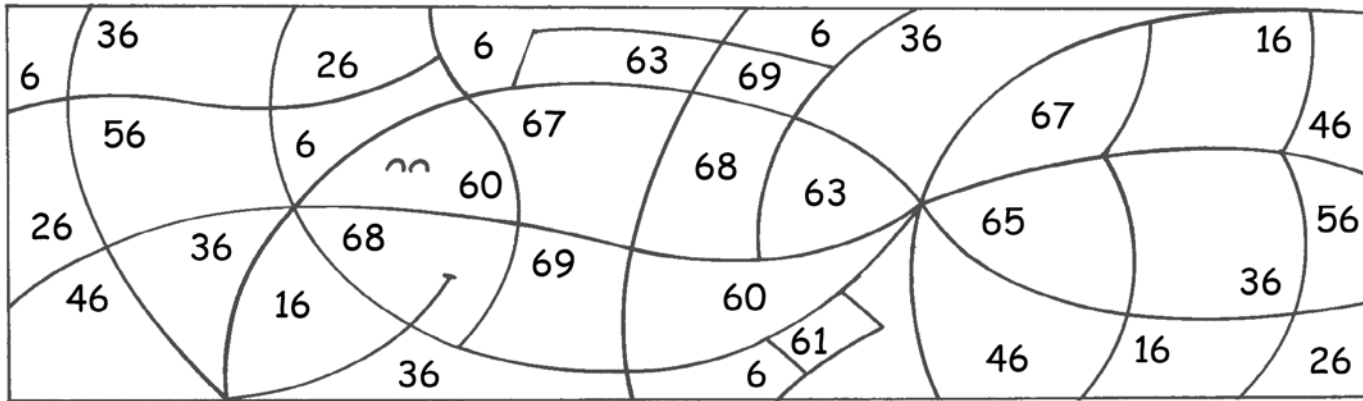



- 1 Colorea de azul los números que tienen la cifra 6 en las decenas y de naranja los que tienen la cifra 6 en las unidades.



- 2 Suma y resta.

$\begin{array}{r} 65 \\ -42 \\ \hline \square \end{array}$	$\begin{array}{r} 33 \\ +25 \\ \hline \square \end{array}$	$\begin{array}{r} 68 \\ -23 \\ \hline \square \end{array}$	$\begin{array}{r} 14 \\ +51 \\ \hline \square \end{array}$	$\begin{array}{r} 66 \\ -40 \\ \hline \square \end{array}$
--	--	--	--	--

- 3 Colorea del mismo color los relojes que señalan la misma hora.



4 Colorea el número mayor y tacha el menor.

Fish 1: 54, 4, 46  
 Fish 2: 44, 41, 43  
 Fish 3: 14, 45, 64  
 Fish 4: 43, 34, 24

5 Calcula y une cada operación con su resultado.

$$\begin{array}{r} 62 \\ -30 \\ \hline \square \end{array}$$

$$\begin{array}{r} 12 \\ +53 \\ \hline \square \end{array}$$

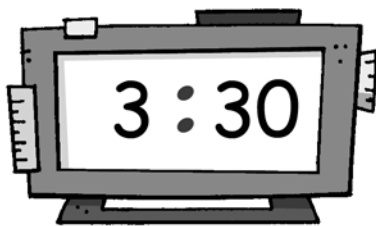
$$\begin{array}{r} 57 \\ -12 \\ \hline \square \end{array}$$

$$\begin{array}{r} 26 \\ +42 \\ \hline \square \end{array}$$

$$\begin{array}{r} 69 \\ -26 \\ \hline \square \end{array}$$

45, 32, 65, 43, 68

6 Escribe la hora que marca cada reloj.




Son las

---



---




Son las

---



---



Son las

---



---

