

- 1 Colorea de rojo el número mayor y de verde el número menor.

$70 + 4$

sesenta y nueve

sesenta y tres

setenta y nueve

65

$60 + 2$

$70 + 5$

sesenta y siete

71

- 2 Coloca, suma y escribe.

$24 + 15 + 20$

$43 + 2 + 31$

$36 + 32 + 10$

$15 + 30 + 32$

| | D | U |
|-------|---|---|
| | | |
| + | | |
| <hr/> | | |
| | | |

| | D | U |
|-------|---|---|
| | | |
| + | | |
| <hr/> | | |
| | | |

| | D | U |
|-------|---|---|
| | | |
| + | | |
| <hr/> | | |
| | | |

| | D | U |
|-------|---|---|
| | | |
| + | | |
| <hr/> | | |
| | | |


El resultado mayor:

| |
|--|
| |
| |
| |

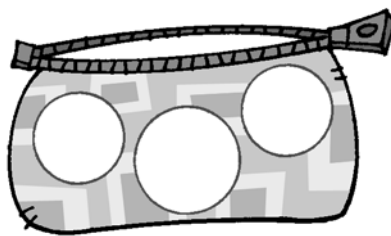
El resultado menor:

| |
|--|
| |
| |
| |

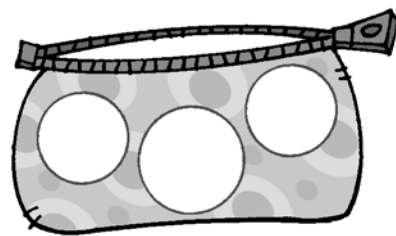
- 3 Escribe el valor de los céntimos en cada caso.



35 céntimos



62 céntimos



71 céntimos



4 Escribe el número anterior y el posterior.

70

14

59

21

5 Calcula cuántos céntimos hay en cada caso.



6 Lee, selecciona los datos y resuelve.

Jaime tiene una colección de 23 coches de carreras, Elena tiene 15 trenes y Luis 21 helicópteros. ¿Cuántos vehículos tienen entre los tres?

Jaime

Elena

Luis

| | | | | |
|--|--|--|--|--|
| | | | | |
| | | | | |
| | | | | |
| | | | | |

Entre los tres tienen



1 Le:

Lola e Pepe están moi contentos.

A súa neta vén a casa.

A ela gústalle levar as vacas
ao monte e coidar as pitas.

Axúdalle a avoa

a regar as rosas

coa regadeira

e a coller leitugas e tomates,

na cesta.



2 Clasifica as palabras subliñadas:

Nomes de persoa

| |
|--|
| |
| |
| |
| |

Nomes de animais

| |
|--|
| |
| |
| |
| |

Nomes de plantas


| |
|--|
| |
| |
| |
| |
| |
| |

Nomes de cousas

| |
|--|
| |
| |
| |
| |
| |
| |




1 Colorea os insectos e sinala as súas características.



- Teñen seis patas.
- Teñen oito patas.
- Non teñen patas.
- Teñen dúas antenas.
- Nacen de ovos.

2 Escribe o nome de cada animal onde corresponda e completa.



Non ten patas: _____


Ten unha cuncha: _____

Ten dentes e nada: _____

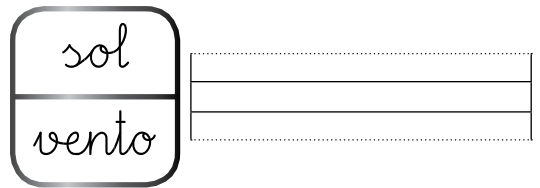
Os tres animais son: _____.



- 3 Colorea os obxectos que se poden mover sen rodas nin motor e completa.



Móvense impulsados polo



- 4 Completa con estas palabras.

mediodía - anoitecer - amencer - Sol - Lúa

O Sol sae ao _____.

Á _____ non sempre a vemos igual.

Polo _____ o Sol quenta máis.

Ao _____ o Solponse.

O _____ é unha estrela.

