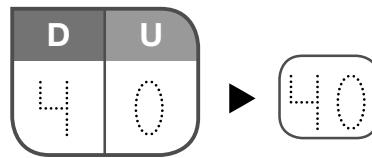
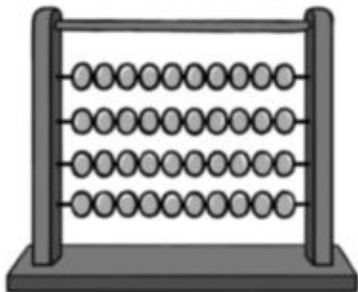
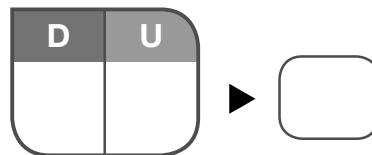
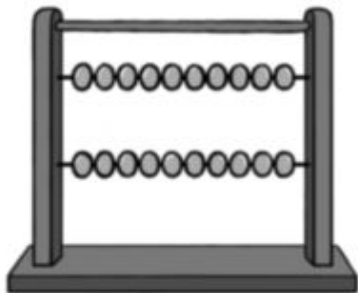


Nombre _____ Fecha _____

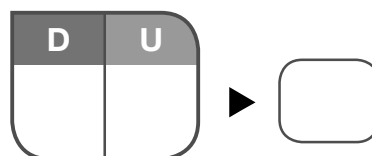
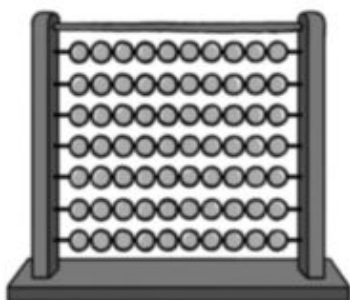
1 Cuenta y completa.



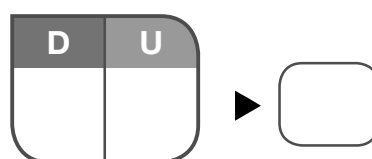
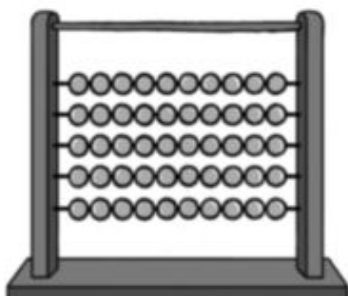
decenas = unidades



decenas = unidades



decenas = unidades



decenas = unidades

Nombre _____ Fecha _____

1 Lee, observa y resuelve.

- Juan lleva a la cesta 3 barras de pan.
¿Cuántas barras de pan habrá al final en la cesta?



había lleva habrá
▼ ▼ ▼

$$\square + \square = \square$$

Habrán 6 barras de pan.

- Roberto corta 3 rosas.
¿Cuántas rosas quedarán al final en la jardinera?



había ►

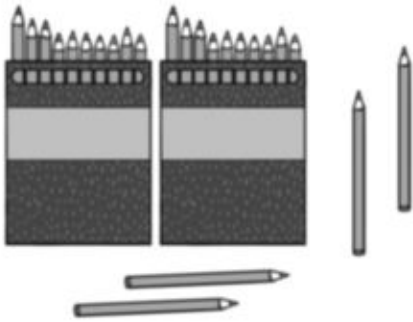
corta ► -

quedarán ►

Quedarán 5 rosas.

Nombre _____ Fecha _____

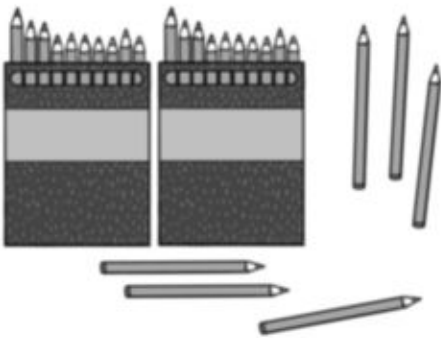
1 Cuenta, completa y escribe.



decenas y unidades

+ =

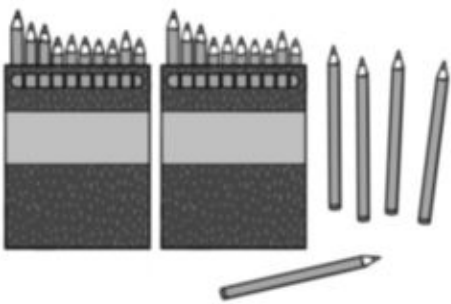
D	U



decenas y unidades

+ =

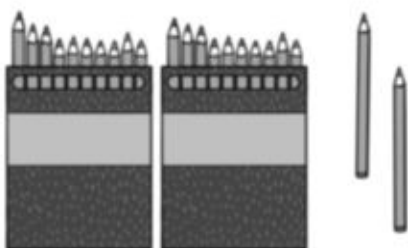
D	U



decenas y unidades

+ =

D	U




decenas y unidades

+ =


D	U

Nombre _____ Fecha _____

1 Cuenta y completa.




$$\boxed{30} + \boxed{4} = \boxed{}$$



$$\boxed{} + \boxed{} = \boxed{}$$



$$\boxed{} + \boxed{} = \boxed{}$$



$$\boxed{} + \boxed{} = \boxed{}$$



$$\boxed{} + \boxed{} = \boxed{}$$



$$\boxed{} + \boxed{} = \boxed{}$$



$$\boxed{} + \boxed{} = \boxed{}$$



$$\boxed{} + \boxed{} = \boxed{}$$

Nombre _____ Fecha _____

1 Lee, piensa si tienes que sumar o restar y resuelve.

- Ana tenía 7 galletas. Da 2 galletas a su hermano. ¿Cuántas galletas le quedan a Ana?

tenía ►

da ►

le quedan ►



Solución ►

Le quedan

- Luis tenía 8 pegatinas. Su amiga Paula le regala 3 pegatinas más. ¿Cuántas pegatinas tiene Luis al final?

tenía ►

le regalan ►

al final tiene ►

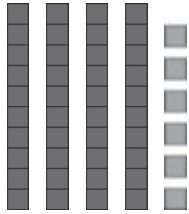


Solución ►

Al final tiene

Nombre _____ Fecha _____

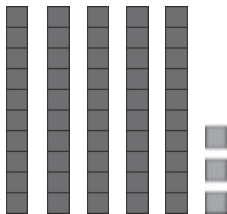
1 Cuenta, completa y escribe cómo se lee cada número.



$$\boxed{40} + \boxed{6} = \boxed{}$$

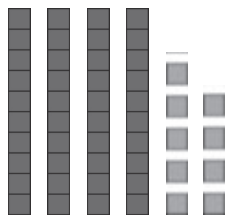
$\boxed{46}$ ►

cuarenta y seis



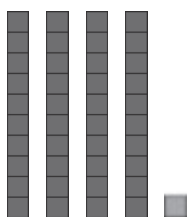
$$\boxed{} + \boxed{} = \boxed{}$$

$\boxed{}$ ►



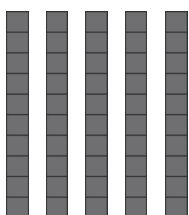
$$\boxed{} + \boxed{} = \boxed{}$$

$\boxed{}$ ►



$$\boxed{} + \boxed{} = \boxed{}$$

$\boxed{}$ ►

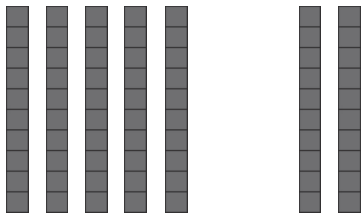


$$\boxed{} + \boxed{} = \boxed{}$$

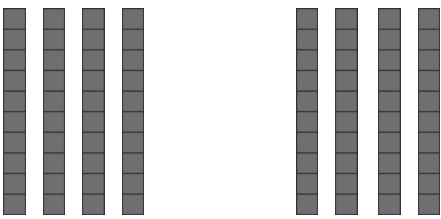
$\boxed{}$ ►

Nombre _____ Fecha _____

1 Observa y completa las sumas.

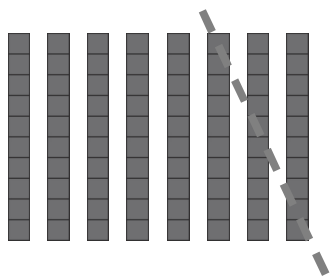


$$\begin{array}{r}
 \square \text{ decenas} \\
 + \square \text{ decenas} \\
 \hline
 \square \text{ decenas}
 \end{array}
 \quad
 \begin{array}{r}
 \square \\
 + \square \\
 \hline
 \square
 \end{array}$$

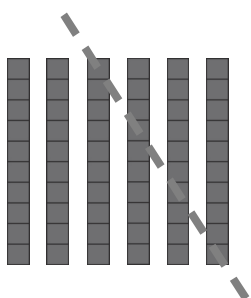


$$\begin{array}{r}
 \square \text{ decenas} \\
 + \square \text{ decenas} \\
 \hline
 \square \text{ decenas}
 \end{array}
 \quad
 \begin{array}{r}
 \square \\
 + \square \\
 \hline
 \square
 \end{array}$$

2 Observa y completa las restas.



$$\begin{array}{r}
 \square \text{ decenas} \\
 - \square \text{ decenas} \\
 \hline
 \square \text{ decenas}
 \end{array}
 \quad
 \begin{array}{r}
 \square \\
 - \square \\
 \hline
 \square
 \end{array}$$



$$\begin{array}{r}
 \square \text{ decenas} \\
 - \square \text{ decenas} \\
 \hline
 \square \text{ decenas}
 \end{array}
 \quad
 \begin{array}{r}
 \square \\
 - \square \\
 \hline
 \square
 \end{array}$$

Nombre _____ Fecha _____

1 Fíjate en cómo están colocados los números y suma.

D	U
12	
+	2
□	

D	U
24	
+	3
□	

D	U
25	
+	24
□	

D	U
47	
+	11
□	

2 Coloca los números y suma.

11 + 1

53 + 5

33 + 26

12 + 30

D U	D U	D U	D U
+	+	+	+

3 Calcula cuánto cuestan en total.



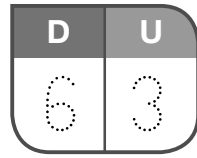
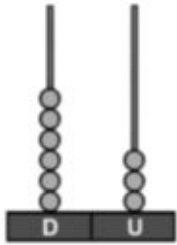
Operación ►

D U
+

Solución ► Cuestan _____ euros.

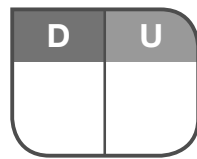
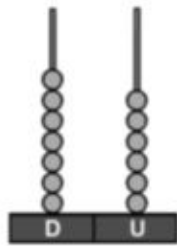
Nombre _____ Fecha _____

1 Cuenta y completa.



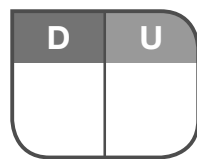
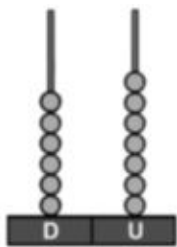
$$60 + 3 = \square$$

decenas y unidades



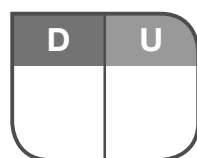
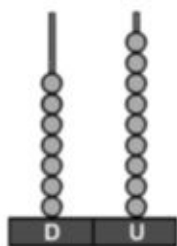
$$\square + \square = \square$$

decenas y unidades



$$\square + \square = \square$$

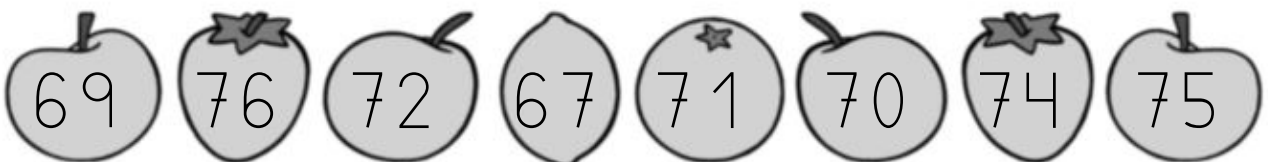
decenas y unidades



$$\square + \square = \square$$

decenas y unidades

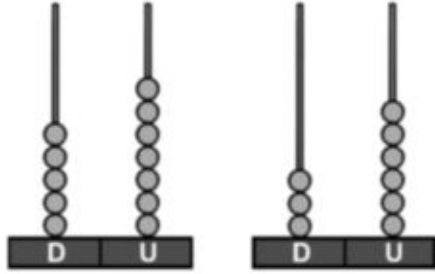
2 Tacha los números y completa la serie.



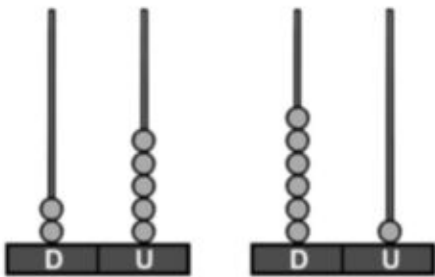
	68					73			
--	----	--	--	--	--	----	--	--	--

Nombre _____ Fecha _____

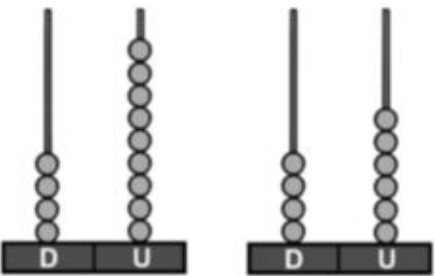
1 Cuenta y compara.



5 es mayor que 3

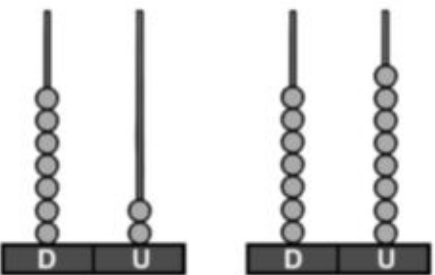


57 es _____ que _____



2 es menor que _____

25 es _____ que _____



9 es mayor que 6

49 es _____ que _____

2 es menor que _____

72 es _____ que _____

2 Completa. Después, compara y escribe mayor o menor.

29 ► D y U

29 es _____ que 71

71 ► D y U

71 es _____ que 29

Nombre _____ Fecha _____

1 Fíjate en cómo están colocados los números y resta.

D	U
37	
- 4	
<div style="border: 1px solid black; width: 60px; height: 30px; margin: 0 auto;"></div>	

D	U
24	
- 12	
<div style="border: 1px solid black; width: 60px; height: 30px; margin: 0 auto;"></div>	

D	U
46	
- 4	
<div style="border: 1px solid black; width: 60px; height: 30px; margin: 0 auto;"></div>	

D	U
38	
- 10	
<div style="border: 1px solid black; width: 60px; height: 30px; margin: 0 auto;"></div>	

D	U
58	
- 21	
<div style="border: 1px solid black; width: 60px; height: 30px; margin: 0 auto;"></div>	

D	U
63	
- 22	
<div style="border: 1px solid black; width: 60px; height: 30px; margin: 0 auto;"></div>	

D	U
45	
- 44	
<div style="border: 1px solid black; width: 60px; height: 30px; margin: 0 auto;"></div>	

D	U
77	
- 66	
<div style="border: 1px solid black; width: 60px; height: 30px; margin: 0 auto;"></div>	

2 Coloca los números y calcula.

67 - 21

78 - 47

54 - 31

D U	D U	D U