


1º Primaria: actividades martes 14 e miércoles 15 de abril de 2020  
Áreas de lengua, matemáticas, lengua e sociais.

Martes 14: matemáticas, lengua, lengua e sociais.

Colorea el número mayor y tacha el menor.



Calcula y une cada operación con su resultado.


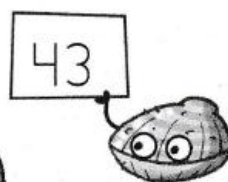



$$\begin{array}{r} 62 \\ -30 \\ \hline \square \end{array}$$

$$\begin{array}{r} 12 \\ +53 \\ \hline \square \end{array}$$

$$\begin{array}{r} 57 \\ -12 \\ \hline \square \end{array}$$

$$\begin{array}{r} 26 \\ +42 \\ \hline \square \end{array}$$

$$\begin{array}{r} 69 \\ -26 \\ \hline \square \end{array}$$



Une cada hora con su reloj.



Son las 8  
en punto.

Son las 3  
y media.

Son las 11  
en punto.

**1** Subliña en cada oración. Quen o fai?

- Os rapaces xogan no patio.
- No campo, o futbolista celebra un gol.
- O médico visitou un paciente.
- Cada ano, o presidente fai un discurso.
- Xa viñeron os meus amigos.



**2** Completa as oracións. Quen o fai?

Os bombeiros

A avoa

A xirafa


As ras



\_\_\_\_\_ fixo unha torta.

\_\_\_\_\_

ten unha cría.



\_\_\_\_\_ apagan o incendio.

\_\_\_\_\_

croan felices no río.



- 1 Rodea la mayúscula de cada nombre. Después, escríbelos donde corresponda.

Beatriz Pedro Madrid  
Logroño Claudio Pamplona

Nombres de personas

Nombres de ciudades



- 2 Primero, lee. Después, contesta las preguntas.

Blanca y Plácido son ciclistas. Este verano han recorrido León y Zamora y han observado las aves en la laguna de Villafáfila.




¿Cómo se llaman los ciclistas?


¿Qué lugares han recorrido?



1 Onde hai máis? Colorea a resposta correcta.



VILA  
CIDADE



VILA  
CIDADE



VILA  
CIDADE



VILA  
CIDADE

2 Como se chama a nai de Eva Carballo Xallas? Marca.



- Helena Carballo Xallas.
- Helena Carballo Moreira.
- Helena Xallas Moreira.



3 Le as pistas e despois marca o tipo de vivenda que describen

- É moi alto e ten moitos pisos.
- Vive moita xente.

casa baixa

edificio

Colorea y escribe los números que tengan la cifra 6 en las decenas.





Coloca y calcula.

$$66 - 15$$

$$34 + 15$$

$$59 - 37$$

$$46 + 21$$

	D	U
○		

	D	U
○		

	D	U
○		

	D	U
○		

Escribe el valor de la cifra 5 en cada número.

$$54 \rightarrow 50 \text{ U}$$

$$57 \rightarrow \square \text{ U}$$

$$5 \rightarrow \square \text{ U}$$

$$35 \rightarrow \square \text{ U}$$

$$15 \rightarrow \square \text{ U}$$

$$50 \rightarrow \square \text{ U}$$


$$59 \rightarrow \square \text{ U}$$

$$25 \rightarrow \square \text{ U}$$

$$53 \rightarrow \square \text{ U}$$


**Relaciona para formar oracións.**

- Onte • • estamos na casa do avó.
- Hoxe • • iremos a Compostela.
- Mañá • • fomos pasear polo río.




**Completa co verbo axeitado en cada caso.**

compro    compraba    comprarei



Despois  unha pouca froita.

estuda    estudaba    estudará



Iria  a diario na biblioteca.

temos    tiñamos    teremos



Antes  un can moi grande.

**Pinta a oración que fai referencia a «despois».**

Miguel dorme moi a gusto no sofá.

Visitaremos aquela aldea pequena.

A avoa cociñaba peixe no forno.

## Fiesta de la bicicleta el 12 de marzo

Salida del colegio Cervantes a las 10 de la mañana. Meta en el Parque Azul.

¡Trae tu bicicleta!



Primero, lee el cartel. Después, marca la respuesta correcta en cada caso.

¿Qué anuncia el cartel?

Un concierto de zambombas.

La fiesta de la bicicleta.

¿Dónde es la salida?

En el colegio Cervantes.

En la biblioteca Cervantes.

¿Dónde está la meta?

En el Parque Celeste.

En el Parque Azul.

¿Qué tienes que llevar?

Una carroza.

Una bicicleta.



1 Que accións danan as paisaxes? Colorea.

Pasear polo campo.

Cortar árbores dos bosques

Tirar lixo ao chan.

Bañarse na praia.

3 Quen necesita auga e aire para vivir? Marca.

