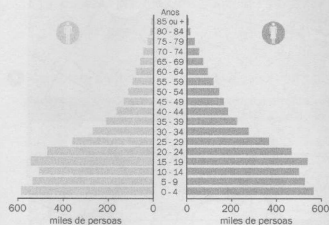
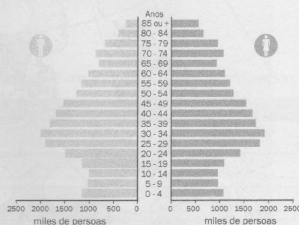


Nome: _____ Data: _____ Curso: _____

A pirámide de poboación é un tipo de gráfico utilizado para estudar a poboación dun lugar, habitualmente un país. Nela rexístrase a distribución de poboación por sexo e idade. Na metade esquerda da pirámide representáse os varóns, e na dereita as mulleres. O eixe horizontal sinala o número de individuos ou persoas, e o vertical as idades, agrupadas de cinco en cinco anos. Dependendo da estrutura demográfica dun país, a pirámide de poboación ten unha forma ou outra.

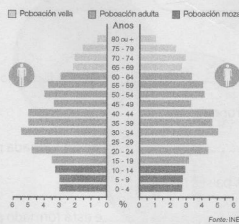


As pirámides de poboación nos países menos desenvolvidos concentran a poboación na base. A maior parte dos seus habitantes son novos porque nacen moitos nenos e a esperanza de vida ao nacer é baixa, e a parte superior é estreita.



As pirámides de poboación nos países desenvolvidos teñen a base máis estreita, porque nacen menos nenos. Ademais, a parte superior da pirámide ensancha, porque aumenta a esperanza de vida ao nacer.

1 Observa a seguinte pirámide de poboación e responde as preguntas.



- Paréceche unha pirámide de poboación dun país desenvolvido ou pouco desenvolvido?
- Nese lugar, nacen máis nenos ou nenas?
- Entre que idades se concentra o maior número de habitantes?
- Suma as porcentaxes das barras superiores a 65 anos e indica cal é o tanto por cento de poboación anciá.