

9 Nombre y apellidos: _____
Fecha: _____ Matemáticas 1.º **A**

1 Lee y completa los relojes.



← Me levanto a las 8 y media.

Salgo con la bicicleta
2 horas después. →



2 Coloca y calcula siguiendo las indicaciones: 56, 35, 31 y 67.

Resta al número mayor el número menor.

Suma los dos números menores.

Resta al número mayor el número con 5D y 6U.

3 Lee, selecciona los datos y resuelve.

Hemos pescado 43 lenguados, 6 langostas y 25 merluzas. ¿Cuántos peces hemos pescado?

_____ □

_____ □

Hemos pescado □ _____

1 Rodea. Después, escribe cada palabra en su lugar.

De verde ► r De naranja ► rr

carreta

serrucho

raqueta

barro

ruido

rosal

ritmo

hierro

Palabras
con r

Palabras
con rr

2 Completa las palabras con r o con rr. Después, copia las oraciones sustituyendo los dibujos por palabras.




go_____ión



_____uiseñor

El  revolotea en la torre.



El  trina en la rama.



Nome _____





Relaciona e clasifica as palabras.

<input type="text" value="cabalo"/>	<input type="text" value="o"/>	<input type="text" value="dragón"/>
<input type="text" value="caixa"/>	<input type="text" value="a"/>	<input type="text" value="bóla"/>
<input type="text" value="flor"/>		<input type="text" value="tempo"/>

Son masculinas

Son femininas

Escribe (M) (masculino) ou (F) (feminino) diante do nome.

			
<input type="checkbox"/> paella	<input type="checkbox"/> libro	<input type="checkbox"/> coche	<input type="checkbox"/> casa