

Actividades martes 17 de marzo de 2020

Áreas de lingua, lengua, matemáticas e sociais.

Obxectivos: ler e repasar a lectura e dar resposta as preguntas sobre a mesma. Practicar ortografía e caligrafía. Realizar sumas e restas de números de dúas cifras. Recoñecer elementos propios de cada estación do ano.

Todos á piscina!

Vai un frío terrible. Mentres atravesa a rúa, Patricia ve que Flor, André e Trini tamén chegan correndo.

Saúdanse. Están xeados coma catro polos.

Por sorte, levan as mochilas...
Se non, levaríalos o vento!

Os catro entran no polideportivo tremendo.
Que ben! Unha piscina quente faralles esquecer o frío.



1 Escribe V se é verdadeiro e F se é falso.

- Hai tres nenas e un neno.
- Os catro baixan do autobús.
- Atópanse os catro pola rúa.
- Entran todos xuntos no polideportivo.


2 Escolle e completa.

ceados quente frío



O día está

Os nenos están

A auga da piscina está



3 Marca a piscina á que van os nenos do texto.



1 Rodea. Después, escribe cada palabra en su lugar.

De rojo ► c De azul ► z

manzana pozo ciruela cesta zorro
cervatillo cinta zumo acera pinzas

Palabras con c

Palabras con z

2 Completa cada palabra con c y con z. Después, copia las oraciones sustituyendo los dibujos por palabras.

 _ere_as

 a_u_enas

Las  son flores.

Las  son frutas.

1 Suma.

$$\begin{array}{r} 55 \\ +22 \\ \hline \end{array}$$

$$\begin{array}{r} 66 \\ +33 \\ \hline \end{array}$$

$$\begin{array}{r} 45 \\ +44 \\ \hline \end{array}$$

$$\begin{array}{r} 51 \\ +16 \\ \hline \end{array}$$

$$\begin{array}{r} 64 \\ +25 \\ \hline \end{array}$$

$$\begin{array}{r} 22 \\ +66 \\ \hline \end{array}$$

$$\begin{array}{r} 65 \\ +31 \\ \hline \end{array}$$

$$\begin{array}{r} 56 \\ +20 \\ \hline \end{array}$$

$$\begin{array}{r} 10 \\ +66 \\ \hline \end{array}$$

$$\begin{array}{r} 34 \\ +25 \\ \hline \end{array}$$

$$\begin{array}{r} 12 \\ +65 \\ \hline \end{array}$$


$$\begin{array}{r} 40 \\ +36 \\ \hline \end{array}$$

$$\begin{array}{r} 66 \\ +21 \\ \hline \end{array}$$

$$\begin{array}{r} 44 \\ +12 \\ \hline \end{array}$$

$$\begin{array}{r} 36 \\ +63 \\ \hline \end{array}$$

15 Rodea los pollos que están dentro del corral.



16 ¿Cuántos pollos están dentro?




¿Cuántos pollos están fuera?



¿Cuántos pollos hay en total?



① Resuelve y colorea según el resultado.
Rojo=21, verde=71, azul=52.




1 Colorea os elementos de cada estación segundo o código.

verde → primavera

vermello → verán

marrón → outono

azul → inverno



2 Que peza de roupa levas en cada estación? Une.

PRIMAVERA

VERÁN

OUTONO

INVERNO

