

MATEMÁTICAS

¿QUÉ OS PARECE SI HACEMOS UNOS PROBLEMAS DIVERTIDOS?

✚ No te olvides de utilizar la tabla del 100 para resolver las operaciones y acuérdate de escribirlas en horizontal. Puedes consultar el siguiente enlace, te ayudará a recordar como sumábamos usando la tabla del 100.

https://www.youtube.com/watch?v=36GnFQYA_zs&t=5s

1. Cuenta las bombillas que hay en casa. Luego cuenta las puertas. Por último, ¿cuántas puertas y bombillas hay en total?

Hay _____ bombillas.

OPERACIÓN

Hay _____ puertas.

En total hay _____ bombillas y puertas.

2. Cuenta las ventanas de casa. Ahora cuenta las sillas. Por último, ¿cuántas ventanas y sillas hay en total?

Hay _____ ventanas.

OPERACIÓN

Hay _____ sillas.

En total hay _____ ventanas y sillas.

CASITAS DE DESCOMPOSICIÓN

56	
D	U
5	6
4	16
3	26
2	36
1	46
0	56


1º Representa el número 56 en palillos.



2º Encima de una mesa, separa los palillos en dos montones. En un lado coloca las decenas y en el otro las unidades.



3º Pasa las decenas una a una a las unidades. Recuerda que para convertir las decenas en unidades, solo tienes que sacar la goma que une los palillos.



LINGUA

✚ Resolve as seguintes situacións:

SITUACIÓN 1



Xiana foi mercar co seu pai ao Covirán de Covas. Compraron froita, unha leituga e unha ducia de ovos.

◆ 1. Quen foi mercar ao Covirán?

◆ 2. Que mercaron?

◆ 3. Cantos ovos hai nunha ducia?

◆ 4. Que outras cousas se poden mercar no supermercado?

SITUACIÓN 2

Alberte tivo que ir ao centro de saúde de Viveiro porque lle doía a gorxa. Despois, foi á farmacia para mercar os medicamentos que lle recetou a pediatra.



- ◆ 1. A quen lle doía a gorxa?

- ◆ 2. A onde foi Alberte mercar o medicamento?

- ◆ 3. Como se lle chama ao médico que atende aos nenos e nenas?

- ◆ 4. Indica se as seguintes oracións son verdadeiras (V) ou falsas (F):

-- Alberte foi á farmacia porque lle doía a gorxa.

-- A pediatra recetoulle medicamentos a Alberte.


-- A farmacéutica miroulle a gorxa no centro de saúde.

- ◆ 5. Fai un debuxo de Alberte no momento en que a pediatra lle está mirando a gorxa.

LENGUA


¡A JUGAR A DETECTIVES!

- ✚ Observa los retratos de los niños y niñas y lee cada oración. Después, enumera el según corresponda la descripción de cada uno.



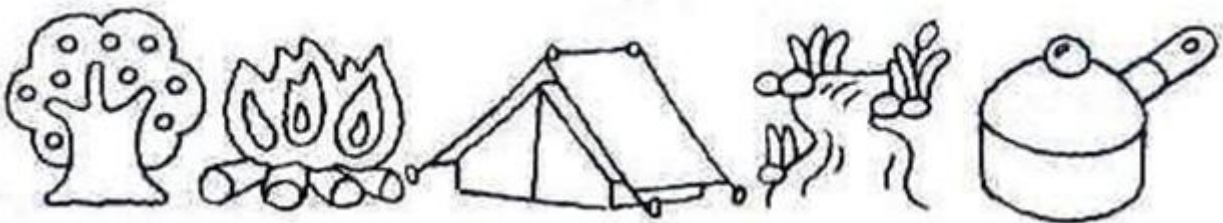
1. María tiene pelo corto y ondulado y usa aros.
2. Pedro sonríe y está despeinado.
3. Teresa es pecosa y usa trenzas.
4. Juana tiene la boca pequeña y su pelo es largo.
5. Pablo tiene pelo ondulado y está triste.
6. Matías es pecoso y usa gafas.
7. Juan tiene el pelo corto y es gruñón.
8. Marta tiene la nariz pequeña y usa gafas.

✚ Escribe oraciones utilizando todas las palabras que puedas de cada renglón de dibujos. Colorea los dibujos que utilizaste.









CIENCIAS NATURAIS

🚩 Que animal son? Coloca cada animal ao lado da adiviña correspondente.

Cando estou nervioso,
grito e golpeo o peito
cos meus puños.

No sei subir aos
árbores.

Aliméntome de
herbas e froitas.

Podso vivir na auga e
na terra.

Ao chegar o inverno
métome na miña
casiña a invernar.

Teño unha cuncha
que me permite

Vivo nunha granxa.

Parézome aos cabalos.

Teño as orellas longas.

Sei ornear.

Axudo a transportar
cousas.

Son moi amigo dos
Reis Magos.

Teño unha montaña
de graxa á que lle
chaman xiba.

Podó chegar a beber
150 litros de auga en

Chámome o rei da
selva.

Teño unha frondosa e
longa melena.

Vivo en manda.

Teño un
impressionante ruxido.

Son moi intelixente.

Vivo na auga.

Son un excelente
nadador.

A pesar de vivir no
mar son un animal
mamífero.

