

SINAIS DE TRÁFICO

Seguridade Vial

*Observa e contesta oralmente:

- Que observas na imaxe?
- Donde están eles?
- Quen dirixe o tráfico?
- É importante a súa labor? Por que?
- Que cres que pasaría de non estar el |



Son todas as medidas de seguridade que se toman para previr os accidentes de tráfico. Ditas medidas involucran o respecto aos sinais de tráfico.

Estas son a nosa guía nas rúas e camiños, xa que cada unha danos unha mensaxe.












Todo cidadán responsable, xa sexa peón, conductor ou pasaxeiro debe coñecer e respetar os sinais de tráfico.

Coñezamos algún sinais importantes que todo conductor debe coñecer para realizar a súa labor eficazmente.

Anota no recadro o número que corresponda ao significado de cada unha.





SEGUNDO GRADO

PERSONAL SOCIAL

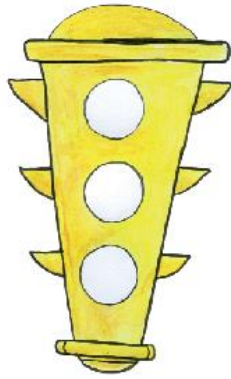
			<input type="checkbox"/>	Zona resbaladiza	<input type="checkbox"/>	Alto
			<input type="checkbox"/>	Curva	<input type="checkbox"/>	Cuidado con el ganado
			<input type="checkbox"/>	Restaurante	<input type="checkbox"/>	Circulación
			<input type="checkbox"/>	Paso prohibido a camiones	<input type="checkbox"/>	Gasolinera
			<input type="checkbox"/>	No estacionarse		

COÑEZAMOS OUTROS SINAIS DE TRÁFICO

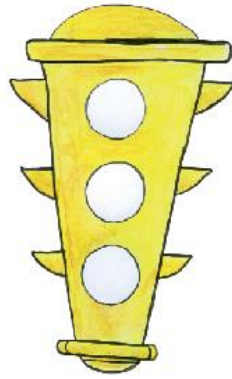
1. Escribe o que significa cada un dos sinais de tráfico que aparecen a continuación.

	
_____	_____
	
_____	_____

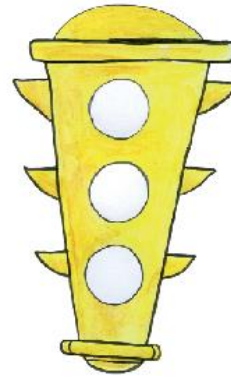
2. Colorea as luces dos semáforos, según o que se indica.



¡ALTO!



**¡Cuidado,
cambio de luz!**



PASE

- Encerra a resposta que complete a oración.
- Estas luces guían ao...

peón

conductor


Seguridade vial

1. Escribe as palabras **Si** ou **Non**, nas liñas da dereita, según corresponda:

- a. Cruzamos a rúa por calquera sitio. _____
- b. Baixamos dos vehículos cando están parados. _____
- c. Xogamos na rúa. _____
- d. Cando viaxamos nos vehículos sacamos o cóbado ou o brazo pola ventá. _____
- e. Debemos camiñar pola beirarrúa. _____
- f. Cruzamos a rúa polos pasos de peóns. _____
- g. Cruzamos a rúa cando o semáforo que está fronte a nós encende a luz verde. _____
- h. Conducimos a bicicleta polo lado dereito da rúa. _____
- i. Tiramos pedras á rúa. _____
- j. Cedemos a beirarrúa ás persoas maiores. _____

- k. Pasamos dunha rúa a outra polos cruces de peóns. _____
- l. Antes de cruzar a rúa, avenida ou carretera debemos mirar en ambos sentidos para verificar que non hai ningún vehículo circulando nese momento. _____
- m. Botar auga aos vehículos en marcha. _____
- n. Debemos esperar aos vehículos do servizo público nas paradas oficiais. _____

2. Observa a situación dos seguintes debuxos e decide cun Si ou cun Non, o que se debe facer.



Normas de circulación: peón, conductor ou pasaxeiro

SEGUNDO GRADO

PERSONAL SOCIAL

* Que é un peón? _____

* Que é un conductor? _____

* Que é un pasaxeiro? _____

• Une o significado coa figura que lle corresponde.



CONDUCTOR

•

•



PEATÓN

•

•



PASAJERO

•

•

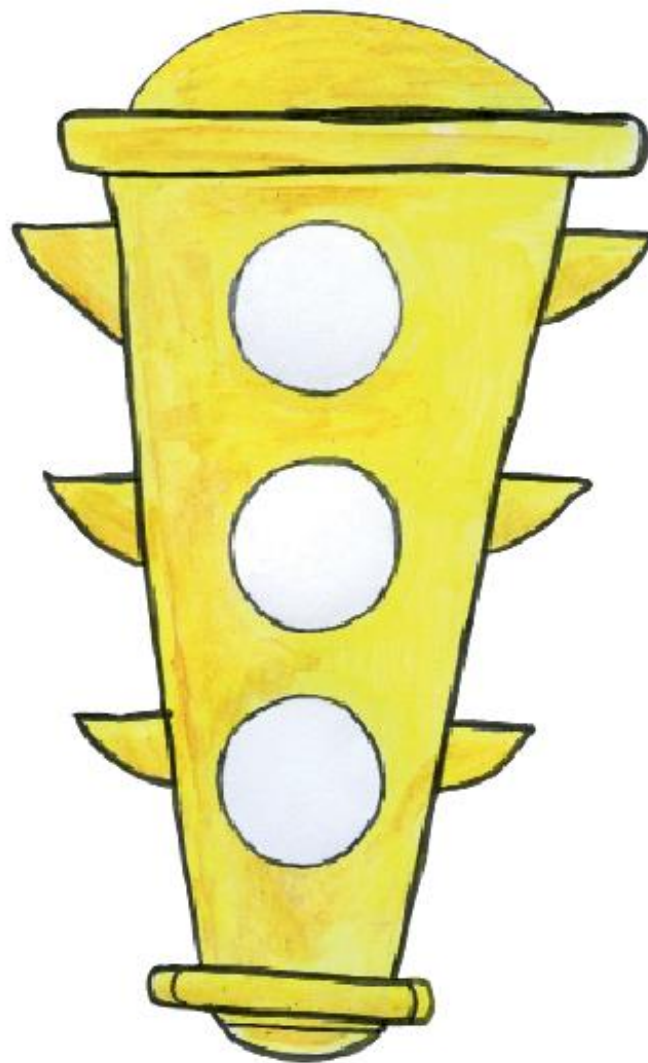


Miniproxecto:

- * Lee atentamente e sigue as indicacións que che damos continuación.
- 1. Colorea as luces do semáforo.
- 2. Pega o papel sobre cartolina.
- 3. Recorta polos bordes do semáforo.
- 4. Pega un baixalinguas.
- 5. Detrás de cada luz, escribe o que significa para o peón.

SEGUNDO GRADO

PERSONAL SOCIAL



Actividades:

- Pega no caderno e analiza unha noticia periodística sobre o tráfico na túa localidade.

COÑECER AS NORMAS DA SEGURIDADE VIARIA

- Escribe as normas de tráfico referidas aos peóns.

Blank writing lines for the first section.



Blank writing lines for the second section.



Blank writing lines for the third section.



Blank writing lines for the fourth section.

