

1. Tres maestros van en coche a trabajar a Soba: Miguel recorre 80 kilómetros desde Santander, Nagore 93 km desde Bilbao y Giovanna 19 km desde Ramales de la Victoria. ¿Cuántos kilómetros recorren entre los tres?



Datos:	Operación:
--------	------------

Solución: _____

2. Durante un divertido viaje en coche... Nagore cuenta 18 perros y Rebeca 34 vacas. ¿Cuántos perros menos que vacas han contado?



Datos:	Operación:
--------	------------

Solución: _____

3. La distancia entre Torrelavega y Ampuero es de 65 kilómetros. Y de Ampuero a Soba 33 Kilómetros. ¿Cuántos kilómetros hay desde Torrelavega hasta Soba, pasando por Ampuero?





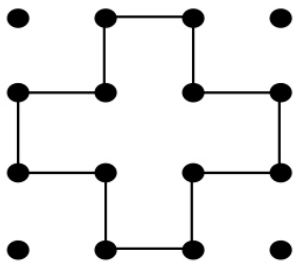
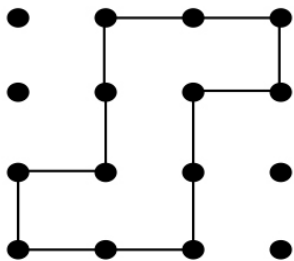
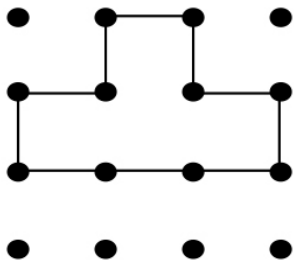
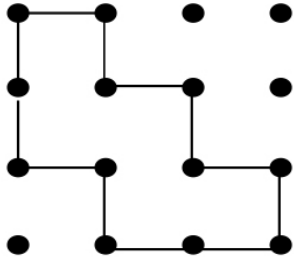
Datos:	Operación:
--------	------------



Solución: _____

Dibuja

Traza las líneas según el ejemplo.



DESARROLLO 3D DE UN CUBO

- Recortar
- - - Doblar
- · · Recorrido cuerda

