

Nombre _____ Fecha _____

Antonio, el del quiosco, ha vendido todos los globos que tenía en partes iguales a 3 hermanos. ¿Cuántos globos ha comprado cada uno de los hermanos?



1 Comprende.


Pregunta: _____

Datos: _____

2 Piensa qué hay que hacer.

- Una suma.
- Una división.
- Una multiplicación.

3 Calcula.



Solución: _____

En la escuela de baile de mi barrio hay 48 niños. Los profesores han formado grupos de 6 niños. ¿Cuántos grupos se han formado en total?

1 Comprende.


Pregunta: _____

Datos: _____

2 Piensa qué hay que hacer.

- Una suma.
- Una resta.
- Una división.

3 Calcula.



Solución: _____

Ficha 16

Nombre _____ Fecha _____

En un club de tenis tienen que guardar todas las pelotas en botes como este. ¿Cuántos botes necesitan para guardar 684 pelotas?



1 Comprende.


Pregunta: _____

Datos: _____

2 Piensa qué hay que hacer.

- Una suma.
- Una división.
- Una multiplicación.

3 Calcula.



Solución:

María tiene 88 margaritas para hacer 7 ramos iguales. ¿Cuántas margaritas tendrá cada ramo? ¿Cuántas le sobrarán?

1 Comprende.


Pregunta: _____

Datos: _____

2 Piensa qué hay que hacer.

- Una multiplicación.
- Una suma y una división.
- Una división.

3 Calcula.



Solución:
