

Ficha 13

Nombre _____ Fecha _____

Una fábrica de neumáticos tiene que fabricar ruedas para 232 camiones como este. ¿Cuántas ruedas tienen que fabricar en total?



1 Comprende.


Pregunta: _____

Datos: _____

2 Piensa qué hay que hacer.

- Una suma.
- Una resta y una suma.
- Una multiplicación.

3 Calcula.



Solución: _____

La hermana de David tiene 8 cajas de bombones como esta. ¿Cuántos bombones tiene la hermana de David?



1 Comprende.


Pregunta: _____

Datos: _____

2 Piensa qué hay que hacer.

- Una suma.
- Una suma y una multiplicación.
- Una multiplicación.

3 Calcula.



Solución: _____

Ficha 14

Nombre _____ Fecha _____

Luisa me ha pedido que le ayude a meter estas almendras garrapiñadas en partes iguales en las bolsas.
¿Cuántas almendras garrapiñadas habrá dentro de cada bolsita?



1 Comprende.


Pregunta: _____

Datos: _____

2 Piensa qué hay que hacer.

- Una suma.
- Una resta.
- Una división.

3 Calcula.



Solución: _____

Mariana tiene en su armario 24 camisetas repartidas en partes iguales en 4 cajones.
¿Cuántas camisetas hay en cada cajón?

1 Comprende.


Pregunta: _____

Datos: _____

2 Piensa qué hay que hacer.

- Una suma.
- Una multiplicación.
- Una división.

3 Calcula.



Solución: _____
