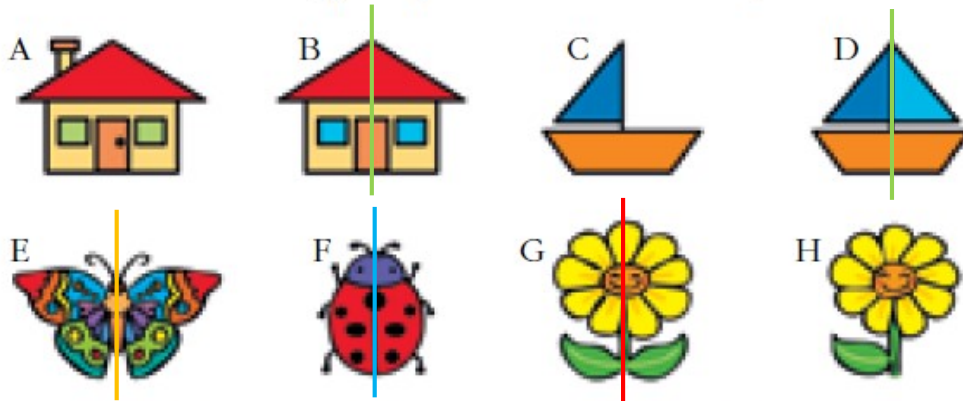
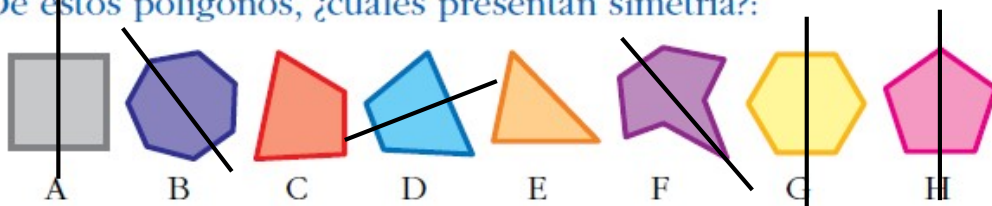


SIMETRÍAS

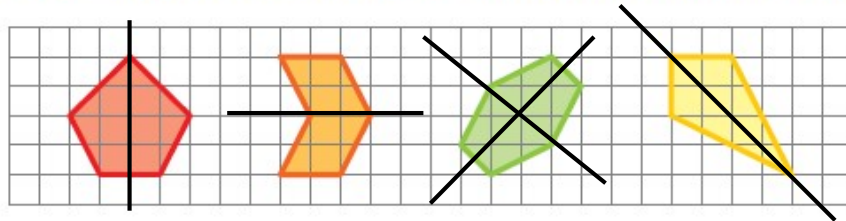
2 ¿En cuáles de estas figuras podemos trazar un eje de simetría?:



3 De estos polígonos, ¿cuáles presentan simetría?:



4 Todas estas figuras tienen ejes de simetría. Cópialas y trázalas.



Recordad:

Las simetrías funcionan como si pusiéramos un espejo.

Lo que hay a un lado del eje de simetría tiene que ser idéntico a lo que hay al otro lado.

