

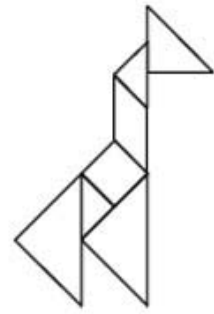
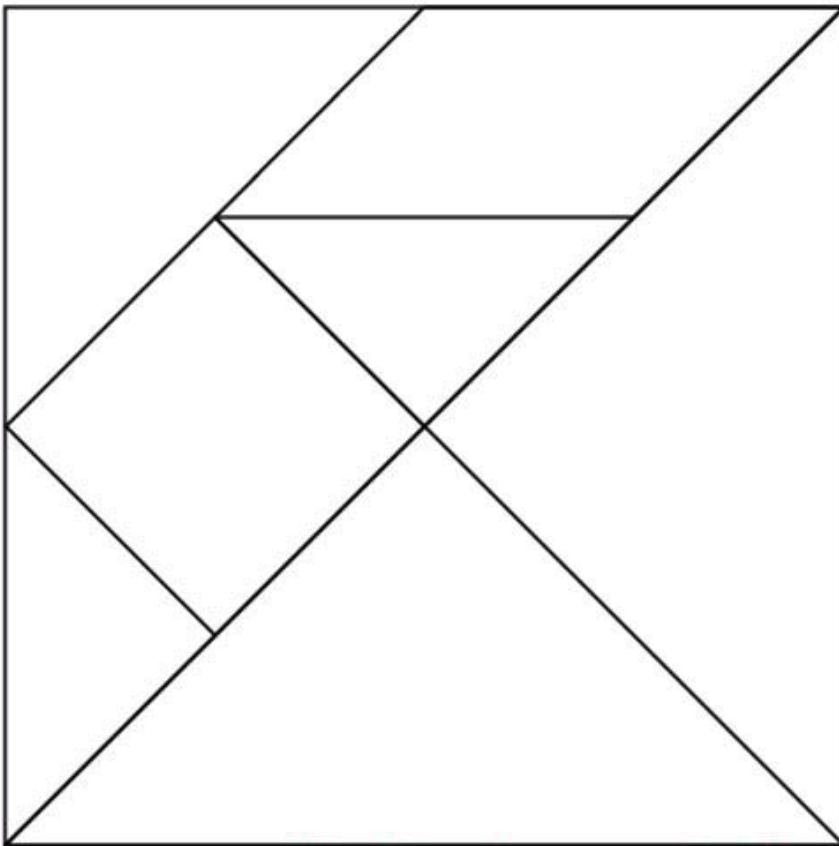
GEOMETRÍA Y TRATAMIENTO DE LA INFORMACIÓN

Dibuja las siguientes líneas o figuras:

Línea recta	
Línea curva abierta	
Línea curva cerrada	
Línea poligonal abierta	
Línea poligonal cerrada	
Polígono de 3 lados	
Polígono con 4 vértices	
Polígono con 2 lados iguales	

- Dibuja un paisaje empleando diferentes figuras geométricas (círculo, triángulo, cuadrado,...)

- Colorea y recorta las figuras y forma los animales recogidos en las plantillas. ¿Qué figuras son triángulos?, ¿Qué figuras son cuadriláteros?

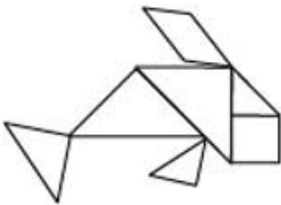


jirafa

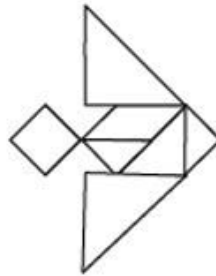


canguro

<http://www.imageneseducativas.com/>



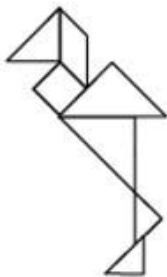
delfin



pez



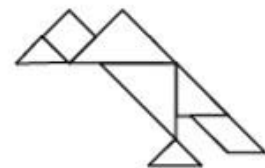
delfin



garza



caballo



buitre