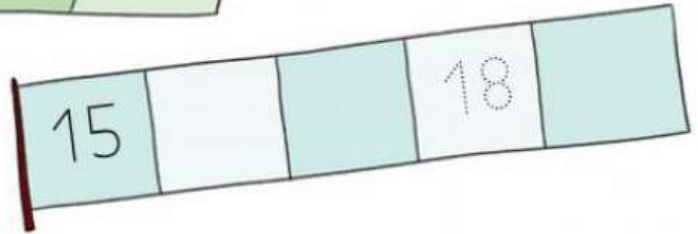

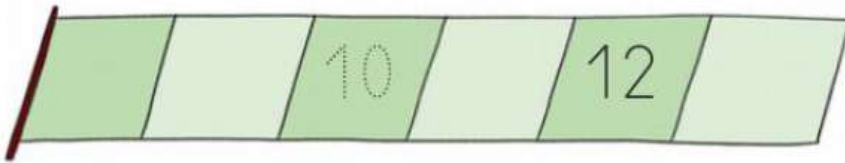
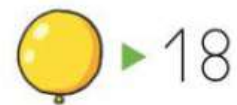
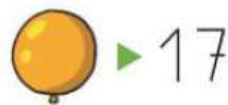



1 Completa las series.



2 Lee y colorea cada globo del color que corresponda.



3 Escribe cómo se lee cada número.

13 ►

14 ►

16 ►

19 ►

4 Los números hasta el 19

1 Lee, observa y resuelve.



• ¿Cuántos libros faltan por colocar?



► $\square - \square = \square$ Le faltan \square libros.



► $\square - \square = \square$ Le faltan \square libros.

2 Lee y resuelve.

Amanda quiere comprar un balón que cuesta 10 euros. Tiene 5 euros.

¿Cuántos euros le faltan?



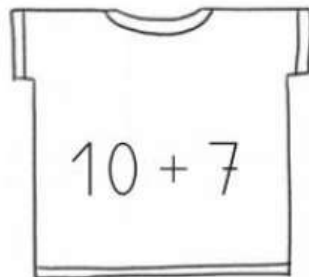
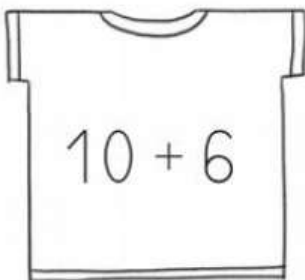
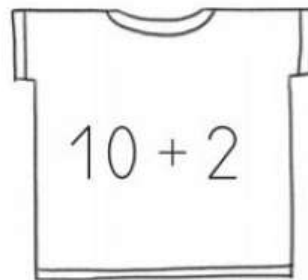
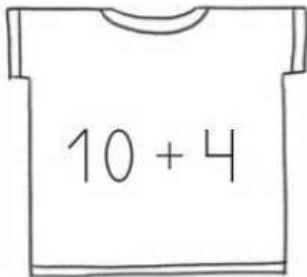
cuesta ► \square

tiene ► \square


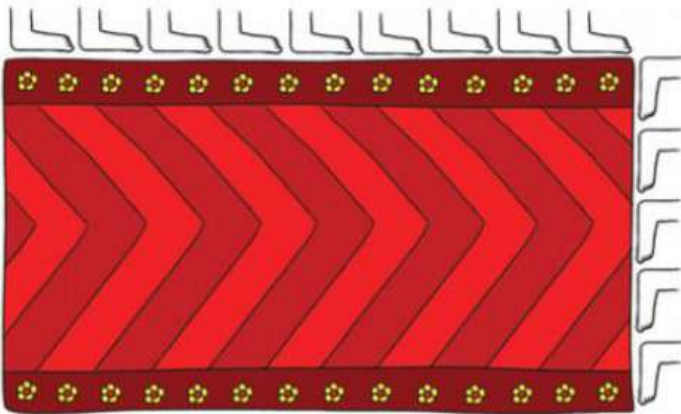
le faltan ► \square

Le faltan \square euros.

1 Lee los números y colorea del mismo color las prendas que correspondan.



1 Observa y completa.



Largo ►

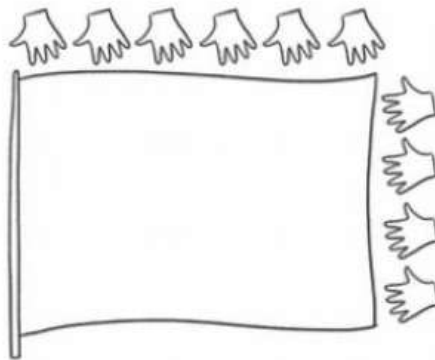

Largo ►

Ancho ►

Ancho ►

2 Lee y colorea.

La bandera azul mide 2 palmos más de largo que la roja.



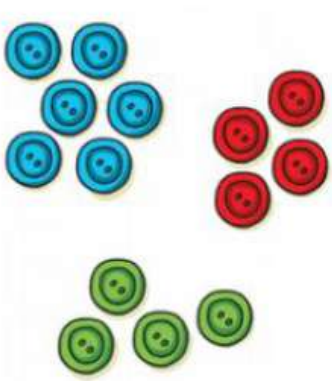

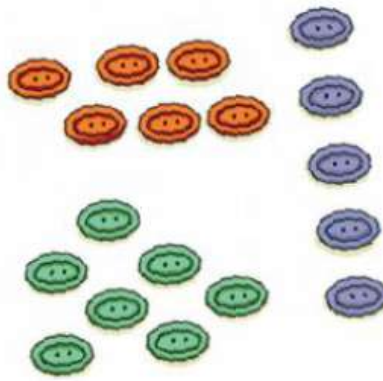
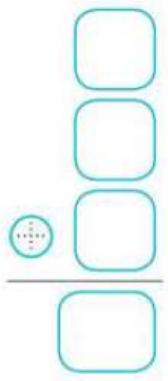
3 ¿Cuál de estas unidades de medida es mayor? Marca.

Un pie.

Un palmo.

Un paso.

1 ¿Cuántos botones hay en cada caso? Cuenta y completa.

				
---	---	--	--	---

2 Suma.

$$\begin{array}{r} 5 \\ 3 \\ +6 \\ \hline \square \end{array}$$

$$\begin{array}{r} 4 \\ 2 \\ +5 \\ \hline \square \end{array}$$

$$\begin{array}{r} 5 \\ 4 \\ +7 \\ \hline \square \end{array}$$


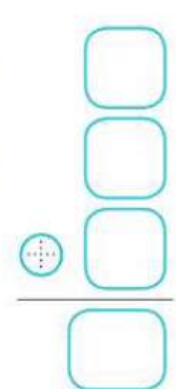
$$\begin{array}{r} 8 \\ 5 \\ +3 \\ \hline \square \end{array}$$

$$\begin{array}{r} 9 \\ 6 \\ +2 \\ \hline \square \end{array}$$

3 Resuelve.

Celia tiene 4 caramelos de fresa,
3 de naranja y 5 de limón.
¿Cuántos caramelos tiene en total?

Tiene caramelos.

	
---	---

1 Resuelve.

- Pablo tenía 13 llaveros. Paula le regala 6 más. ¿Cuántos llaveros tiene ahora Pablo?



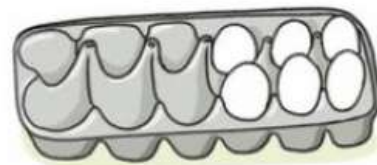
tenía ►

le regalan ►

ahora tiene ►

Tiene llaveros.

- En una huevera caben 12 huevos. Ahora hay 6 huevos. ¿Cuántos huevos faltan para rellenar la huevera?



caben ►

hay ►

faltan ►

Faltan huevos.

- Antonio tiene 11 nueces. Se come 5. ¿Cuántas nueces le sobran?



- =

Le sobran nueces.

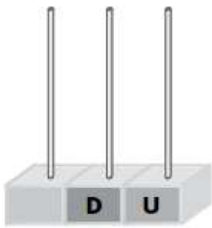
UNIDAD 4
Matemáticas

AR



Nombre y apellidos:

Curso: Fecha:


★ Completa y escribe cómo se lee el número mayor.



45



42



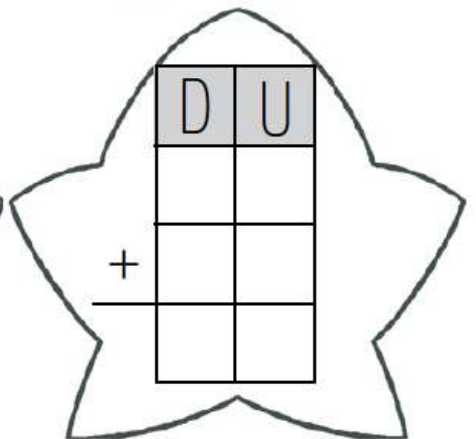
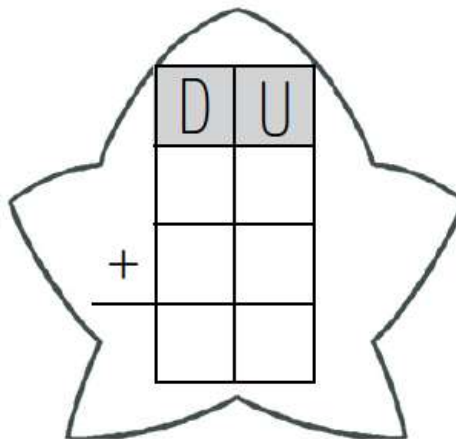
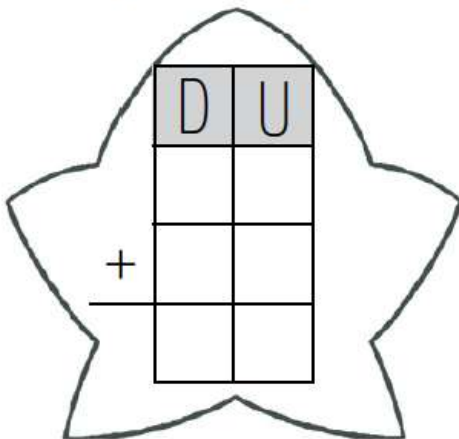
Número mayor:

★ Coloca, suma y colorea de rojo la estrella con el resultado mayor.

$36 + 10$

$35 + 14$

$43 + 5$



★ Sigue la serie.

