

Unidad 8. Muchas felicidades

Nombre: _____ Curso: _____ Fecha: _____

¿Te acuerdas?

4. ¿Qué número tiene cada niño en su camiseta? Lee y escribe el número de cada jugador.

20

81

40


38

19

Mi número está
entre 16 y 24

Yo tengo el número
con 8 D

El número de
mi camiseta es
el siguiente al
39



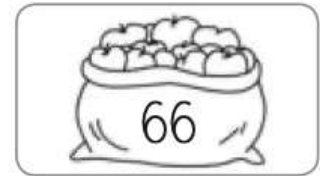
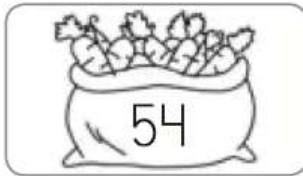
El número de mi
camiseta tiene 9 U

Mi número es
el resultado
de $15 + 23$

Números del 50 al 69

Alumno: _____ Curso: _____ Fecha: _____

1 Escribe con letra la cantidad de cada producto.




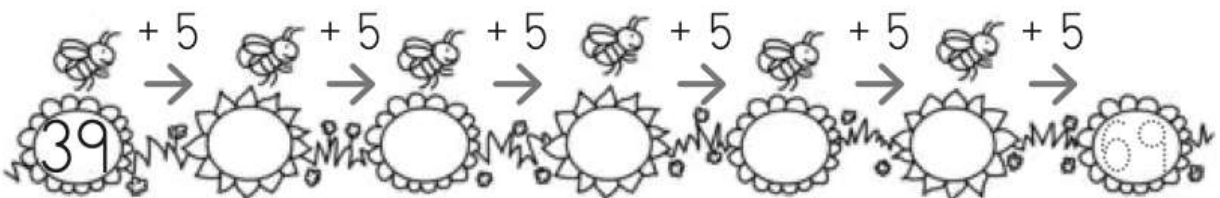




2 Completa los números que faltan.

50	51		53	54			57		59
	61			64	65				69

3 Continúa cada serie.



Alumno: _____ Curso: _____ Fecha: _____

1 Completa las sumas y calcula.



$$\begin{array}{r} 13 \\ + \square \\ \hline \square \end{array}$$

$$\square + 11 = \square$$

2 Calcula estas sumas.

$$22 + 37 = \square$$

$$\begin{array}{r} 16 \\ + 43 \\ \hline \square \end{array}$$

$$\begin{array}{r} 33 \\ + 26 \\ \hline \square \end{array}$$

$$38 + 21 = \square$$

3 Colorea la operación correcta y resuelve.

Saíd recoge 23  y 34 .


¿Cuántas frutas recoge en total?

$$\square \bigcirc \square = \square$$

$$23 + 34$$

$$34 - 23$$

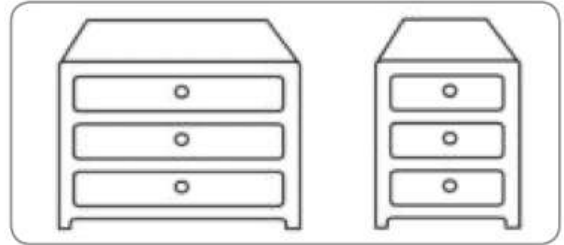
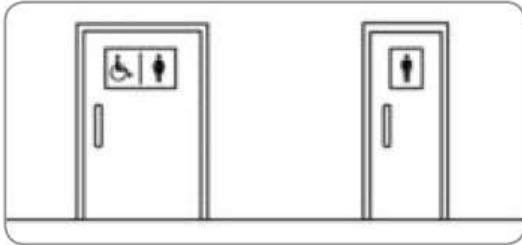
En total recoge \square frutas.




Ancho y estrecho

Alumno: _____ Curso: _____ Fecha: _____


1 Rodea en cada caso el objeto más ancho.



2 ¿Qué pantalón le gusta más a Ana? Colorea el cartel correcto.

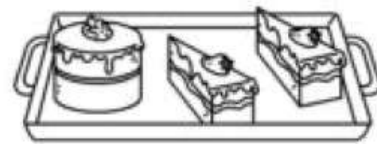
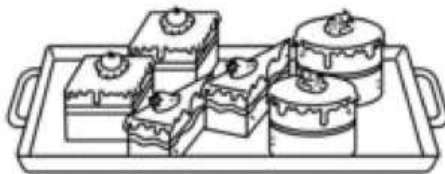



El más estrecho.



El más ancho.

3 Completa con ancha o estrecha.



La bandeja más tiene
 más  que la más .