

FICHA 5

1 Colorea en cada caso según la clave.


 el número mayor


 el número menor

34 < 26 45 < 18 58 < 52 65 < 64

57 < 19 < 61 21 < 15 < 17 76 < 72 < 69





2 Lee y escribe los números.





Un número con 6 unidades, mayor que 43 y menor que 53. 

Un número con 0 unidades, mayor que 50 y menor que 70. 

3 Piensa y completa con > o <.

59 65 67 52 73 78

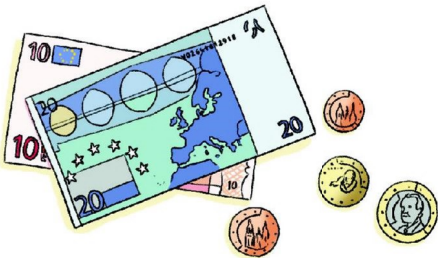
 ○   ○ 

 ○   ○ 

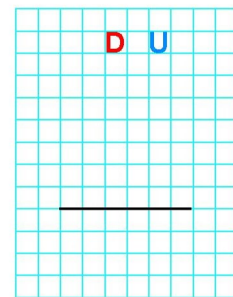
1 Resuelve.

- Andrés pagó en la tienda 33 euros y Ángela pagó 12 euros menos que Andrés. ¿Cuántos euros pagó Ángela?

Andrés ► Ángela ►



OPERACIÓN

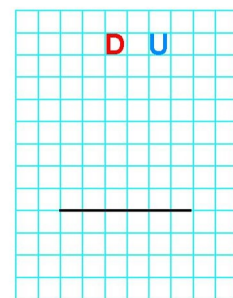


SOLUCIÓN Pagó

- El papá de Aurora tiene 48 años y su madre 5 años menos. ¿Qué edad tiene la mamá de Aurora?

papá ►
 mamá ►

OPERACIÓN



SOLUCIÓN Tiene

Comparo números

1 Lee y completa.

Escribe dos comparaciones de números utilizando el signo $>$.

$>$ $>$



Compara de nuevo los mismos números, pero ahora utilizando el signo $<$.

$<$ $<$



Ordena de mayor a menor los números que has escrito. ¿Cuál es mayor? ¿Y menor? Completa.

$>$ $>$ $>$



El número mayor \blacktriangleright

El número menor \blacktriangleright

2 Escoge un número de la actividad anterior. ¿Qué número es mayor, su número anterior o el posterior?

Es mayor

- 1 Calcula y colorea el caracol que ganó la carrera.

Ganó el caracol con el resultado mayor.

$$\begin{array}{r} 20 \\ + 31 \\ \hline \square \end{array}$$

$$\begin{array}{r} 78 \\ - 26 \\ \hline \square \end{array}$$

- 2 Lee y calcula cuántas conchas recogió cada niño.

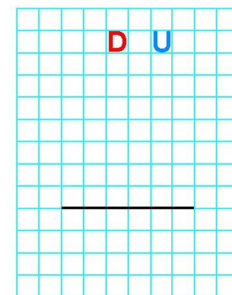
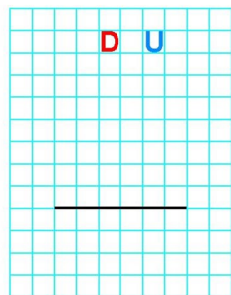
Soy Pedro.
He recogido
35 conchas.



Y yo, 14 conchas
más que Pedro.



Yo he recogido
12 conchas
menos que él.



Recogió

Recogió