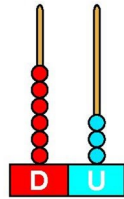


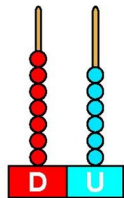
# FICHA 1

1 Observa y completa.




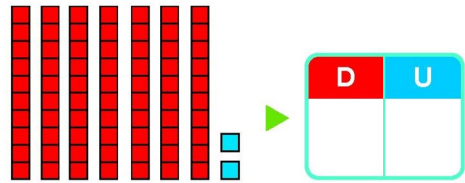

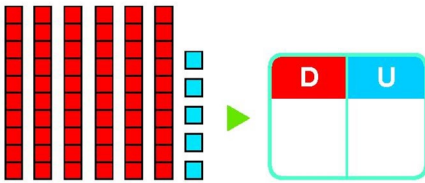
decenas y  unidades

+  =



decenas y  unidades

+  =



2 Completa. Después escribe cómo se leen los números de las casillas de color.

	59	
--	----	--

69		
----	--	--

		79
--	--	----

61		
----	--	--

		75
--	--	----

	76	
--	----	--

► 


► 


► 


► 

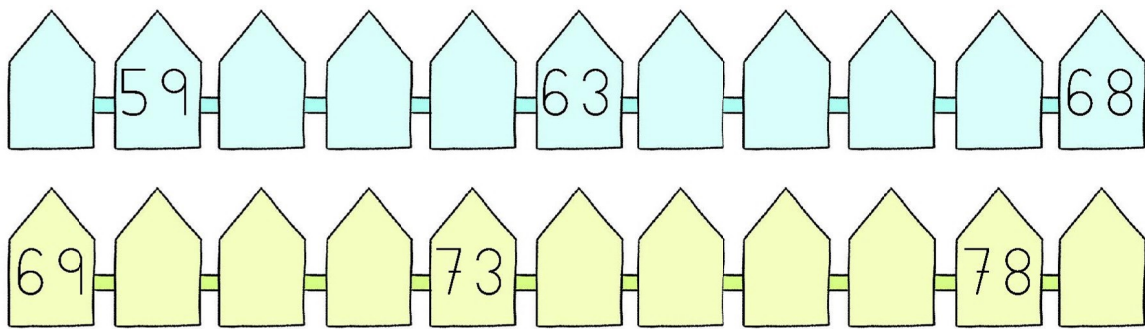

## 1 Completa.

4 decenas y 3 unidades ▶  +  =

6 decenas y 4 unidades ▶  +  =

7 decenas y 7 unidades ▶  +  =

## 2 Escribe los números que faltan.



## 3 Piensa y escribe.

Tres números cuya cifra de las decenas es 5.

Tres números cuya cifra de las decenas es 7.

Tres números cuya cifra de las unidades es 9.

Tres números cuya cifra de las unidades es 0.

## FICHA 3

1 Resta.


$$\begin{array}{r} 38 \\ -24 \\ \hline \square \end{array}$$

$$\begin{array}{r} 57 \\ -32 \\ \hline \square \end{array}$$

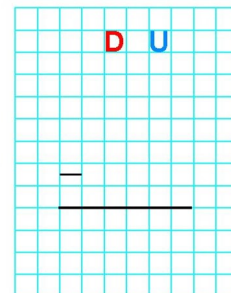
$$\begin{array}{r} 76 \\ -55 \\ \hline \square \end{array}$$

2 Repasa las restas y tacha lo que está mal en el resultado. Después, escríbelas corregidas.

$$\begin{array}{r} 46 \\ -20 \\ \hline 24 \end{array}$$



$$\begin{array}{r} 49 \\ -41 \\ \hline 18 \end{array}$$



3 ¿Qué números faltan? Piensa y completa.

$\begin{array}{r} 58 \\ - \square \\ \hline 52 \end{array}$	$\begin{array}{r} 35 \\ - \square \\ \hline 30 \end{array}$	$\begin{array}{r} 49 \\ - \square \\ \hline 28 \end{array}$	$\begin{array}{r} 76 \\ - \square \\ \hline 31 \end{array}$	$\begin{array}{r} 69 \\ - \square \\ \hline 22 \end{array}$
---	---	---	---	---

1 Coloca los números y calcula.

$58 - 36$

$47 - 12$

$69 - 31$

$75 - 63$

2 Imagina el resultado y rodea. Después, resta y comprueba.



Resultado mayor que 20.



Resultado menor que 20.

$$\begin{array}{r} 55 \\ - 4 \\ \hline \square \end{array}$$

$$\begin{array}{r} 71 \\ - 20 \\ \hline \square \end{array}$$

$$\begin{array}{r} 66 \\ - 55 \\ \hline \square \end{array}$$

$$\begin{array}{r} 75 \\ - 60 \\ \hline \square \end{array}$$

3 Resuelve el problema.

Un autobús tiene 55 asientos para pasajeros. Están ocupados 32.  
¿Cuántos asientos libres quedan?

OPERACIÓN

SOLUCIÓN

Quedan